


الفرقة : الثالثه المجال: الاقتصاد الزراعي والتنمية الريفية الزمن : ساعتان عدد صفحات الأسئلة: صفحة واحدة	الامتحان التحريري النهائي المادة : إحصاء إقتصادى العام الجامعى: ٢٠١٥/٢٠١٤ تاريخ الامتحان: ٢٠١٥/٥/٣١	 قسم: الاقتصاد الزراعى
--	--	--

السؤال الأول: (٢٠ درجة)

عند دراسة العلاقة بين الكمية المعروضة من السلعة Y عند مختلف المستويات السعرية X أمكن الحصول على القياسات التالية :

$$\begin{aligned} \sum X &= 160 & \sum Y &= 170 & \sum x^2 &= 630 \\ \sum y^2 &= 200 & \sum xy &= 515 & n &= 20 \end{aligned}$$

والمطلوب:

١. تقدر العلاقة بين الكمية والسعر على الشكل $\hat{Y} = \hat{a} + \hat{b}X$
٢. احسب معامل التحديد r^2 وقرأ منلوله الإحصائى
٣. اختر معنوية ميل الدالة، علماً بأن قيمة t الجدولية المناسبة (١٠، ٢٠)
٤. تتبا بالكمية المعروضة عندما يكون السعر ٧٥ وحدة نقدية

السؤال الثانى: (٢٠ درجة)

١. عند دراسة متوسط صافي الربح لمزرتين فى منطفه معينة خلال العشر سنوات الأخيرة تتجان نفس النواتج وتتبعان نفس الأساليب الإنتاجية، إلا أن كل منهما كان لها إدارة خاصة بها وكان صافى الأرباح بكل منهما خلال العشر سنوات الأخيرة على النحو المبين بالجدول التالى:

Variable 1	10	12	9	15	11	13	14	8	12	10
Variable 2	15	10	15	16	13	14	13	12	14	12

فهل يعزى الاختلاف فى الأرباح إلى الاختلاف فى النظم الإدارية علماً بأن قيمة (t) الجدولية المناسبة ٢٠، ٢٢٢. استخدم اختبار مقارنة أزواج. (١٥ درجة)

٢. لدراسة متوسط وزن العبوة لأحد أنواع المربيات المنتجة من أحد مصانع الأعنيز، ما هو حجم العينة اللازم بحيث أن متوسط العينة لا يفتت، عن متوسط إنتاج المصنع من هذا المنتج بنحو ١٠ جم وذلك باحتمال ٩٩%، علماً بأن الانحراف المعيارى لوزن العوات الت، بنتجها هو ٥. مع لهذا النوع من المربيات هو ٥ جم. (٥ درجات)

السؤال الثالث: (٢٠ درجة)

عند دراسة تأثير مستويات التسميد الأزوتى والصنف المزروع من الذرة الشامية على إنتاجية الفدان، تم تصميم التجربة لدراسة تأثير ثلاث مستويات من التسميد الأزوتى A1, A2, A3 على خمسة اصناف من الذرة الشامية V1, V2, V3, V4, V5. وتم تسجيل البيانات التالية:

$$\begin{aligned} \sum x_{ij} &= 240 & \sum x_{ij}^2 &= 3940 & \sum x_{1.} &= 65 & \sum x_{2.} &= 85 & \sum x_{3.} &= 90 \\ \sum x_{.1} &= 44 & \sum x_{.2} &= 51 & \sum x_{.3} &= 47 & \sum x_{.4} &= 48 & \sum x_{.5} &= 50 \end{aligned}$$

والمطلوب:

١. تكوين جدول تحليل التباين
٢. صياغة المشكلة الإحصائية
٣. اختبار معنوية أثر كل من مستوى التسميد والصنف المزروع على إنتاجية الفدان (جدول توزيع F فى ظهر ورقة الأسئلة).

مع أطيب الأمنيات بالتوفيق...

د. يسرا السعودى شقرة

أ.د. حسن نبه أبو سعد

أ.د. رجب مغاوى دين







Table of F-statistics P=0.05

$v_2 \backslash v_1$	1	2	3	4	5	6	7	8	9	10	11	12	13	14	15	16	17	18	19	20	22	24
3	10.13	9.55	9.28	9.12	9.01	8.94	8.89	8.85	8.81	8.79	8.76	8.74	8.73	8.71	8.7	8.69	8.68	8.67	8.67	8.66	8.65	8.64
4	7.71	6.94	6.59	6.39	6.26	6.16	6.09	6.04	6	5.96	5.94	5.91	5.89	5.87	5.86	5.84	5.83	5.82	5.81	5.8	5.79	5.77
5	6.61	5.79	5.41	5.19	5.05	4.95	4.88	4.82	4.77	4.74	4.7	4.68	4.66	4.64	4.62	4.6	4.59	4.58	4.57	4.56	4.54	4.53
6	5.99	5.14	4.76	4.53	4.39	4.28	4.21	4.15	4.1	4.06	4.03	4	3.98	3.96	3.94	3.92	3.91	3.9	3.88	3.87	3.86	3.84
7	5.59	4.74	4.35	4.12	3.97	3.87	3.79	3.73	3.68	3.64	3.6	3.57	3.55	3.53	3.51	3.49	3.48	3.47	3.46	3.44	3.43	3.41
8	5.32	4.46	4.07	3.84	3.69	3.58	3.5	3.44	3.39	3.35	3.31	3.28	3.26	3.24	3.22	3.2	3.19	3.17	3.16	3.15	3.13	3.12
9	5.12	4.26	3.86	3.63	3.48	3.37	3.29	3.23	3.18	3.14	3.1	3.07	3.05	3.03	3.01	2.99	2.97	2.96	2.95	2.94	2.92	2.9
10	4.96	4.1	3.71	3.48	3.33	3.22	3.14	3.07	3.02	2.98	2.94	2.91	2.89	2.86	2.85	2.83	2.81	2.8	2.79	2.77	2.75	2.74
11	4.84	3.98	3.59	3.36	3.2	3.09	3.01	2.95	2.9	2.85	2.82	2.79	2.76	2.74	2.72	2.7	2.69	2.67	2.66	2.65	2.63	2.61
12	4.75	3.89	3.49	3.26	3.11	3	2.91	2.85	2.8	2.75	2.72	2.69	2.66	2.64	2.62	2.6	2.58	2.57	2.56	2.54	2.52	2.51
13	4.67	3.81	3.41	3.18	3.03	2.92	2.83	2.77	2.71	2.67	2.63	2.6	2.58	2.55	2.53	2.51	2.5	2.48	2.47	2.46	2.44	2.42
14	4.6	3.74	3.34	3.11	2.96	2.85	2.76	2.7	2.65	2.6	2.57	2.53	2.51	2.48	2.46	2.44	2.43	2.41	2.4	2.39	2.37	2.35
15	4.54	3.68	3.29	3.06	2.9	2.79	2.71	2.64	2.59	2.54	2.51	2.48	2.45	2.42	2.4	2.38	2.37	2.35	2.34	2.33	2.31	2.29

المستوى: الثاني + أى مستويات أخرى الشعبة: إدارة الأعمال الزراعية الزمن: ساعتان عدد صفحات الأسئلة: صفحة واحدة	الامتحان التحريري النهائي المادة : احصاء عام ق ٢٠١ تاريخ الامتحان: ٢٠١٥/٥/٣٠	 قسم الاقتصاد الزراعى
---	--	---

السؤال الأول (٢٠ درجة)

- أ- فرق مستعيناً بالرسم بين اختبارات الذيل العلوى والذيل السفلى والذيلين
 ب- البيانات التالية تبين إنتاجية الفدان لصنفين من البطاطس (X, Y) زرعاً بنفس المعاملات الزراعية فى قطعتين من الأراضى الزراعية.

X	10	13	15	16	14	14	13	14	10	11
Y	13	15	15	16	17	17	16	16	12	13

اختر معنوية الفرق بين متوسط إنتاجية الصنفين مستخدماً فى ذلك أسلوب مقارنة الأزواج، علماً بأن قيمة (t) الجدولية المناسبة = ٢.٢٦

السؤال الثانى (٢٠ درجة)

- البيانات التالية تشير إلى الكميات المعروضة من البطاطس المنتجة حيوياً بالآلف طن (Y) وسعر الطن بالآلف جنيه (X) والمطابوب :

١. تقدير دالة العرض على الصورة $Y = a + b X$ مفسراً مدلول ثوابت الدالة

٢. حساب معامل التحديد مفسراً مدلوله الإحصائى

٣. اختر معنوية ميل الدالة المتحصل عليه عما بأن قيمة (t) الجدولية المناسبة = ٢.٣٠٦

X	3	5	4	5	6	3	4	4	5	6
Y	5	8	7	8	11	4	9	7	9	12

السؤال الثالث (٢٠ درجة)

تدعى إحدى الشركات المنتجة للتقاوى أنها تنتج تقاوى ذرة شامية هجين فردى متوسط إنتاج الفدان منه ٣٠ أردب بانحراف معيارى يبلغ ١٠ أردب، وللتحقق من صحة هذا الادعاء أخذت عينة مكونة من ١٠٠ فدان مرروعة بهذا الصنف وتم حساب متوسط إنتاج الفدان فوجد أنه ٢٨ أردب. استخدم اختبار ذيل سفلى عند مستوى معنوية ٠.٠١ لتقرير قبول أو رفض ادعاء الشركة.

مع حالىص التمنيات بالنجاح،،،

أ.د. رجب مغاورى زين أ.د. حسن نبيه أبو سعد د. يسرا السعودى شقرة

(Handwritten signatures)



أجب عن الأسئلة التالية:

- (١٥ درجة)
- السؤال الاول: ضع علامة (√) أو (X) أمام كل عبارة من العبارات التالية مع التعليل في كل حالة:
١. لا يحنف التامين على أساس الإيراد المحصولي عن التامين على أساس الإنتاجية.
 ٢. ليس هناك فرق بين عقود ادارة الانتاج وعقود الإمداد بالمستلزمات.
 ٣. يؤدي التخصص النطاقي للزراعة إلى تنوع الحزم الائتمانية التي تقدمها البنوك الزراعية.
 ٤. يلجا البنك المركزي إلى خفض أسعار الخصم في فترات الكساد.
 ٥. تعد بطاقات الائتمان التي تمنحها البنوك لعملائها أحد أشكال النقود.
 ٦. يعد دعم أسعار الفائدة أحد الآليات الفعالة في تبنى الزراع للتكنولوجيات الحديثة في الزراعة.
 ٧. لا يختلف مفهوم سعر الفائدة المدينة عن مفهوم سعر الخصم.
 ٨. لا تختلف درجة استقرار الودائع تحت الطلب عن تلك الحاصفة بالودائع لأجل.
 ٩. لا تختلف العوامل المحددة للطلب على الائتمان عن تلك المحددة للطلب على النقود.
 ١٠. لا تختلف مخاطرة انتخاف عن السداد عن مخاطرة السوق التي تواجه المؤسسات المالية.
 ١١. يؤدي كل من التركيب التنافسي للزراعة و ضخامة رأس المال الثابت في المشروعات الزراعية إلى زيادة درجة المخاطر التي تواجه المؤسسات التمويلية الزراعية.
 ١٢. لا يتعامل البنك المركزي مع صغار العملاء بل يقتصر عمله على كبار العملاء.
 ١٣. يعد دعم أسعار الفائدة أحد الآليات الفعالة في إعادة توزيع الدخل بالمجتمع.
 ١٤. تغير نسبة السبولة العامة عن حاصل قسمة الموجودات الجارية على اجمالي المطلوبات.
 ١٥. يلعب البنك المركزي دورا هاما في تحديد حجم الطلب على النقود من خلال العديد من الأدوات.

(١٥ درجة)

السؤال الثاني:

- أ- اشرح مكونات سعر الفائدة على القروض الزراعية مع بيان العوامل التي يجب أخذها في الاعتبار عند اتخاذ قرار بقرضها.
- ب- يعد ضعف الضمانات المتاحة للمزارعين أحد اهم المشاكل التي تواجه البنوك الزراعية، ناقش هذه المشكلة مع بيان الأنواع المختلفة للضمانات وطبيعتها كل منها، وكيف يمكن للبنوك الزراعية التغلب على تلك المشكلة؟
- ج- أذكر أهم عناصر السياسة الائتمانية من المنظور التمصري مع شرح موجز لعنصرين من عناصرها.

(١٠ درجة)


السؤال الثالث:

- أ- اذكر بياجز المبادئ الأساسية للتمويل متناهي الصغر؟
- ب- ارسم نموذجا توضيحيًا للعلاقات السببية بين كل من ارتفاع درجة المخاطر التي يتعرض لها الانتاج الزراعي، ومستوى الطلب على الائتمان، ومستوى الناتج الزراعي، وأسعار الفائدة، ونوع الضمانات المطلوبة، والمستوى المستخدم من التكنولوجيا الزراعية، ونسب السداد، والمراكز المالية للبنوك الزراعية.

السؤال الرابع:

- (٢٠ درجة)
- أ- فَرِّق بين كل من الأسيح والسندات مع بيان أنواع الأسهم وأنواع السندات؟
 - ب- فرق بين كل من المراجعة والمضاربة كصيغ للتمويل الإسلامي من حيث مفهوم كل منهما والشروط الخاصة بكل منهما؟
 - ج- مزارع حصل على قرض بمبلغ ١٠٠.٠٠٠ جنية (مائة ألف جنية) على أن يسدد على عشرة أقساط نصف سنوية (قسط كل ستة أشهر) وفترة سماح لمدة سنة سعر فائدة ٦% والمطلوب تصوير حساب الفوائد والقسط السنوي الذي تدق إذا ما تم:
 ١. سداد أصل القرض على أقساط نصف سنوية متساوية واحساب الفوائد على الرصيد غير المستحق.
 ٢. رسملة فوائد فترة السماح ولسداد بطريقة الأقساط المتساوية.

مع تمنياتي بالتوفيق ""

<p>الفرقة : الثالثة المجال : تكنولوجيا الاغذية والاليان الشعبة : صناعات واليان الزمن : ساعتان عدد صفحات الاسئلة : واحدة</p>	<p>الامتحان التحريري النهائي المادة : التسويق وادارة مصانع الاغذية والاليان الفصل الدراسي : (الثاني) العام الجامعي : (٢٠١٤/٢٠١٥) تاريخ الامتحان : ٢٠١٥/٥/٣١</p>	 <p>قسم : الاقتصاد الزراعي</p>
---	---	---

*أجب عن جميع الأسئلة التالية مستعينا بالرسوم البيانية والمعادلات الرياضية كلما امكن ذلك

السؤال الأول : ٢٠ درجة

أ - عرف كل من المصطلحات الآتية : الانتاج والتسويق الزراعي - المخاطر وعدم التأكد - دليل الاسعار - وفورات السعد - مرونة الطلب . (٧ درجة)

ب- ناقش كيف تساهم العلوم الادارية في اتخاذ القرارات الاقتصادية السليمة للمشروعات وكذلك أهم القرارات التي تؤثر على ابقاء المشروع واستمرارية ونموه . (٧ درجة)

ج- وضح أهم الفروق بين علم الاقتصاد وعلم اقتصاديات الادارة . (٦ درجة)

السؤال الثاني : ٢٠ درجة

أ - فان في صورة مبسطة بين انواع التكاليف المختلفة واسباس المقارنه بينها . (٧ درجة)

ب - كيف يمكن قياس التكاليف في كل من المدى القصير والمدى الطويل . (٦ درجة)

ج- ما هي أهم طرق التنبأ بالطلب . (٧ درجة)

السؤال الثالث : ٢٠ درجة

أ - ناقش أهم طرق تسعير السلع الزراعية مع بيان مميزات وعيوب كل طريقة . (١٠ درجة)

ب - ماذا يقصد بسوق منافسة احتكارية ، وكيف يمكن تسعير الوحده من السلعه في هذا السوق . (١٠ درجة)

تمنيتي بالتوفيق،

لجنة وضع الأسئلة:

الاسم : أ.د (صبيح ابوالنجا) ، الاسم : د (محمود عبد المنعم) ، الاسم : د (يسرى السعودى)

الإمتحان التحريري النهائي



الفرقة: الثالثة

المادة: إقتصاديات الأراضي

لائحة قديمة

المجال: الأراضي والمياه

العام الجامعي: ٢٠١٤-٢٠١٥

زمن الإمتحان: ساعتان

الاسم الإقتصادي الزراعي

تاريخ الإمتحان: الأربعاء ٢٧/٥/٢٠١٥ عدد صفحات الأسئلة: صفحة واحدة

أجب عن الأسئلة التالية

السؤال الأول (٢٠ درجة)

١. تعتبر نظرية ريع الأراضي من أهم النظريات التي إرتبطت بعلم الإقتصاد منذ نشأته، هذا الإهتمام الكبير بموضوع الريع في مختلف المدارس الفكرية الإقتصادية جاء على اتصال مباشر بنظريتين غاية في الأهمية هما قانون تناقص الغلة من جهة ونظريات التوازن من جهة أخرى. اشرح مستعينا بالرسم التوضيحية كلما أمكن ما يلي:
 ١. المفهوم التمييزي والمفهوم الإقتصادي لتناقص الغلة
 ٢. نظرية فون ثونين لأثر الموقع على نوعية النشاط الإقتصادي
 ٣. الموقع وإيجار الأرض وفق مفهوم إيجار هوفر
٢. هناك علاقة جدلية ملحوظة بين الموارد والنمو الإقتصادي - اشرح مستعينا بالرسم البياني العلاقة بين السكان والموارد من وجهات النظر التفاضلية والتساوية والمعدلة؟

السؤال الثاني (٢٠ درجة):

١. يعتبر إستنزاف الموارد أحد التحديات الهامة التي تواجه مقدرة الموارد الأرضية الزراعية والقابلة للزراعة على الوفاء باحتياجات الغذائية لسكان الكرة الأرضية. في هذا الإطار اشرح باختصار المقصود بإستنزاف الموارد الأرضية وأهميه الفعل الإنساني تجاه البيئة.
٢. تعتبر موسوعة شخصية مصر - دراسة في عبقرية المكان لتعلامة جمال حمدان من أهم المراجع في مجال جغرافية مصر بأنواعها - في ضوء قراءتك لهذا المرجع إختار أحد الأقاليم الجغرافية موضحا شخصيته الإقليمية وما يعطى المنطقة التي إختارها نفرداها وتميزها بين سائر المناطق كمحاولة للنفوذ إلى روح هذا الإقليم لتستشف عبقرية الذاتية التي تحدد شخصيته؟

السؤال الثالث (٢٠ درجة):

١. إفترض أن الضريبة المربوطة على الأطنان الزراعية في منطقة ما تبلغ ٧% ، وأن صافي الإيجار السنوي للفدان في تلك المنطقة يبلغ ١٠٠٠ جنيه بزيادة قدرها ١٠٠ جنيه للسنة الثانية، و ٢٠٠ جنيه للسنة الثالثة، و ١٥٠ جنيه للسنة الرابعة. ماهي في تقديرك القيمة التقريبية لتضمن الفدان من هذه الأرض؟
٢. تتوزع مصانع إنتاج صلصلة الطماطم بين مدن بروج العرب والسادات والفيوم وبنى سويف وقفت/قنا. فإذا علمت أن: سعر بيع باب المزرعة يبلغ ٦٠٠ جنيه للطماطم الطازجة، وأن طن معجون الطماطم يحتاج إلى سنة اطنان من الطماطم الطازجة (سعدل التحويل ١:٦) ، وأن تكلفة نقل الطن من الطماطم الطازجة لمسافة كيلومتر واحد تبلغ ٢ جنيه، وأن تكاليف التسيير تنض من تمعجون تمثل نحو ٤٠% من تكلفة الطماطم الطازجة، وأن سعر بيع باب المصنع للطن من معجون الطماطم يعادل ٩٠٠ دولار للطن (وإن سعر صرف الدولار لأجنيه يبلغ ٧:١).
١. وضح مستعينا بخريطة كروكي المصادر التوريدية لكل مصنع في المناطق الخمس، هل تعتقد أن هناك تداخل بين تلك المناطق؟
٢. إفترض أن سعر بيع الطن من الطماطم الطازجة عند باب المزرعة إرتفع إلى ٨٠٠ جنيه للطن، هل يؤثر ذلك على مدى إتساع المصادر التوريدية؟

لجنة وضع الأسئلة: د. على عبد الفتاح السعيد ، أ.د. محمد مدحت مصطفى، أ.د. حسن نبيه أبوسعد

الإمتحان التحريري النهائي

المادة: تحليل الإدارة المزرعية

(ق ٣٠٦)

لائحة قديمة

العام الجامعي: ٢٠١٤-٢٠١٥

تاريخ الإمتحان: الأربعاء ٢٧/٥/٢٠١٥ عدد صفحات الأسئلة: صفحة واحدة



قسم الإقتصاد الزراعي

الفرقة: الثالثة

المجال: برنامج ادارة الأعمال المزرعية

القسم: الإقتصاد الزراعي

زمن الإمتحان: ساعتان

عدد صفحات الأسئلة: صفحة واحدة

أجب عن الأسئلة التالية

السؤال الأول (٢٠ درجة)

١. يتعين على مدير المزرعة إتخاذ العديد من القرارات في مجالات متعددة - وضح أهم أنواع هذه القرارات موضعا إجابتك بشكل تخطيطي
٢. في ظل ظروف العولمة من المهم لمديري الشركات الزراعية الإنتقال من التركيز فقط على الكفاءة والإهتمام بالتنافسية - وضح ذلك مستعينا بالرسم النوصي، يدية كلا من مفهومي الكفاءة والتنافسية؟

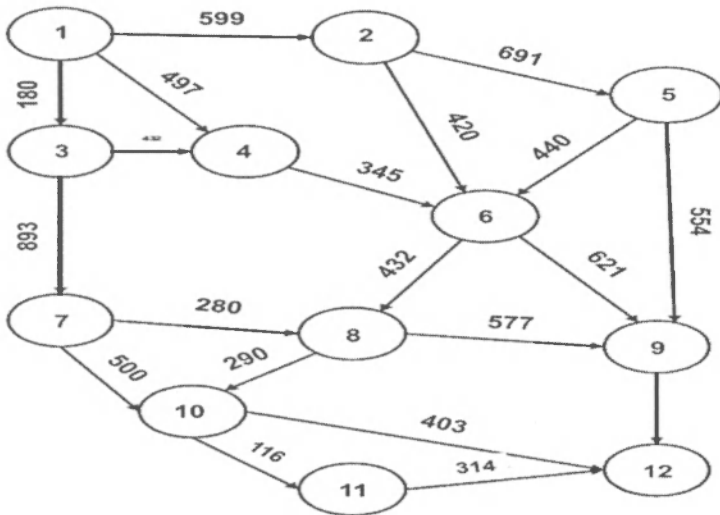
السؤال الثاني (٢٠ درجة):

يرغب أحد مديري مزارع التسمين في تعظيم العائد من عملية التسمين. ويمكن لهذا المدير إتخاذ أحد ثلاث قرارات، اما تسمين ٥٠ رأس أو ١٠٠ رأس أو ١٥٠ رأس. ولما كان توفر الاعلاف المرخرة أحد أهم محددات الإنتاج ومن ثم أحد أهم عناصر المخاطرة للمشروع، فقد قام المدير بإستقصاء سوق الاعلاف حيث تبين له أن احتمال ارتفاع أسعار الاعلاف المركزة بنسبة عالية يبلغ 0.2 احتمال ارتفاع الاسعار المركزة بنسبة متوسطة يبلغ 0.4 وإحتمال عدم تغير الاسعار الاعلاف المركزة يبلغ 0.4. ومن حسابات التكلفة والعائد تبين للمدير أن أرباح المشروع تبلغ ١٥٠٠ جنيه، ٣٠٠٠ جنيه، ٤٥٠٠ جنيه لتسمين ٥٠ رأس أو ١٠٠ رأس أو ١٥٠ رأس على الترتيب إذا لم تتغير اسعار الأعلاف، على حين تبلغ ٢٠٠٠ جنيه، ٢٥٠٠ جنيه، ٣٠٠٠ جنيه لتسمين ٥٠ رأس أو ١٠٠ رأس أو ١٥٠ رأس على الترتيب إذا تغيرت أسعار الأعلاف بنسبة متوسطة، أو صافي العائد سيبين ١٠٠٠ جنيه، أو خسارة ٥٠٠ جنيه، أو خسارة ١٠٠٠ جنيه لتسمين ٥٠ رأس أو ١٠٠ رأس أو ١٥٠ رأس على الترتيب إذا زادت اسعار الاعلاف بنسبة عالية.

١. ماهو القرار الامثل للمدير في ضوء نماذج إتخاذ القرارات تحت ظروف المخاطرة التي درستها.
٢. إذا لم يكن لدى المدير أية فكرة عن احتمالات تغير الاسعار (ظروف اللابقين)، ماهو قراره الامثل في هذه الحالة.
٣. هل تعتقد أن إستخدام المدير لدالة المنفعة سوف يحسن قراره - اشرح ذلك بحساب القرار الامثل للمدير إذا ما استخدم هذا الاسلوب (علما بان قيمة معامل المخاطرة $r=15.7$ ، وأن دالة المنفعة تأخذ الصورة الاسية $U(x) = 1 - e^{-x/r}$).

السؤال الثالث (٢٠ درجة):

يملك أحد مديري المزارع أتوبيس لنقل العمال الى المزرعة كل اسبوع. وتمثل الشبكة التالية خطوط السير الممكنة للسيارة من النقطة ١ (نقطة البداية) إلى العقدة ١٢ (نقطة النهاية) والمراد تعيين أقصر مسافة خط سير له، يارة



لجنة وضع الأسئلة: د. على عبد الفتاح السعيد ، أ.د. محمد مدحت مصطفى، أ.د. مجدى محمد الجندي

امتحان الفصل الدراسي الثاني، 2015-2016م في مادة اقتصاديات إنتاج الدواجن
!طلبة الفرقة: الرابعة - لائحة جديدة - شعبة إنتاج الدواجن

الزمن: ساعتان

تاريخ الإمتحان: 2015/3/26م

أجب عن الاسئلة الانيه مستعينا بالرسم كلما أمكن ذلك :

السؤال الاول (20درجة): (أ) فرق بين المصطلحات الآتية:

.Expansion Path & Iso Cline (2) . Economies & Diseconomies of Scale (1)

.Iso Quant & Transformation Curve (3)

Spillman P. Function & Cobb- Douglas P. Function (4)

(ب): برهن على صحة ما يلي:

(1) في دالة الإنتاج $Y = bX$ تكون المرونة الانتاجية مساوية للوحدة.

(2) تقطع دالة الإنتاج المتوسط دالة الإنتاج الحدي عندما تعصل الاولى إلى أقصاها في دالة الإنتاج التكميلية.

السؤال الثاني (20درجة): (أ) " النسبة المثلي الواجب استخدامها من العلف للدجاجة البيضاء في وقت معين

تصبح غير مثالية في وقت آخر " ناقش هذه العبارة موضحاً كيفية تحديد التوليفة الموردية المثلي وكذلك أهم

العوامل المؤثرة فيها بالزيادة أو النقص.

(ب) إشرح مستخدماً الرسم البياني لتحديد التوليفة المثلي من المزروعات.

السؤال الثالث (20درجة):

(أ) منشأة لإنتاج لحم الدواجن لديها البيانات الآتية:

(Y) ton	0	5	10	15	20	25	30	35
(T.C) L.E	50	55	65	80	100	125	155	190

حيث (Y) كمية الإنتاج بالطن ، (T.C) التكاليف الكلية بالحدية المصري، P سعر الوحدة من الناتج = 5

جنيهاً مصرية. المطلوب: تحديد مستوى الإنتاج الممعلم للربح.

(ب) إذا كانت دالة متوسط التكاليف المتغيرة لمزرعة إنتاج بيض هي:

$$A.V.C = 15 + 0.5 Y$$

المطلوب: اشتقاق كل من دالة التكاليف المتغيرة والكلية والحدية و متوسط التكاليف الكلية بفرض أن التكاليف

الثابتة = 650 جنيهاً مصرية.

مع أطيب التمنيات بالنجاح والتوفيق د. حسين السيد حسين



قسم : الاقتصاد الزراعي

الامتحان التحريري النهائي
المادة : الاقتصاد الزراعي

الفرقة: الثانية (لائحة جديدة)

الزمن : ساعتان
عدد صفحات الأسئلة : صفحة واحدة

الفصل الدراسي (الثاني)
العام الجامعي (٢٠١٤ / ٢٠١٥)
تاريخ الامتحان : ٢٣ / ٥ / ٢٠١٥

أجب عن الأسئلة الآتية

السؤال الأول : (١٢ درجة)

وضح في نقاط محددة مفهوماً لكل من :

- (١) أهمية الزراعة في الدخل القومي (٢) الدخل الزراعي (٣) القيمة المضافة للسلع الزراعية
- (٤) صافي الدخل الزراعي (٥) الفرق بين الدخل الزراعي ، وقيمة الانتاج الزراعي
- (٦) عناصر الإنتاج الزراعي .

السؤال الثاني :

(١) أذكر فقط : (١٢ درجة)

١. اهم الخصائص المميزة لصناعة الزراعة.
٢. الخصائص الفرعية التي تنقسم بها الزراعة والتي تؤدي الي إتسام صناعة الزراعة بالتركيب التنافسي.
٣. النتائج المترتبة علي إتسام صناعة الزراعة بالتركيب التنافسي.
٤. العوامل التي تؤدي الي ضعف مرونة الطلب السعرية للسلع الزراعية .

(ب) وضح بيانياً فقط: (٦ درجات)

- (١) منحنيات التكاليف في المدى القصير لوحد اقتصادي زراعي وأخرى غير زراعي.
- (٢) أثر مرونة الطلب والعرض السعرية على التقلبات السعرية السوقية.

السؤال الثالث: إذا فرض أن دالة التكاليف في المدى القصير و الخاصة بإنتاج سلعة معينة كانت على الصورة:

$$TC = 15 + 5Q - 2Q^2 + 3Q^3$$

حيث Q حجم الانتاج

- المطلوب: (١) اشتقاق دالة التكاليف النابتة. (٢) اشتقاق دالة متوسط التكاليف الثابتة. (٣) اشتقاق دالة التكاليف المتغيرة. (٤) اشتقاق دالة متوسط التكاليف المتغيرة. (٥) اشتقاق دالة متوسط التكاليف الكافية.
- (٦) اشتق دالة العرض للمنتج في المدى القصير.

السؤال الرابع:


- أ- وضح باختصار المفاهيم التسويقية التالية: العملية التسويقية - المسالك التسويقي - المنافع التسويقية - نسبة التنافسي - نسبة التشافي - الكمية المكافئة.
- ب- إذا علمت أن سعر الكيلو جرام في الحبوب الحي ٣٠ جنيه، و سعر الكيلو جرام من اللحم المشافي ٧٠ جنيه، و أن نسبة التنافسي بلغت ٦٠%، و نسبة التشافي بلغت ٨٠%.
- المطلوب: احسب ما يلي: ١. الفرق التسويقي المطلق. ٢. الفرق التسويقي النسبي. ٣. التعلية السعرية.
٤. نصيب المربي من سعر المستهلك. ٥. نصيب الجزار من سعر المستهلك.

مع أطيب التمنيات بالنجاح

د/ خالد صلاح الدين طه محمود

أ.د/ رجب مغاوري زين

أ.د/ عبد الرحمن محمد تريب

<p>الفرقة : الثالثة المجال : الاقتصاد الزراعي والتنمية الريفية الشعبة: اقتصاد زراعي الزمن: ساعتان عدد صفحات الاسئلة: ص.مفردة واحدة</p>	<p>الامتحان التحريري النهائي لغة انجليزية فنية زراعية الفصل الدراسي: الثاني العام الجامعي (٢٠١٤ / ٢٠١٥) تاريخ الامتحان : ٢٠ / ٥ / ٢٠١٤</p>	 <p>قسم: الاقتصاد الزراعي</p>
--	--	--

السؤال الأول : (٤٠ درجة)

أذكر المصطلح الانجليزي لكل مما يأتي :

- ١- الموارد الطبيعية ٢- المنتج ٣- المستهلك ٤- عرض ٥- طلب ٦- المنفعة الحدية
- ٧- دخل المستهلك ٨- مرونة الطلب ٩- السلعة المتكررة الاستعمال (السلع المعمرة) ١٠-
- سلعة مكلمة ١١- الانفاق ١٢- الادخار ١٣- الاستثمار ١٤- رأس المال ١٥- تقسيم
- العمل ١٦- التخصص ١٧- انتاجية العمل ١٨- منحنى الناتج المتساوي ١٩- الدخل
- القومي ٢٠- الكفاءة الحدية لرأس المال.


السؤال الثاني (٤٠ درجة)

أكتب الترجمة العربية لكل من المصطلحات الآتية :

- 1-Profit, 2- Social sciences, 3-Price, 4- Utility
- 5- Elasticity of supply, 6.- Law of increasing and decreasing returns, 7- Satisfaction, 8- Variable cost
- 9- Marginal productivity, 10- perfect competition

لجنة وضع الأسئلة

أ د عادل بوسف عوض، أ.د. ابراهيم صديق

<p>الفرقة : الرابعه برنامج: إدارة الاعمال الزراعيه الشعبة : إنتاج نباتي وإنتاج حيواني الزمن : ساعتان عدد صفحات الأسئلة: صفحہ واحدہ</p>	<p>الامتحان التحريري النهائي المادة : إدارة مزارع متخصصه الفصل الدراسي (الثاني) العام الجامعي (٢٠١٥/٢٠١٤) تاريخ الامتحان : ٢٣/٥/٢٠١٥ م</p>	 <p>قسم الاقتصاد الزراعي</p>
--	--	---

أجب عن الأسئلة الآتية علماً بأن التنسيق والنظام له أهميته عند تقدير الدرجات:

(٢٤ درجة : ٣ درجات لكل نقطه)

السؤال الأول:

اكتب بإيجاز وفي نقاط محددة ما تعرفه عن الفروق بين كل من:

١. الموشرات تخميه و الموشرات العمليه للأداء.
٢. الكفاءه التبادليه و الكفاءه الانتاجيه.
٣. معدل العائد علي الاصول و معدل دوران المخزون.
٤. التحليل المطلق و التحليل التاريخي لأداء الشركات.
٥. هامش مجمل الربح و هامش صافي الربح.
٦. الاستثمار في الزراعه السمكيه و الاستثمار في الدواجن.
٧. المخاطره في الإنتاج النباتي و المخاطره في الإنتاج الحيواني.
٨. المشكلات الخاصه و المهارات الأساسيه اللازمه لإدارة المعدات الزراعيه.

(٢٠ درجة : ١٠ درجات لكل نقطه)

السؤال الثاني:

١. في ضوء دراستك لموضوع المخاطره واللابقين في الإنتاج الزراعي تكلم بإيجاز عن:
 - أ- تعريف كل منهما ثم بين مصادر المخاطره واللابقين في الإنتاج الزراعي.
 - ب- السياسات المباشره والسياسات الغير مباشره لمجابهة الآثار السلبيه للمخاطره واللابقين.
٢. " يعتمد تدسين الانتاجيه بشكل أساسي علي: زيادة القدره علي العمل وكذا الرغبه فيه ومن ثم تحقيق الرضا الوظيفي " اشرح ذلك بالانفصيل في ضوء دراستك موضحا عناصر كل عامل من هذه العوامل اثرت.


(١٦ درجة : ٤ درجات لكل نقطه)

السؤال الثالث:

اكتب بإيجاز وفي نقاط محددة عن:

١. السمات الشخصيه التي يجب أن يتمتع بها مدير مزارع الإنتاج الحيواني.
٢. مثال لكيفية قياس أداء احدى المؤسسات او المنشآت الزراعيه.
٣. أسباب انخفاض الناتج السمكي المصري.
٤. المعايير المستخدمه في اتخاذ القرارات المزرعيه باستخدام مصفوفه العوائد.

أطيب الأمنيات بالنجاح والتوفيق
لجنة الممتحنون

<p>الفرقة : الرابعة..... المجال : اقتصاد زراعى وارشاد ومجتمع ريفى..... النوعية : اقتصاد زراعى..... الزمن : ساعتان..... عدد صفحات الاسئلة: ١.....</p>	<p>الامتحان التحريري النهائي المادة : افنصاد الانتاج الزراعى الفصل الدراسى (الثانى) العام الجامعى (2014 / 2015) تاريخ الامتحان : 2015 / 5 / 23</p>	 <p>قسم : الاقتصاد الزراعى</p>
---	--	---

اجب عن الأسئلة التالية:
السؤال الأول (30 درجة):

قام أربعة من الاقتصاديين هم Arrow, Chenery, Minhas and Solow فى عام ١٩٦١ بتركيب دالة الانتاج ذات المرونة الثابتة Constant Elasticity of Substitution Production Function (CES) والتي تمتاز عن دوال الانتاج الأخرى مثل الخطية وكوب دوجلاس وليونتيف. والمطلوب الاجابة على النقاط التالية:

- اكتب الشكل الرياضى للدالة CES مع شرح الرموز المختلفة المستخدمة فيها.
- اشتق كلا من الناتج الحدى والناتج المتوسط لكل من عنصرى الانتاج المستخدمين فى الدالة CES.
- وضح كيف أن كلا من الدالة الخطية ودالة كوب دوجلاس ودالة ليونتيف هي صور خاصة من الدالة CES.
- عرف مرونة الاحلال بين عنصرين انتاجيين.
- اثبت أن مرونة الاحلال بين عنصرى الانتاج تساوي ما لا نهاية فى الدالة الخطية للانتاج، بينما تساوى الواحد الصحيح فى حالة دالة كوب دوجلاس.

السؤال الثانى (30 درجة):

- نناول كل من Hicks , Harrod and Solow حيادية وعدم حيادية التغير التكنولوجى غير المتضمن فى عناصر الانتاج، وضح ذلك باستخدام التعريف الرياضى لكل من هؤلاء العلماء.
- استخدم Solow الرقم الفياضى الهندسى لحساب التغير التكنولوجى. اشرح ذلك مع ذكر النتيجة التى توصل لها والانتقادات التى تم توجيهها له.

لجنة وضع الأسئلة

أ.د. مجدى الجندى (.....)، أ.د. حسن أبو سعد (.....)، أ.د. خالد صلاح (.....)

[طلاب المستوى الرابع فقط]



كلية الزراعة

الفصل الدراسي الثاني ٢٠١٥/٢٠١٥

إدارة المزارع

قسم الاقتصاد الزراعي

امتحان مقرر: اقتصاد الإنتاج الزراعي - العرض والتكاليف

الزمن: ساعتان

عدد أوراق الأسئلة: ورقة واحدة

تاريخ الامتحان: ٢٠١٥/٥/٢٠ م

أجب على الأسئلة الآتية مع الاستعانة بالرسم كلما أمكن ذلك:

(٢٠ درجة)

السؤال الأول: (أ) فرق بين المصطلحات الآتية:

- ١- Economies & Diseconomies of Scale. -١
- ٢- Expansion path & Isocline. -٢
- ٣- Isoquant & Transformation curve. -٣
- ٤- M.R.T.S & M.R.T. -٤
- ٥- Spillman P. function & Cobb-Douglas P. function. -٥

(ب) برهن على صحة مايلي:

- ١- في دالة الإنتاج $(Y = bX)$ تكون المرورنة الإنتاجية مساوية للوحده.
- ٢- تقطع دالة الإنتاج المتوسط دالة الإنتاج الحدي عندما تصل الأولى إلى أفصاها في دالة الإنتاج التكميلية.
- ٣- معادلة المر التوسعي الأمثل للدالة الإنتاجية التربيعية تكون ذات تقاطع مع أحد المحورين بينما في دالة الإنتاج كوب-دوجلاس تتبع من نقطة الأصل.

(٢٠ درجة)

السؤال الثاني:

إذا أعطيت الدالة الإنتاجية لمنتج مزرعي (Y) لبن يستخدم في إنتاجه عنصرين إنتاجيين (L, K) ،

(رأس المال) K ، فإذا علمت أن أسعار الوحدة من الناتج وعناصر الإنتاج كالتالي:

$$P_y = 2 \text{ L.E.}, P_L = 20 \text{ L.E.}, P_K = 10 \text{ L.E.}$$

$$Y = 3 + 19L - 1.5L^2 + 20K - 4.5K^2 - 3LK$$

1- Least cost combination. فأوجد:

2- Expansion path equation.

3- Maximizing quantity of output.

(٢٠ درجة)

السؤال الثالث: (أ) منشأة لإنتاج لحم الدواجن لديها البيانات الآتية:

Q ton	0	5	10	15	20	25	30	35
T.C L.E	50	55	65	80	100	125	155	190

Where:

Q = quantity of output, T.C = total cost, P = price of output = 5 L.E

Find the Profit – Maximizing output level.


(ب) إذا كانت دالة التكاليف المتغيره لمزرعة إنتاج بيض هي: $A.V.C = 15 + 0.5Q$

المطلوب: اشتقاق كل من دالة التكاليف المتغيره واتخنيه والحديه و متوسط التكاليف الكلية بفرض أن

التكاليف الثابته = 650 L.E

With best wishes

Dr. Hussein Elsayed

<p>المستوى: الثالث البرنامج: ادارة الاعمال الزراعية الزمن: ساعتان عدد صفحات الأسئلة: صفحة واحدة</p>	<p>الامتحان التحريري النهائي تجارة خارجية زراعية (ق ٣٠٤) الفصل الدراسي الثاني العام الجامعي: ٢٠١٥ / ٢٠١٤ تاريخ الامتحان: ٢٠ / ٥ / ٢٠١٥</p>	 <p>قسم: الاقتصاد الزراعي</p>
---	--	--

أجب عن جميع الأسئلة التالية:

السؤال الأول (٢٠ درجة)

أولا : تنقسم نظرية هكشر - أولين إلى نظريتين الأولى هي نظرية هبات الطبيعة والثانية تعادل أسعار عناصر الإنتاج --- اشرح نظرية الشكل الصندوقي
ثانيا : نقاس الوفرة النسبية لعوامل الإنتاج إما بالوفرة المادية أو بالأسعار النسبية لعناصر الإنتاج (اشرح)

السؤال الثاني (٢٠ درجة)

اكتب مقالات مختصه علي كل مما يأتي:

- ١ - آدم اسميث والمزايا المطلقة
- ٢ - ريتاردو والمزايا النسبية
- ٣ - أرباح التجارة الخارجية
- ٤ - تكلفة الفرصة البديلة في حالة النفقة الثابتة والمتغيرة

السؤال الثالث (٢٠ درجة)

ثانيا : تعبر منحنيات عرض المبادلة offer curves مدخل آخر لأدوات التحليل الاقتصادي اشرح

١- طريقة اشتقاقها وكيفية تحقيق شرط التجارة الدولية

٢. ما هو المقصود به ذلك، التجارة

لجنة وضع الأسئلة

أد عادل يوسف عوض، أد ابراهيم صديق ، أد وسيمة مصطفى حشيشي



قسم الاقتصاد الزراعي
وقسم إنتاج الدواجن

الفرقة : المستوى الثاني
مجال : ادارة الاعمال المزرعية
(الانساج الحيواني
والداجنى)
الزمن : ساعتان
عدد صفحات الأسئلة : ١

الامتحان التحريري النهائي
المادة : ز ٢٠٢ اللغة الانجليزية الفتنية الزراعية
الفصل الدراسي : (الثاني)
للعام الجامعي : (٢٠١٥/٢٠١٤)
تاريخ الامتحان : ٢٠١٥/٥/١٩

Answer the following questions:

1. Translate the following terms into English. (15 points):

- ١- زغاليل الحمام ٢- ذكر السماني ٣- ذكر البيط ٤- التهجين الرجعي
٥- الاتزان الوراثي ٦- سلالة نقية ٧- الاوز صغير السن ٨- كتاكييت منسبة
٩- انتاج البيض ١٠- كتاكييت اللحم

2. Write a short paragraph on one of the following topics in English. (10 points):

- a. Sinai shickens b. Poultry Farming

3. Write the meaning of the following expressions in Arabic. (15 points):

1. Gene Frequency 2. Breeding value 3. Genotype 4. Cloning
5. Out breeding 6. Litter size 7. Dozen eggs 8. Productive traits
9. Sexual maturity 10. Litter floor

السؤال الرابع: (٤٠ درجة)

أولا : ترجم المصطلحات الآتية إلى الانجليزية (٢٠ درجة)


- ١ - الموارد الطبيعية ٢ - منتج ٣ - مستهلك ٤ - المنفعة ٥ - منحنى طلب المستهلك
٦ - مرونة العرض ٧ - الإتفاق ٨ - الادخار ٩ - سعر الفائدة ١٠ - الاستثمار

ثانيا: ترجم المصطلحات الآتية إلى العربية (٢٠ درجة)

- 1- Social sciences, 2-Price system, 3- Marginal utility,
4- Complementary goods, 5- Cost of production,
6- Standard of living, 7- National income 8- Profit,
9 - Variable cost

Good luck

لجنة وضع الأسئلة ونقد الإجابات: أ.د. جودة محمد جبريل أ.د. عادل يوسف عوض

<p>الفرقة : الثانية</p> <p>المجال : ادارة الاعمال الزراعية</p> <p>الشعبة الانتاج النباتى</p> <p>الزمن :ساعتان</p> <p>عدد صفحات الأسئلة: ..صفحة</p> <p>واحدة.....</p>	<p>الامتحان التحريري النهائي</p> <p>المادة : لغة انجليزية فنية زراعية(ق)</p> <p>الفصل الدراسي (الثانى)</p> <p>العام الجامعى (٢٠١٤ / ٢٠١٥)</p> <p>تاريخ الامتحان : ١٩ / ٥ / ٢٠١٤</p>	 <p>قسم : ..الاقتصاد الزراعى..</p>
--	--	---

الاجابة على جميع الأسئلة

السؤال الأول : (أربعون درجة درجة)

ترجم المصطلحات الآتية إلى الانجليزية

- ١ - التنبؤ ٢ - منتج ٣ - مستهلك ٤ - الحاجات ٥ - الاثمان ٦ - مرونة العرض ٧ -
- الإنفاق ٨ - الادخار ٩ - سعر الفائدة ١٠ - الاستثمار ١١ - اشباع الحاجة ١٢ - فائض
- المستهلك ١٣ - التفضيل ١٤ - حرية العمل ١٥ - تقسيم العمل ١٦ - انتقال منحني الطلب ١٧ -
- المعدل الحدى للاستبدال ١٨ - رأس المال ١٩ - مستوى المعيشة ٢٠ - الدخل القومى .

السؤال الثاني : (أربعون درجة درجة)

ترجم المصطلحات الآتية إلى العربية

- 1 - Natural resources 2 - Price system 3 - Law of diminishing marginal utility 4 - complementary goods 5- cost of production 6 - standard of living 7 - national income 8 - profit 9 - variable cost 10- marginal utility 11- Durable good 12- consumers expectation 13- Labor 14- Indifference map 15- Perfect substitute 16- Market demand curve (17)- Fixed capital (18)Marginal efficiency of capital (19)Stocks (20) Total, average, and marginal product

مع تمنياتى نتم بالنجاح

لجنة وضع الأسئلة

الاسم (أ.د عادل يوسف عوض)، الاسم (أ.د.ابراهيم صديق)، الاسم (أ.د.رجب مغاوى زين)



قسم : الاقتصاد
الزراعي

الامتحان التحريري النهائي
المادة : تطبيقات الحاسب الالى ونظم
المعلومات الزراعية
الفصل الدراسي (الثاني)
العام الجامعي (٢٠١٤ / ٢٠١٥)
تاريخ الامتحان : ٢٠١٥/٥/١٩

الفرقة : الرابعة برنامج إدارة الأعمال
الزراعية
(انتاج نباتي + حيواني و داجني)
الزمن : ساعتان
عدد صفحات الأسئلة : صفحة
واحدة

ضع علامة صح أو خطأ أمام العبارات التالية داخل المستطيل المحدد لذلك، مع ملاحظة أن أي علامة خارج المستطيل لا يعدد بها، علي أن تكون الاجابة في نفس ورقة الاسئلة، و يُخصص للإجابة الصحيحة لكل سؤال ٦ درجات.

المكان المخصص للعلامة	رقم العبارة	العبارات
	(١)	Sum (A5:A15) = تعطي حاصل ضرب النقيم من A5:A15
	(٢)	Average (A5:A15) = تعطي متوسط القيم من A5:A15
	(٣)	Sumproduct (A1:A5; B1:B5) = تعطي حاصل انضرب (مجموع القيم من A1:A5) مضروباً في (مجموع القيم من B1:B5)
	(٤)	ABS (B10) يعطي الجذر التربيعي للقيمة الموجودة بالخلية B10
	(٥)	SQRT (B10) يعطي الجذر التربيعي للقيمة الموجودة بالخلية B10
	(٦)	Max (A5:A15) = تعطي أكبر قيمة للقيم الموجودة في المدى A5:A15
	(٧)	Min (A5:A15) = تعطي أقل قيمة للقيم الموجودة في المدى A5:A15
	(٨)	Fact (A20) = تستخدم لحساب مضروب القيمة 20
	(٩)	Exp (2) = تستخدم لحساب القيمة e مرفوعة للأس 2
	(١٠)	MDETERM (A1:E4) = تستخدم هذه الصيغة لحساب قيمة المحدد للقيم الموزعة على الخلايا A1:E4 من

مع أطيب التمنيات بالنجاح والتوفيق

لجنة وضع الأسئلة

(د. خالد صلاح الدين طه محمود)، (أ. د. رجب مغاوري زين)، (د. علي عبد الفتاح السعيد)



قسم: الاقتصاد الزراعي

الامتحان التحريري النهائي
المادة: حاسب آلي
الفصل الدراسي الثاني
العام الجامعي (2014/2015)
تاريخ الامتحان: 2015/5/19

الفرقة: الثانية
الجال: شعبة عامة (لائحة قديمة)
الزمن: ساعتان

ضع علامة صح أو خطأ أمام العبارات التالية داخل المستطيل المحدد لذلك، مع ملاحظة أن أي علامة خارج المستطيل لا يعتد بها، على أن تكون الاجابة في نفس ورقة الاسئلة، و يخصص للاجابة الصحيحة لكل سؤال ٦ درجات.

المكان المخصص للعلامة	رقم العبارة	العبارات
	(١)	$=Max(C5:C10)$ تستخدم هذه الصيغة لحساب أكبر قيمة عددية موجودة بالخلايا من C5 الي C10
	(٢)	يشترط لجمع عدد من الخلايا في ورقة عمل Excel أن تكون في نفس العمود.
	(٣)	$=correl(A1:A10;S1:S10) \rightarrow Enter$ قيمة الارتباط المقدر من هذه العلاقة تختلف عند كتابة S بدلاً من A و A بدلاً من S
	(٤)	تستخدم Data Analysis من قائمة View لحساب معامل انحدار بين متغيرين
	(٥)	Input Y Range تعني تحديد نطاق قيم المتغير التابع و لن تتغير نتائج تقدير الإنحدار عند وضع قيم المتغير المستقل X في هذا النطاق بدلاً من قيم المتغير Y
	(٦)	يتم التعبير عن البيانات بالأشكال البيانية من خلال استخدام الأوامر الخاصة بذلك من قائمة Home
	(٧)	Display Equation on Chart تعني إدراج معادله الانحدار فوق الرسم البياني
	(٨)	$=Average(B2:B10)$ تستخدم هذه الصيغة لحساب مجموع عدد من النقيم و الموجودة بالخلايا من B2 الي B10
	(٩)	$=Power(1+\$B\$1;A2)$ تستخدم هذه الصيغة لحساب القيمة الحالية للجنبة عند سعر فائدة ثابت لا يتغير و في سنة يمكن أن تتغير
	(١٠)	$=1/Power(1+\$B\$1;A2)$ تستخدم هذه الصيغة لحساب القيمة المستقبلية للجنبة في سنة يمكن أن تتغير و عند سعر فائدة ثابت لا يتغير

مع أطيب التمنيات بالنجاح والتوفيق

لجنة وضع الأسئلة

(د. خالد صلاح الدين طه محمود)، (د. علي عبد الفتاح السعيد)، (د. محمود عبد المنعم سعد)

Subject: English
Date: 19/5 /2015
Time: 2 hours
Second year

Menoufia University
Faculty of Agriculture

QUESTION ONE:

[20 marks]

- Write a short paragraph not less than 15 lines about:

HOMELESSNESS

QUESTION TWO:

[20 marks]

A- Join the two sentences by using which:

- 1- The doctor found him fit for work. This was not what we expected.
- 2- We took a short cut through the woods. It saved about ten minutes.
- 3- She offered coffee and a biscuit. I accepted it gratefully.
- 4- We're spending the week-end by ourselves. It will be a welcome change.
- 5- One has to eat standing up in that bar. I don't like that.

B- Use: after, afterwards; in, into; out, out of; over, above; under, below; underneath, beneath; by, until where appropriate:

- 1- Let's meet at Rose's Restaurant work. We can go to the theatre, if you like.
- 2- Nobody except you has come this room while I've been sitting it.
- 3- The cat wanted to get and eventually jumped the open basket.
- 4- The man who lives in the flat this one is ninety years of age.
- 5- They wore thick leather vests their tunics but nothing the knees.

QUESTION THREE:

[10 marks]

- Translate the following into English:


▪ يتعين على الإنسان أن يتحرر من النطق بالماضي رداً على هزائم الحاضر وإخفاقاته.

QUESTION FOUR:

[10 marks]

-Translate the following into Arabic:

Learning to read can be an exciting experience, and it need not be difficult. However, it is more difficult for some children than for others. The rate of difficulty depends on a child's language development, experience with reading before beginning school, and the encouragement he or she receives from parents and friends.

الفرقة : الثالثه المجال: ادارة الأعمال المزرعيه الشعبة : ادارة أعمال زراعيه الزمن : ساعتان عدد صفحات الأسئلة: صفحتان	الامتحان التحريري النهائي المادة: المحاسبه الزراعيه (ق 301) الفصل الدراسي: العام تجمعي : تاريخ الامتحان: 2015 / 1 / 22	 قسم : الاقتصاد الزراعي
--	--	---

أجب عن الأسئلة التاليه (علما بأن التنسيق والنظام له أهميته عند تقدير الدرجات):

السؤال الأول: (20 درجة)

(أ) ضع علامة (√) أو (X) علي العبارات التاليه ثم أعد كتابة العبارات الخاطئه بعد تصحيحها:

1. إذا اجر المالك ارضه تاجيرا نقديا للمستأجر فإن المستأجر يصبح داننا وخزينة المنشأه تصبح مدينه.
2. ليست هناك فروق جوهرية بين الميزانيه العموميه والموازنه التقديرية.
3. إذا كان مجموع الجانب المدين لميزان المراجعة أكبر من الجانب الدائن فإن رأس المال يساوي الفرق.
4. تعتبر المردودات الخارجه من الحسابات الدائنه دائما لانها تعتبر مردودات للمشتربات.
5. لا يوجد فروق جوهرية بين المحاسبه الماليه ومحاسبه التكاليف، الزراعيه.
6. من أغراض ميزان المراجعة انه يعتبر تمهيدا لعمل الحسابات الحتاميه.
7. التكاليف الإضافيه هي التكاليف التي يمكن تخصيصها لقسم معين من أقسام المزرعه.
8. الخصم الكمي يتم تسجيله بالدفاتر وانما تتم معرفته فقط بتيسير عملية البيع.
9. تتساوى الديون المدومه مع احتياطي الديون المشكوك فيها.
10. يعتبر استقلال الوحده المحاسبية عن أصلها من أهم الفروض المحاسبية.

السؤال الثاني: (20 درجة)

(8 درجات)

(أ) فارن في جدول مع التوضيح بأمتله (كلما أمكن) بين كل من:

- 1- المبادئ المحاسبية والفروض المحاسبية.
- 2- المردودات والمسموحات.
- 3- المحاسبه القوميه والاحصائيه الضريبية.
- 4- المخصص والاحتياطي.

(ب) فيما يلي بعض البيانات المستخرجه من دفاتر إحدى المنشآت الزراعيه عن السنه المنتهيه في 31 / 12 / 2011م بالنسبة لمصرفات محسولي القمح والشعير. فإذا علمت أن مساحة القمح ضعف مساحة الشعير، وأن المصرفات الإداريه للمحصولين معا تقدر بحوالي 1200 جنيه، وأن العمل العائلي في ضم (حصاد) المحصولين معا يقدر بحوالي 600 جنيه، وأن إنتاجيه الشعير بلغت 200 وحدة ووزنيه تباع الوحده منها بسعر 60 جنيه، وأن إنتاجيه القمح بلغت 400 وحدة ووزنيه تباع الوحده منها بسعر 50 جنيه. والمطلوب هو عمل قائمه التكاليف الزراعيه لكل محصول علي حده وللمحصولين معا موضحا بها ثمن التكلفة الزراعي، وثمان تكلفه المحصول، وثمان تكلفه البيع، وصافي العائد.

البيان	الشعير	القمح
تكلفه المواد الاولييه والبيذور والاسمده	1000	1800
أجور الحرث والعزيق والري وماقبل الحصاد	300	700
مصرفات نقل المحصول من الحقل	100	150
مصرفات النقاوه والدراس	350	500
مصرفات البيع والدعايه والتعبئه	250	350
مصرفات النقل للخارج	100	250

((انظر صفحه 2))

السؤال الثالث:

(20 درجة)

فيما يلي ميزان المراجعة بالأرصده لاجدي المنشآت في 2014/6/30م، والمطلوب هو :
بيان رأسمال هذه المنشاه في بداية المده التجاريه وفي نهايتها ، موضعا مركزها المالي وموقفها من
الربح او الخساره (عن طريق تصوير حسابي المتاجره والربح او الخساره وكشف الميزانيه
العموميه)، وذلك علما بأن البضاعه الباقيه في 2014/6/30م قدرت بمبلغ 25000 جنيه.

الأرصده المدينه بالآلف جنيه	البيان	الأرصده الدائنه بالآلف جنيه	البيان
150	المشتريات	350	المبيعات
10	رسوم وجمارك على المشتريات	83	داننون
70	الألات	130	أوراق دفع
230	المباني	20	م. خارجه
30	مدينون	17	خصم مكتسب
10	أجور زراعيه		
25	مرتبات		
5	مصروفات زراعيه		
2	تأمين ضد الحريق		
13	ديون معدومه		
15	عمولة وكلاء البيع		
40	أوراق قبض		
16	نقل للداخل		
7	نقل للخارج		
15	بضاعه في 2013/7/1		
25	بنك مصر		
80	الخزينه		
38	م. داخله		
12	خصم مسموح به		
7	المسحوبات والنثرات		
<u>800</u>	الاجمالي		الاجمالي

مع أطيب الأمنيات بالنجاح والتوفيق؛

لجنة وضع الأسئلة وتقدير الإجابات

أ.د. صبحي ابو النجا

د. علي عيش

د. محمود محمد عبد المنعم




كلية الزراعة

المجال: الاقتصاد الزراعي والتنمية الريفية

الفرقة: الثالثة

امادة: اقتصاد موارد زراعية (ق 312)	لائحة مقررات قسم: الاقتصاد الزراعي
الفصل الدراسي الاول للعام الجامعي 2014/2015م	
الزمن: ساعتان	عدد صفحات الاسئلة: صفحة واحدة
مطلوب الإجابة عن جميع الاسئلة	
<p>السؤال الأول:</p> <p>أ- وضح بالتفصيل مصادر الموارد المائية في مصر..... (10 درجات).</p> <p>ب- ما هي عناصر الميزان المائي السنوي لمصر..... (10 درجات).</p> <p>السؤال الثاني:</p> <p>اكتب مقالاً توضح فيه أهم المخاطر التي تتعرض لها الأراضي الزراعية..... (20 درجة).</p> <p>السؤال الثالث:</p> <p>أشرح أهم طرق تنمية الأراضي الزراعية..... (10 درجات).</p> <p>السؤال الرابع:</p> <p>لماذا لا تعتبر المرحلة الأولى في قانون الغلة المتنافسة مرحلة مثلى (10 درجة).</p> <p>مع النمنيات بالتوفيق أ.د/ محمد مدحت، مصطفى</p>	

الفرقة : الثانية . المجال : الاقتصاد والاشاد والمجتمع الريفي الشعبة : ادارة أعمال زراعية الزمن : ساعان عدد صفحات الأسئلة : واحدة	الامتحان التحريري النهائي المادة : ادارة اعمال مزرعية (ق 203) الفصل الدراسي : (الاول) العام الجامعي (2015 / 2014) تاريخ الامتحان : 2015 /1/ 21	 قسم :الاقتصاد الزراعى
--	--	--

***أجب عن جميع الأسئلة التالية :**

السؤال الأول : أكتب باحاز ما تعرفه عن : - (20 درجة)

- أ- العوامل التي تؤثر على وضع الخطة المزرعية. ب- الاغراض التي تحققها السجلات المزرعية .
ج- الاسس المختلفة لتقسيم المزارع أو تصنيفها. د- اتمنحية وحقوقها وطرق اكتسابها وقيودها.

السؤال الثاني: فرقة بين كل من المصطلحات الادارية الآتية باحاز :- (20 درجة)

- المشروعات المزرعية المتنافسة والمشروعات المزرعية المرتبطة - العوامل الاقتصادية
والعوامل الاجتماعية المحددة لاختيار المزارع - عناصر الملكية وحقوق الملكية - طريقة
المماثلة وطريقة الرسملة لتقييم الاراضى - التنظيم المزرعى وترقبة المزرعية .


السؤال الثالث : (20 درجة)

- أ- تعتبر السجلات المزرعية لازمة لانجاح مهمة الادارة المزرعية فى استثمار الموارد الزراعية
الاستثمار الامثل- اشرح ذلك بأختصار شديد فى ضوء دراستك مبينا :
- الاهداف التي تحققها السجلات المزرعية - المعلومات المطلوبة لها
- ادجم الامثل للمعلومات - أقسام السجلات المزرعية .
ب- من المهم عند اختيار المزرعة ان يتم ذلك بناء على عدة معايير- اشرح هذه المعايير فى
ضوء دراستك للمقرر .

تمنياتى بالتوفيق،

لجنة وضع الأسئلة:

الاسم :أ.د (صبحى ابوالنجا) ، الاسم :أ.د (محمد مدحت) ، الاسم :أ.د. (عبد
الرحمن تريل)

الفرقة : الثالثه المجال:الاقتصاد الزراعي والتنمية الريفية الشعبة : الاقتصاد الزراعي الزمن : ساعتان عدد صفحات الأسئلة: صفحتان	الامتحان التحريري النهائي المادة: المحاسبية الزراعية (ق 314) الفصل الدراسي: العام الجامعي : تاريخ الامتحان: (الأول) (2015 / 2014) 2015 / 1 / 18م	 قسم : الاقتصاد الزراعي
--	---	---

أجب عن الأسئلة التالية (علماً بأن التنسيق والنظام له أهميته عند تقدير الدرجات):

السؤال الأول:

- (25 درجة)
- (أ) قارن في جدول مع التوضيح بامتله (كلما أمكن) بين كل من:
- 1- المبادئ المحاسبية والفروض المحاسبية.
 - 2- إذن الوارد وإذن التصرف من المخازن.
 - 3- تجميع دفتر اليومية وتفصيل دفتر اليومية.
 - 4- أغراض عمل ميزان المراجعة وأغراض مسك الدفاتر.
 - 5- المخصص والاحتياطي.
- (ب) ضع علامة (√) أو (X) على العبارات التالية ثم أعد كتابة العبارات الخاطئة بعد تصحيحها: (15 درجة)
1. يتم تحميل حساب حيوانات المزرعة بتكاليف زراعة حاصل العلف المرزوعه خصيصاً لهذه الحيوانات .
 2. إذا بلغت قيمة الأصول 900 ألف جنيه وقيمة حقوق الملكية 500 ألف جنيه فإن قيمة الالتزامات والخصوم تساوي 400 ألف جنيه.
 3. من عيوب طريقة التحديد الفعلي، لتكاليف غير المباشرة احتياجها لعمل نسوبه للحسابات في نهاية المده.
 4. يعتبر دفتر الجرد من الدفاتر العرفيه بينما دفتر الأستاذ من الدفاتر القانونيه بالمنشأه.
 5. الحساب المقفل هو الحساب الذي ليس له رصيد أي، أن رصيده يساوي صفر.
 6. الخصم المسموح به هو خصم نقدي علي المشتريات وهو دائما دائن.
 7. إذا أجر المالك أرضه ناجراً نعدياً للمستأجر فإن المستأجر يصبح دائناً وخزينة المنشأه نصيب مدينه.
 8. التاريخ المذكور بدفتر الأستاذ امام كل قيد هو تاريخ العمليه بدفتر اليومية وليس تاريخ عمليه الترحيل.
 9. تعتبر أوراق القبض من ضمن الاصول بينما أوراق الدفع من ضمن الخصوم عند عمل كشف الميزانيه العموميه.
 10. يطلق علي اجمالي التكاليف بداية من اعداد الأرض للزراعة وحتى حصاد المحصول، ثمن تكلفه المحصول.

السؤال الثاني:

- (15 درجة)
- فيما يلي بعض البيانات المستخرجة من دفاتر احد منتشات الزراعيه عن السنه المنتهيه في 31 / 12 / 2014م بالنسبة لمصروفات محصولي القمح والشعير. فإذا علمت أن مساحة الشعير 1000 م²، مساحة القمح 500 م²، وأن المصروفات الإدارية للمحصولين معا تقدر بحوالي 900 جنيه، وأن العمل العائلي في ضم (حصاد) المحصولين معا يقدر بحوالي 600 جنيه، وأن إنتاجية الشعير بلغت 300 وحدة وزنية تباع الوحدة منها بسعر 40 جنيه، وأن إنتاجية القمح بلغت 400 وحدة وزنية تباع الوحدة منها بسعر 50 جنيه. والمطلوب هو عمل قائمة التكاليف الزراعية لكل محصول على حده وتمحصولين معا موضحاً بها ثمن التكافؤ الزراعي، و ثمن تكلفه المحصول، و ثمن تكلفه البيع، وصافي العائد.

البيان	الشعير	القمح
تكلفه المواد الأولية والبذور والاسمدة	1500	2500
أجور الحرث والعزيق والري وما قبل الحصاد	300	500
مصروفات نقل المحصول من الحقل	100	150
مصروفات التقاوة والدراس	150	300
مصروفات البيع والدعايه والتعبئه	150	250
مصروفات النقل للخارج	100	250

((انظر صفحة 2))

(صفحة 2)

السؤال الثالث:

(20 درجة)

فيما يلي ميزان المراجعة بالأرصده لاحدي المنشآت في 2013 /6/30م، والمطلوب هو :
بيان رأسمال هذه المنشأة في بداية المده أنتجاريه وفي نهايتها، موضحا مركزها المالي وموقفها من
الربح أو نخساره (عن طريق تصوير حسابي المتاجره والربح أو الخساره وكشف الميزانيه
العموميه)، وذلك علما بأن البضاعه الباقية في 2013 /6/30م قدرت بمبلغ 45000 جنيه.

البيان	الأرصده الدائنه بالآلف جنيه	البيان	الأرصده المدينة بالآلف جنيه
المبيعات	500	المشتريات	360
دائنون	183	الألات	170
أوراق دفع	130	المباني	130
م. خارجه	20	مدينون	30
خصم مكتسب	17	أجور زراعيه	10
		مرتبات	25
		معسوفات زراعيه	5
		تأمين ضد الحريق	2
		ديون معدومه	13
		عموله وكلاء البيع	15
		أوراق قبض	40
		نقل للداخل	16
		نقل للخارج	7
		بضاعه في 2012/7/1	15
		بنك مصر	25
		الخزينه	80
		م. داخله	38
		خصم مسموح به	12
		المسحوبات والنثرات	7
الاجمالي		الاجمالي	<u>1000</u>

مع أطيب الامنيات بالنجاح والتوفيق؛

لجنة وضع الأسئلة وتقدير الاجابات

أ.د. محمد مدحت د. محمود محمد عبد المنعم أ.د. رجب زين

<p>الفرقة : الرابعه مجال : الاقتصاد الزراعي الشعبة : الاقتصاد الزراعي الزمن : ساعتان عدد صفحات الأسئلة : ورقة واحده</p>	<p>الامتحان التحريري النهائي المادة : تخطيط وسياسه زراعيه الفصل الدراسي الأول العام الجامعي : 2015/2014 تاريخ الامتحان : 2015/1/17</p>	 <p>قسم الاقتصاد الزراعي</p>
---	--	---

اجب عن جميع الأسئلة التاليه :

السؤال الاول : (15 درجة)
(أ) فرق بين السياسه الاقتصاديه و السياسه الزراعيه . (5 درجات)

(ب) اشرح بثلاثه اميل التدرج الهرمي للأهداف الاقتصاديه للمجتمع مع ذكر بعض الآثار الجانبيه التي يمكن أن تترتب على تنفيذ بعض البرامج الاقتصاديه . (10 درجات)

السؤال الثاني : (15 درجة)
" يعتبر التركيب المحصولي محصله و انعكاسا هاما للسياسات الزراعيه " . اشرح تلك العبارة موضحا ما يلي :
(1) أهم محددات ذلك التركيب . (10 درجات)

(2) الفرق بين معامل التكتيف الزراعي الأرضي و الماني . (5 درجات)

السؤال الثالث : (15 درجة)
(أ) اشرح ماذا يدرس علم التخطيط الاقتصادي و علاقته بالعلوم الأخرى . (8 درجات)

(ب) ينطوي السلوك التخطيطي على ثلاثة أبعاد رئيسيه . اشرح هذه الأبعاد من خلال تعريف مختصر للتخطيط الاقتصادي موضحا الدور الذي يلعبه كل من الخبراء و السياسون في كل هذه الأبعاد . (7 درجات)

السؤال الرابع : (15 درجة)
(أ) وضح التصور العام لميزان التشابك القطاعي مع شرح الأساس الرياضي لعلاقته الأساسيه . (8 درجات)


(ب) بفرض أنك خبيرا في إعداد موازن التشابك القطاعي في وزارة التخطيط و قد أعطيت البيانات الآتية عن الاقتصاد الزراعي عام 2007م : (i) فوفه المعاملات الفنيه Aij لثلاثة قطاعات جزئيه داخل الاقتصاد الزراعي . (ii) منتج الناتج النهائي (final use) Y . و المطلوب هو : كيف يمكنك إعداد ميزان التشابك القطاعي للاقتصاد الزراعي عام 2012م .

$$A_{ij} = \begin{bmatrix} 0.0 & 0.2 & 0.1 \\ 0.3 & 0.0 & 0.7 \\ 0.4 & 0.5 & 0.0 \end{bmatrix}$$

$$Y = \begin{bmatrix} 1000 \\ 2000 \\ 1500 \end{bmatrix}$$

(7 درجات)

مع اطيب تمنياتي بالنجاح
د. حسين السيد حسين
أ.د. رجب مغاوري زين
أ.د. إبراهيم صديق علي

<p>الفرقة : الرابعه مجال : الاقتصاد الزراعي الشعبة : الاقتصاد الزراعي الزمن : ساعتان عدد صفحات الأسئلة : ورقة واحده</p>	<p>الامتحان التحريري النهائي المادة : اقتصاد قياسي الفصل الدراسي الأول العام الجامعي : 2015/2014 تاريخ الامتحان : 2015/1/14</p>	 <p>قسم الاقتصاد الزراعي</p>
---	---	---

اجب عن جميع الاسئلة التاليه :

السؤال الأول :
 أ- هناك عدة طرق لتقدير معالم العلاقات الاقتصادية من أهمها طريقة المربعات الصغرى Least Squares (10 درجات)
 أذكر اهم الفروض التي تقوم عليها هذه الطريقة .

ب- تختلف النماذج الاقتصادية فيما بينها من حيث أنواع المتغيرات التي تحتويها و المعادلات التي تصمها ...
 اشرح هذه العبارة موضحا الفرق بين ما يلي :
 1- المعادلات السلوكية و المعادلات التعريفية .
 2- المتغيرات الداخليه و الخارجيه .
 3- النماذج الاحتماليه و عبر الاحتماليه .

السؤال الثاني :
 يهتم الاقتصاد القياسي أصوله من علوم الاقتصاد و الرياضه و الإحصاء " اشرح هذه العبارة
 موضحا الآتي : (أ) أهداف الاقتصاد القياسي . (10 درجات)
 (ب) العلاقة بين الاقتصاد القياسي و العلوم الأخرى . (10 درجات)

السؤال الثالث :
 (20 درجة)

أ- اذا كانت معادلة الانحدار المتعدد للمتغير التابع (Y) على المتغيرين المستقلين X_2 , X_3 على الصورة :

$$Y_i = B_1 + B_2 X_{2i} + B_3 X_{3i} + U_i$$

 وضح كيف تستطيع الحصول على تقدير ثوابت المعادله بالمحددات . (10 درجات)
 ب- فيما يلي جدول تحليل التباين الخاص بانحدار الواردات (Y) على الرقم القياسي للأسعار (X_2) و الناتج القومي (X_3) و المطلوب الآتي :

1- استكمال البيانات الناقصه بالجدول .
 2- إيجاد تقدير التباين للخطأ (σ_u^2)
 3- إيجاد مقياس للقوه التفسيري ل نموذج الانحدار .

S.V.	D.F.	مجموع المربعات S.S.	متوسط المربعات M.S.	Fc المحدديه
الانحدار الخطأ				20
الكلية	14	260		


(10 درجات)

مع أطيب تمنياتي بالنجاح

أ.د. مجدى محمد الجندي

أ.د. رجب مغاوري زين

د. حسين أسيد حسين

الفرقة : الثالثه المجال:الاقتصاد الزراعي والتنمية الريفيه الشعبة : الاقتصاد الزراعي الزمن : ساعتان عدد صفحات الأسئلة: صفحاتان	الامتحان التحريري النهائي المادة: المحاسبية الزراعيه (ق 314) الفصل الدراسي: العام الجامعي : تاريخ الامتحان: (الأول) (2015 / 2014) 2015 / 1 / 18م	 قسم : الاقتصاد الزراعي
---	---	---

أجب عن الأسئلة التالية (علما بأن التنسيق والنظام له أهميته عند تقدير الدرجات):

السؤال الأول:

(25 درجة)

(أ) فارن في جدول مع التوضيح بأمثله (كلما أمكن) بين كل من:

- 1- المبادئ المحاسبية والفروض المحاسبية.
- 2- إذن الوارد وأذن المنصرف من تمخارن.
- 3- تجميع دفتر اليومية وتقبل دفتر اليومية.
- 4- أغراض عمل ميزان المراجعة وأغراض مسك الدفاتر.
- 5- تخصص والاحتياطي.

(ب) ضع علامة (√) أو (X) علي العبارات التالية ثم أعد كتابة العبارات الخاطئة بعد تصحيحها: (15 درجة)

1. يتم تحميل حساب حيوانات المزرعة بتكاليف زراعة محاصيل العلف المزروعه خصيصا لهذه الحيوانات .
2. إذا بلغت قيمة الأصول 900 ألف جنيه وقيمة حقوق الملكية 500 ألف جنيه فإن قيمة الالتزامات وخصوم تساوي 400 ألف جنيه.
3. من عيوب طريقة التحديد القطعي لتكاليف غير المباشرة احتياجها لعمل نسوبه للحسابات في نهاية المده.
4. يعتبر دفتر الجرد من الدفاتر العرفيه بينما دفتر الأستاذ من الدفاتر القاتونيه بالمنشأه.
5. الحساب المقل هو الحساب الذي ليس له رصيد أي أن رصيده يساوي صفر.
6. الخصم المسموح به هو خصم نقدي علي المشتريات وهو دائما دائن.
7. إذا أجر المالك أرضه تاجرا نقديا للمستأجر فإن المستأجر يصبح دائنا وخزينة المنشأه تصبح مدينه.
8. التاريخ المذكور بدفتر الأستاذ أمام كل قيد هو تاريخ العمليه بدفتر اليومية وليس تاريخ عمليه الترحيل.
9. تعتبر أوراق القبض من ضمن الأصول بينما أوراق الدفع من ضمن الخصوم عند عمل كشف الميزانيه العموميه.
10. يطلق علي إجمالي التكاليف بداية من إعداد الأرض للزراعه وحتى حصاد المحصول: ثمن تكلفه المحصول.

السؤال الثاني:

(15 درجة)

فيما يلي بعض البيانات المستخرجه من دفاتر إحدى المنشآت الزراعيه عن السنه المنتهيه في 31 / 12 / 2014م بالنسبة لمصروفات محصولي القمح والشعير. فإذا علمت أن مساحة الشعير نصف مساحة القمح ، وأن المصروفات الإداريه أله حصولين معا تقدر بحوالي 900 جنيه، وأن العمل العائلي في ضم (حصاد) المحصولين معا يقدر بحوالي 600 جنيه، وأن إنتاجية الشعير بلغت 300 وحدة وزنيه تباع الوحدة منها بسعر 40 جنيه، وأن إنتاجية القمح بلغت 400 وحدة وزنيه تباع الوحدة منها بسعر 50 جنيه. والمطلوب هو عمل قائمة التكاليف الزراعيه لكل محصول علي حده وللمحصولين معا موضحا بها ثمن التكلفة الزراعي، و ثمن تكلفه المحصول، و ثمن تكلفه البيع، و صافي العائد.

البيان	الشعير	القمح
تكلفة المواد الاولية والبذور والأسمدة	1500	2500
أجور الحرث والعزيق والري وما قبل الحصاد	300	500
مصروفات نقل المحصول من الحقل	100	150
مصروفات النقاوة والدراس	150	300
مصروفات البيع والدعايه والنعيه	150	250
مصروفات النقل للخارج	100	250

((انظر صفحه 2))

(صفحة 2)

السؤال الثالث:

(20 درجة)

فيما يلي ميزان المراجعة بالأرصده لاحدي المنشآت في 2013 /6/30م، والمطلوب هو :
بيان رأسمال هذه المنشأة في بداية المده التجاريه وفي نهايتها، موضحا مركزها المالي وموقفها من
الربح أو الخساره (عن طريق تصوير حسابي المتاجره والربح أو الخساره وكشف الميزانيه
العموميه)، وذلك علما بأن البضاعه الباقية في 2013 /6/30م قدرت بمبلغ 45000 جنيه.

الأرصده المدينه بالآلف جنيه	البيان	الأرصده الدائنه بالآلف جنيه	البيان
360	المشتریات	500	المبيعات
170	الالات	183	دائنون
130	المياتي	130	أوراق دفع
30	مدينون	20	م. خارجة
10	أجور زراعيه	17	خصم مكتسب
25	مرتبات		
5	مصروفات زراعيه		
2	تأمين ضد الحريق		
13	ديون معدومه		
15	عمولة وكلاء البيع		
40	أوراق قبض		
16	نقل للداخل		
7	نقل للخارج		
15	بضاعه في 2012/7/1		
25	بنك مصر		
80	الخزينه		
38	م. داخله		
12	خصم مسموح به		
7	المه، حويات والتثريات		
<u>1000</u>	الاجمالي		الاجمالي

مع أطيب الأمنيات بالنجاح والتوفيق؛

لجنة وضع الأسئلة ونقد الإجابات

أ.د. محمد مدحت د. محمود محمد عيد المنعم أ.د. رجب زين



الامتحان العمري
المادة: حاسب الي
الفصل الدراسي الأول
السام الجامعي (2015/2014)
تاريخ الامتحان: 2014/12/31

قسم: الاقتصاد الزراعي

ضع علامة صح أو خطأ أمام العبارات التالية داخل المستطيل المحدد لذلك، مع ملاحظة أن أي علامة خارج المستطيل لا يعتد بها، علي أن تكون الاجابة في نفس ورقة الاسئلة و ترفق مع كراسة الإجابة بمعرفة الكنترول، و تكتب بيانات الطالب علي كراسة الإجابة و ليس علي ورقة الأسئلة، و يُخصص للإجابة الصحيحة لكل سؤال 6 درجات.

العبارات	رقم العبارة	المكان المخصص للعلامة
يتم تحويل لغة الكتابة في مستند Word بالضغط علي مفتاح Caps Lock	(1)	
يتم الخروج من برنامج Word بالضغط بزر الماوس الأيسر على Close من قائمه File	(2)	
تستخدم Ctrl+Shift+V لنسخ التنسيق	(3)	
تستخدم Ctrl+X للقص، Ctrl+C للصق	(4)	
تستخدم Open لفتح ملف قديم سبق حفظه في Word	(5)	
تستخدم Ctrl+U لوضع خط يتخلل الكلمة أو النص السابق تحديده	(6)	
تستخدم Ctrl+B لجعل الخط مرتفع عن باقي الكلام	(7)	
تستخدم Ctrl+I لجعل الخط مائل	(8)	
لتحديد كامل المستند يتم الضغط علي مفتاح Ctrl و زر الماوس الأيمن في نفس الوقت	(9)	
قد يستخدم الأمر Save as لتغيير اسم ملف قديم سبق حفظه	(10)	

مع أطيب التّاميات بالنجاح والتوفيق

لجنة وضع الأسئلة

(د. خالد صلاح الدين طه محمود)، (أ.د. رجب مغاوري زين)، (د. حسين السيد حسن)

جامعة المنوفية	امتحان الفصل الدراسي الأول 2015/2014
كلية الزراعة	المادة: تمويل وضرائب زراعية
قسم الاقتصاد الزراعي	الفرقة: الثالثة- برنامج ادارة الأعمال الزراعية

أجب عن الأسئلة التالية:

السؤال الاول: ضع علامة (√) أو (X) أمام كل عبارة من العبارات التالية مع التعليل في كل حالة:
(10 درجة)

1. لا يختلف مفهوم التمويل الزراعي عن نظيرة الخاص بالانتمان الزراعي.
2. ليس هناك فرق بين عقود ادارة الانتاج وعقود الإمداد بالمستلزمات.
3. يؤدي التخصص النطاقي للزراعة إلى تنوع الحزم الائتمانية التي تقدمها البنوك الزراعية.
4. يلجأ البنك المركزي إلى خفض أسعار الخصم في فترات الكساد.
5. تعد بطاقات الانتمان التي تمنحها البنوك لعمالها أحد أشكال النقود.
6. يعد دعم أسعار القاندة احد الاليات الفعالة في تبني الزراع للتكنولوجيات الحديثة في الزراعة .
7. لا يختلف مفهوم سعر الفائدة المدبنة عن مفهوم سعر الخصم .
8. لا تختلف درجة استقرار الودائع تحت الطلب عن تلك الخاصة بالودائع لأجل.
9. لا تختلف العوامل المحددة للطلب على الائتمان عن تلك المحددة للطلب على النقود.
10. يلعب البنك المركزي دورا هاما في تحديد المعروض النقدي من خلال العديد من الادوات .

السؤال الثاني: (15 درجة)

- أ- اشرح مكونات سعر الفائدة على القروض الزراعية مع بيان العوامل التي يجب أخذها في الاعتبار عند اتخاذ قرار برفعها.
- ب- يعد ضعف الضمانات المتاحة للمزارعين أحد أهم المشاكل التي تواجه البنوك الزراعية، ناقش هذه المشكلة مع بيان الأنواع المختلفة للضمانات وطبيعة كل منها، وكيف يمكن للبلوك الزراعية التغلب على تلك المشكلة؟

السؤال الثالث: (15 درجة)

أذكر أهم عناصر السياسة الائتمانية من المنظور المصرفي مع شرح موجز لكل عنصر من عناصرها.

السؤال الرابع: (20 درجة)

- أ- إذا ما أعطيت، البيانات التالية عن المركز المالي لأحدى المزارع :
أصول جارية : 153.000 جنية
أصول طويلة الأجل: 175.000 جنية
خصوم جارية: 15.000 جنية
حقوق ملكية: 205.000 جنية
رصيد قروض طويلة الأجل: 30.000 جنية
اجمالي الاصول : 500.000 جنية
المطلوب تصوير ميزانية تلك المزرعة، واستخراج مؤشراتنا المالية وتقرير جدارتها الائتمانية.

ب- مزارع حصل على قرض بمبلغ 100.000 جنية على أن يسدد على عشرة أقساط نصف سنوية وفترة سماح لمدة سنة بسعر فائدة 6% والمطلوب تصوير حساب الفوائد والقسط السنوي المستحق إذا ما تم:

1. سداد أصل القرض على أقساط متساوية وإدخال الفوائد على الرصيد غير المستحق.
2. رسملة فوائد فترة السماح والسداد بطريقة الأقساط المتساوية.

مع تمنياتي بالتوفيق ""

أ.د/ إبراهيم صديق



جامعة المنوفية	امتحان الفصل الدراسي الأول 2015/2014
كلية الزراعة	المادة: تمويل وضرائب زراعية
قسم الاقتصاد الزراعي	الفرقة: الثالثة- برنامج ادارة الأعمال الزراعيه

أجب عن الأسئلة التالية:

السؤال الأول: ضع علامة (√) أو (X) امام كل عبارة من العبارات التالية مع التعليل في كل حالة: (10 درجة)

1. لا يختلف مفهوم التمويل الزراعي عن نظيرة الخاص بالانتمان الزراعي.
2. ليس هناك فرق بين عقود ادارة الانتاج وعقود الإمداد بالمستلزمات.
3. يؤدي التخصص النطاقي للزراعة إلى تنوع الحزم الائتمانية التي تقدمها البنوك الزراعية.
4. بنجا البنك المركزي تبي خفض أسعار الخصم في فترات الكساد.
5. تعد بطاقات الائتمان التي تمنحها البنوك لعمالها أحد أشكال النقود.
6. يعد دعم أسعار الفائدة أحد الأليات الفعالة في تبنى الزراع للتكنولوجيات الحديثة في الزراعة.
7. لا يذآف مقيوم سعر الفائدة المدبنة عن مفهوم سعر الخصم .
8. لا تختلف درجة استقرار الودائع تحت الطلب عن تلك الخاصة بالودائع لأجل.
9. لا تختلف العوامل المحددة للطلب على الائتمان عن تلك المحددة للطلب على النقود.
10. بلعب البنك المركزي دورا هاما في تحديد المعروض النقدي من خلال العديد من الأدوات .

السؤال الثاني: (15 درجة)

- أ- إشرح مكونات سعر الفائدة على القروض الزراعية مع بيان العوامل التي يجب أخذها في الاعتبار عند اتخاذ قرار برفعها.
- ب- يعد ضعف الضمانات المتاحة للمزارعين أحد أهم المشاكل التي تواجه البنوك الزراعية، ناقش هذه المشكلة مع بيان الأنواع المختلفة للضمانات وطبيعة كل منها، وكيف يمكن للبنوك الزراعية التغلب على تلك المشكلة؟

السؤال الثالث: (15 درجة)

أذكر أهم عناصر السياسة الائتمانية من المنظور المصرفي مع شرح موجز لكل عنصر من عناصرها.

السؤال الرابع: (20 درجة)

- أ- إذا ما أعطيت، البيانات التالية عن المركز المالي لاحدى المزارع :
أصول جارية : 153.000 جنيه حقوق ملكية: 205.000 جنيه
أصول طويلة الأجل: 175.000 جنيه رصيد قروض طويلة الأجل: 30.000 جنيه
خصوم جارية: 15.000 جنيه إجمالي الأصول : 500.000 جنيه
المطلوب تصوير ميزانية تلك المزرعة، واستخراج مؤشراتنا المالية وتقرير جدارتها الائتمانية.

ب- مزارع حصل على قرض بمبلغ 100.000 جنيه على أن يسدد على عشرة أقساط نصف سنوية وفترة سماح لمدة سنة بسعر فائدة 6% والمطلوب تصوير حساب الفوائد والقسط السنوي المستحق إذا ما تم:

1. سداد أصل القرض على أقساط متساوية وإحساب الفوائد على الرصيد غير المستحق.
2. رسمه فوائد فترة سماح والسداد بطريقة الأقساط المتساوية.

مع تمنياتي بالتوفيق ""

أ.د/ ابراهيم صديق



الفرقة الثالثة: مجال الاقتصاد الزراعي والتسمية الريفة الزمن : ساعتان عدد الصفحات : صفحتان عدد الأسئلة : خمسة	الامتحان التحريفي النهائي المادة: إقتصاد جزئي (ق 301) الفصل الدراسي الأول العام الجامعي 2015/2014 تاريخ الامتحان: 2015/ 1/15	 قسم الاقتصاد الزراعي
--	--	---

أجب عن الأسئلة الآتية:

السؤال الأول : (12 درجة)

ضع علامة ✓ أمام العبارة الصحيحة وعلامة X أمام العبارة الخطأ مع تصحيح العبارة إذا كانت خطأ .

1. يقل معامل مرونة الطلب السعرية كلما قلت أهمية السلعة للمستهلك.
2. ينص قانون الطلب على انه كلما زاد المستهلك من استهلاكه من سلعة معينة فإن المنفعة الحدية تأخذ في التناقص إلى أن تصل إلى الصفر عندما تبلغ المنفعة الكلية إلى الحد الأقصى لها.
3. تعبر مرونة الطلب عن درجة استجابة الكمية المنتجة للتغير في الكمية المستخدمة من عنصر الانتاج.
4. يمكن اشتقاق منحني الطلب الفردي لسلعة معينة من نظرية سلوك المستهلك .
5. يقصد بالاستهلاك عمالية خلق السلع والخدمات (أي خلق الثروة) سواء كانت إنتاجية أو استهلاكية.
6. يطلق لفظ الثروة (بصفة عامة) كمرادف لجميع السلع والخدمات الاقتصادية.
7. يعتبر الدخل هو العامل الوحيد الذي يؤدي إلى التحرك على منحنى الطلب على سلعة ما.
8. يعتبر التغير في الدخل هو العامل الوحيد الذي يؤدي إلى إنتقال دالة الطلب.
9. دائماً تكون الإشارة الحبرية لمرونة الطلب الدخلية سالبة.
10. في حالة السلع المكملة تكون قيمة معامل مرونة الطلب البديلية موجبة.
11. تقاس مرونة العرض لسلعة ما بقسمة التغير النسبي في السعر على التغير النسبي في الكمية المعروضة.
12. تعتبر منحنيات الناتج المتساوي وخطوط التكاليف المتساوية أدوات تحدد نقطة توازن المستهلك.

السؤال الثاني : (9 درجات)

أذكر المصطلح العلمي للمفاهيم الآتية :

- 1- المقياس الذي يعبر عن درجة استجابة الكمية المطلوبة من سلعة معينة للتغير في دخل المستهلك.
- 2- الأسلوب الذي يتم التعامل به مع المشكلات الاقتصادية التي يواجهها الاقتصاد القومي.
- 3- السياسة التي تعتمد على استخدام الإنفاق الحكومي على المشتريات الحكومية والطرانيب لتحقيق أهداف اقتصادية عامة مثل القضاء على البطالة.
- 4- السياسة الاقتصادية التي تستخدم الضرائب وأسعار الفائدة والتأمين وضمان الاستثمارات الوطنية والأجنبية ضد المخاطر التجارية وغير التجارية لتحقيق أهداف اقتصادية معينة.
- 5- النظام الاقتصادي القائم على الأيديولوجية الليبرالية ، والسعي إلى تحقيق الحد الأقصى من الأرباح أو الإشباع
- 6- القانون الذي يشرح العلاقة بين الكمية المطلوبة من سلعة معينة وسعرها .
- 7- المنحنى الذي يبين التوليفات المختلفة من سلعتين يمكن إحلالهما ببعض والتي تعطي نفس القدر من الإشباع.

- 8- الخط الذي يبين التوليفات المختلفة من عنصرين إنتاجيين يمكن إحلالهما ببعض ويمكن للمنتج شراؤها بقدر معين من التكاليف.
- 9- المنحني المار بنقط توازن المستهلك عند مستويات مختلفة من الدخل المنفق على السلعة مع بقاء سعر السلعة ثابتا كما هو عليه .

السؤال الثالث (10 درجات)

- انقل في ورقة الإجابة الجملة التالية ثم ضع علامة صح وخط أسفل المعنى الصحيح :
- 1- تبدأ المرحلة الثانية للإنتاج عندما يبدأ متوسط الناتج في الهبوط : دائما - أبدأ - أحيانا - غالبا
- 2- إذا كان المعدل الحدي للإحلال التكنولوجي يساوي 2 فإن النسبة بين الناتجين الحديين تساوي : 1 - 0,5 - 4
- 3- يمكن الحصول على التكلفة الحدية من : ميل منحني التكلفة الثابتة - ميل منحني التكلفة المتغيرة وليس من ميل منحني التكلفة الكلية - ميل منحني التكلفة الثابتة وليس من ميل منحني التكلفة المتغيرة - إما ميل منحني التكلفة المتغيرة أو ميل منحني التكلفة الكلية.
- 4- عندما تزيد المنفعة الكلية فإن المنفعة الحدية تكون : سالبة و متزايدة - سالبة و متناقصة - صفر - موجبة و هابطة.
- 5- السلعة عديمة مرونة الطلب تسعوية هي سلعة : من السلع الرفاهية - ضرورية - ضرورية جدا - رديئة 0 & ويكون منحني الطلب السعري لها : أفقي - عمودي

السؤال الرابع : (14 درجة)

أذكر فقط المعادلات الرياضية التي تستخدم لقياس أو تحديد ما يلي مع توضيح معنى الرموز المستخدمة في المعادلة إذا وجدت :

- (1) معامل مرونة الطلب التقاطعية (التبادلية) (2) المنفعة الحدية.
- (2) نقطة توازن المستهلك.
- (4) نقطة توازن المنتج في الأجل القصير في ضوء ظروف المنافسة الكاملة
- (5) نقطة توازن المنتج في الأجل القصير في ضوء ظروف المنافسة الكاملة.


(7) المعدل الحدي للإستبدال بين سلعتين A&B

السؤال الخامس : (15 درجة)

وضح بيانيا فقط ما يلي :

- (1) منحني طلب عديم المرونة (2) توازن المستهلك في ضوء نظرية سلوك المستهلك
- (3) نقطة توازن المنتج (Producer) (4) توازن السوق في ظل ظروف المنافسة الكاملة
- (5) منحني الاستهلاك والسعر .

لجنة المحققين ، أ.د محمد الرحمن ترويل & أ.د محمد المندي ، & أ.د عادل يوسف عوض

المستوى الأول برنامج ادارة الاعمال الزراعية الزمن : ساعتان عدد الصفحات : صفحتان عدد الأسئلة : خمسة	الامتحان التحريري النهائي المادة: إقتصاد حزني (ق 101) الفصل الدراسي الأول العام الجامعي 2015/2014 تاريخ الامتحان: 2015/ 1/11	 قسم الاقتصاد الزراعي
--	--	---

أجب عن الأسئلة الآتية:

السؤال الأول: (15 درجة)

ضع علامة ✓ أمام العبارة الصحيحة وعلامة X أمام العبارة الخطأ مع تصحيح العبارة إذا كانت خطأ علي أن تكون احابتك في

كراسة الإجابة في جدول كمالي:

رقم العبارة	1	2	3	4	5	6	7	8	9	10
✓ أو X										
العبارة الصحيحة في حالة الخطأ										

1. تعتبر وفرة الموارد الاقتصادية أحد أسباب للمشكلة الاقتصادية.
2. عرف الفريد مارشال علم الاقتصاد في كتابه ثروة الأمم بأنه علم الرفاهية المادية.
3. تعبر المنفعة عن صلاحية وقدرة السلعة أو الخدمة علي إشباع حاجة معينة.
4. يعبر النمو الاقتصادي عن الزيادة المضطربة في نصيب الفرد من الدخل القومي في الدول الصناعية المتقدمة.
5. يعتبر السعر هو العامل الوحيد الذي يؤدي إلي التحرك علي منحني الطلب علي سلعة ما.
6. يعتبر التغير في الدخل هو العامل الوحيد الذي يؤدي إلي إنتقال دالة الطلب.
7. دائماً تكون الإشارة الجبرية لمرونة الطلب الدخلية سالبة.
8. في حالة السلع المكملة تكون قيمة معامل مرونة الطلب التبادلية سالبة.
9. تقاس مرونة العرض لسلعة ما بقسمة التغير النسبي في السعر علي التغير النسبي في الكمية المعروضة.
10. يعتبر الدخل أحد العوامل المؤثرة علي دالة العرض لسلعة ما.
11. في حالة التوازن السوقي لسلعة ما لا يشترط تساوي الطلب بالعرض .
12. يفترض تحليل الفريد مارشال لتوازن المستهلك في ضوء نظرية المنفعة أن المنفعة قابلة للقياس الكمي.
13. تعبر منحنيات السواء وخطوط الثمن أدوات تحديد نقطة توازن المستهلك في ضوء نظرية سلوك المستهلك.
14. إذا كان المستهلك علي استعداد بالاضحية بعشرة وحدات من السلعة (ب) في سبيل الحصول علي وحدة واحدة من السلعة (أ) فإن معدل الإحلال الحدي للسلعة (أ) محل السلعة (ب) يساوي 0,1
15. يتحقق توازن المنتج في الأجل القصير في ضوء سوق المنافسة الكاملة عندما تتساوي التكاليف الحدية مع سعر الوحدة المنتجة.

السؤال الثاني: (10 درجات)

أذكر المصطلح العلمي للمفاهيم الآتية علي أن تضع احابتك في كراسة الإجابة في جدول كمالي:

رقم العبارة	1	2	3	4	5	6	7	8	9	10
المصطلح العلمي										

1- المقياس الذي يعبر عن درجة استجابة الكمية المطلوبة من سلعة معينة للتغير في دخل المستهلك.

- 2- القانون الذي يشرح العلاقة بين الكمية المعروضة من سلعة ما وسعرها.
- 3- المنحنى الذي يبين التوليفات المختلفة من عنصرين انتاجيين يمكن إحلالهما ببعض والتي تعطي نفس القدر من الناتج.
- 4- الخط الذي يبين التوليفات المختلفة من سلعتين يمكن إحلالهما ببعض ويمكن تمسيتها شرائها بقدر معين من الدخل.
- 5- المنحنى المار بقطر توازن المستهلك عند مستويات مختلفة من الدخل الملقق على السلعة مع بقاء سعر السلعة ثابتا كما هو عليه .
- 6- مقدار الزيادة في الناتج الكلي الناشئ عن زيادة وحدات العنصر الانتاجي بمقدار وحدة واحدة.
- 7- مقدار التضحية في سلعة ما مقابل الحصول على وحدة واحدة من سلعة إحلالية لها.
- 8- نقطة تماس كل من منحنى التسوية وحد الميزانية.
- 9- مقدار ما يضيفه الوحدة الأخيرة من الانتاج إلى الإيراد الكلي.
- 10- النقطة التي يتساوى عندها التكاليف الحدية مع الإيراد الحدي في الأجل القصير.

السؤال الثالث (14 درجة)

أذكر فقط :

1. عناصر المشكلة الاقتصادية
2. العوامل التي تؤثر على دالة الطلب لسلعة ما.
3. العوامل التي تؤدي إلى تمدد وانكماش الطلب نتيجة انتقال داته الطلب .
4. العوامل التي تؤثر على دالة العرض لسلعة ما.
5. نوعي تغير ظروف الطلب.
6. العوامل التي تؤثر على مرونة العرض.
7. شروط سوق المنافسة الكاملة.

السؤال الرابع : (10 درجات)

أذكر فقط المعادلات الرياضية التي تستخدم لقياس أو تحديد مايلي مع توضيح معني الرموز المستخدمة في المعادلة إذا وجدت :

1. معامل مرونة الطلب التقاطعية (التبادلية)
2. المنفعة الحدية.
3. نقطة توازن المستهلك.
4. نقطة توازن المنتج في الأجل القصير في ضوء ظروف المنافسة الكاملة.
5. المعدل الحدي للإستبدال بين سلعتين A&B

السؤال الخامس : (11 درجة)

وضح بياناً فقط مع ضرورة كتابة أسماء المحاور والهندسات.

1. حالات مرونة الطلب السعرية. (5 درجات)
2. منحنى إنجل. (درجتان)
3. نقطة توازن المستهلك في حالة وجود سلعتين يمكن إحلالهما ببعض. (درجتان)
4. توازن السوق تحت ظروف سوق المنافسة الكاملة. (درجتان)

لجنة الممتحنين : أ.د عبد الرحمن ترويل & أ.د مجدي الجندي & أ.د خالد صلاح الدين طه

<p>الفرقة الرابعة المجال: الاقتصاد الزراعي الزمن: ساعتان</p>	<p>الامتحان التحريري النهائي المادة: تسويق زراعي ٨٩ الفصل الدراسي الاول / الحام الجامعي (٢٠١٤ / ٢٠١٥) تاريخ الامتحان : ٢٠١٥ / ١ / ٢٦</p>	 <p>قسم : ..الاقتصاد الزراعي..</p>
--	--	---

الإجابة على جميع الاسئلة :

السؤال الاول (٢٠ درجة)

ننضمّن الوظائف ، التسويقية التبادلية كلاً من وظيفتي الشراء والبيع وكل منهما يهدف الى :

- ١- البحث عن الطرف الآخر
- ٢- الاتفاق على شروط اتمام الصفقة
- ٣- نقل الملكية

تناول بالشرح الوافي كل من الأهداف الثلاثة

السؤال الثاني (٢٠ درجة)

الوظائف التسويقية الفيزيقية تشمل انتقال السلع والخدمات سواء الانتقال المكاني او الانتقال الزماني ، اكتب مقالا عن كل مما يأتي

- ١- التخصص النطاقي للزراعة
- ٢- الانتاج الموسمي والاستهلاك المستمر
- ٣- اهمية التخزين
- ٤- الخواص التي يتوقف عليها اختيار وسيلة النقل

السؤال الثالث (٢٠ درجة)

أولا : تتعدد الوظائف التسويقية التسهيلية او التيسيرية والتي تزيد من سهولة عمليات التبادل (اشرح كل من)

- ١- عملية التدرج
- ٢- عملية التعبئة

ثانيا : يختلف الوسطاء فيما بينهم : أذكر فقط تصنيف الوسطاء

د. محمد عبد الرحمن
د. محمد عبد الرحمن
د. محمد عبد الرحمن



الإمتحان التحريري النهائي

المادة: إقتصاديات الحاصلات البستانية
الفرقة: الرابعة
السعة: سبعة البساتين
العام الجامعي: 2014-2015
الفصل الدراسي الأول
تاريخ الإمتحان: السبت 10 يناير 2015
عدد صفحات الأسئلة: صفحة واحدة

أجب عن الأسئلة التالية بإجابات موجزة موضحة بالرسوم والأشكال البيانية كلما أمكن:

السؤال الأول (15 درجة):

ماهي أهم العناصر التي يجب مراعاتها عند إعداد خطة تصدير الحاصلات البستانية - وضح مستعينا برسم تخطيطي؟

السؤال الثاني (15 درجة):

ماهو المقصود بالنوافذ التسويقية (الطلب غير المشبع/الطلب التمريج) وكيف يمكن استخدامه في تحديد السلع والأسواق التي يجب التركيز عليها في الخطة التصديرية للحاصلات البستانية؟

السؤال الثالث (15 درجة):

ماهي أهم عناصر دراسة الجدوى للمشروعات البستانية وماهي أهم المعايير المستخدمة في تحديد جدوى المشروعات البستانية - إذكرها مع تحديد قاعدة إنخاذ القرار في كل منها؟

السؤال الرابع (الجزء 1 بخصه 5 درجات والجزء 2 بخصه 10 درجات):

1. يعتبر التوريد في عكس الموسم من أهم عناصر التنافسية في تصدير الحاصلات البستانية، إشرح ذلك؟

2. ماذا يقصد بالجودة عند تصدير الحاصلات البستانية؟ وماهي أهم عناصر الجودة؟

لجنة وضع الأسئلة:

د. علي عبد الفتاح السعيد

د. خالد صلاح طه

أ.د. حسن نبيه أبوسعد

المستوى:الناثى (مستجدون وباقون) الشعبة: إدارة الأعمال الزراعية الزمن: ساعتان عدد صفحات الأسئلة: صفحتان	الامتحان التحريري النهائي المادة : احصاء عام ق 201 الفصل الدراسي الأول العام الجامعي: 2015/2014 تاريخ الامتحان: 2013/1/10	 قسم الاقتصاد الزراعي
---	---	---

السؤال الأول (15 درجة)

أ- فى دراسة لمعرفة أثر طرق الرعاية المدخلة على معدلات النمو فى السلالة روص، تم تطبيق أربع طرق مختلفة للرعاية على هذه السلالة فى خمس عنابر مدخلة وكانت نتائج الدراسة كالتالى:

$$x_{1.} = 45, \quad x_{2.} = 41, \quad x_{3.} = 34, \quad x_{4.} = 30$$

$$\sum x_{ij}^2 = 1159.5$$

والمطلوب: 1- صياغة المشكلة الإحصائية

2- تكوين جدول تحليل التباين

3- اختبار معنوية أثر طرق التربية على معدلات النمو علماً بأن قيمة F الجدولية المناسبة 3,24

ب- البيانات التالية لكل من المتغيرين X, Y :

$$\sum X = 55, \quad \bar{X} = 5.5, \quad \sum Y = 125$$

$$\sum (X - \bar{X})^2 = 82.5, \quad \sum (X - \bar{X})(Y - \bar{Y}) = 251.5$$

والمطلوب: 1- تقدير العلاقة بين المتغيرين على الصورة : $y = \alpha + Bx$

2- تنبأ بالكمية Y عندما X=10

السؤال الثانى (15 درجة)

إذا كان تخزين العلف المنتج من أحد مصانع علف الدواجن يتم تخزينه عند درجة حرارة 30 درجة مئوية بانحراف معيارى 5 درجات دون حدوث تغيرات فى خصائص العلف الطبيعية والكيميائية فأوجد:

1- احتمال أن يتحمل العلف التخزين عند درجة حرارة 40 فأكثر

2- احتمال أن يتحمل العلف التخزين عند درجة حرارة بين 15 و 45 درجة مئوية

3- أكبر وأقل درجة حرارة يمكن أن يخزن فيها العلف دون حدوث تغير فى خصائصه الطبيعية والكيميائية

4- وإذا سحبت عينة من هذا العلف حجمها 100 وحدة وحسب متوسط درجة الحرارة التى تتحملها أثناء التخزين

فكانت 38 درجة مئوية. فهل يمكن القول أن هذه العينة تنتمى إلى العلف الذى ينتجه المصنع موضوع الدراسة؟ ما

هو الاختبار المناسب فى هذه الحالة؟

السؤال الثالث (15 درجة)

القياسات التالية تعبر عن طول مدة الحفظ باليوم لنوع من الأعذية تم معاملته بطريقتين من طرق الحفظ والمطلوب اختبار

معنوية الفروق بين طول مدة الحفظ بالطريقتين، علماً بأن قيمة t الجدولية المناسبة 2.12

First Method	10	12	9	8	12	13	15	14	9	8
Second Method	11	8	6	7	10	11	12	8	7	5

السؤال الرابع (15 درجة)

- 1- قامت محطة لتسمين الحيوانات بشراء نوع من علف الأسمين وأرادت معرفة مدى مطابقتها هذا العلف للمواصفات المعلن عنها (مطابق - غير مطابق) فتم سحب عينه فوجد أن المتوسط الحسابي لها = 90 وتباينها = 9 احسب حجم العينة واحتمال مطابقة العينة للمواصفات .
- 2- مجموعة من عينات الأعذية عددها 20 عينة تم تقسيمها إلى مجهوعتين فرعيتين ، الأولى مكونة من 12 عينة والثانية من 8 عينات. فإذا كان متوسط المحتوى البروتيني للمجموعة كنها يبلغ 4.8 كيلو جرام، وكان متوسط المحتوى البروتيني للمجموعة الأولى هو 4 كيلو جرام. اوجد متوسط المحتوى البروتيني للمجموعة الفرعية الثانية؟
- 3- عرف كل مما يأتي:

الخطأ من النوع الأول - اختبار الذيلين - اختبار الذيل السفلي - اختبار الذيل العلوي - التباين النسبي


جدول لتوزيع انطبيعي انقاسي

الأعداد داخل الحدود تعطي قيمة المساحة الواقعة تحت المنحنى انطبيعي انقاسي من

$Z=0$ إلى قيم موجبة Z

z	.00	.01	.02	.03	.04	.05	.06	.07	.08	.09
0.0	.0000	.0040	.0080	.0120	.0160	.0199	.0239	.0279	.0319	.0359
0.1	.0398	.0438	.0478	.0517	.0557	.0596	.0636	.0675	.0714	.0753
0.2	.0793	.0832	.0871	.0910	.0948	.0987	.1026	.1064	.1103	.1141
0.3	.1179	.1217	.1255	.1293	.1331	.1368	.1406	.1443	.1480	.1517
0.4	.1554	.1591	.1628	.1664	.1700	.1736	.1772	.1808	.1844	.1879
0.5	.1915	.1950	.1985	.2019	.2054	.2088	.2123	.2157	.2190	.2224
0.6	.2257	.2291	.2324	.2357	.2389	.2422	.2454	.2486	.2517	.2549
0.7	.2580	.2611	.2642	.2673	.2704	.2734	.2764	.2794	.2823	.2852
0.8	.2881	.2910	.2939	.2967	.2995	.3023	.3051	.3078	.3106	.3133
0.9	.3159	.3186	.3212	.3238	.3264	.3289	.3315	.3340	.3365	.3389
1.0	.3413	.3438	.3461	.3485	.3508	.3531	.3554	.3577	.3599	.3621
1.1	.3643	.3665	.3686	.3708	.3729	.3749	.3770	.3790	.3810	.3830
1.2	.3849	.3869	.3888	.3907	.3925	.3944	.3962	.3980	.3997	.4015
1.3	.4032	.4049	.4066	.4082	.4099	.4115	.4131	.4147	.4162	.4177
1.4	.4192	.4207	.4222	.4236	.4251	.4265	.4279	.4292	.4306	.4319
1.5	.4332	.4345	.4357	.4370	.4382	.4394	.4406	.4418	.4429	.4441
1.6	.4452	.4463	.4474	.4484	.4495	.4505	.4515	.4525	.4535	.4545
1.7	.4554	.4564	.4573	.4582	.4591	.4599	.4608	.4616	.4625	.4633
1.8	.4641	.4649	.4656	.4664	.4671	.4678	.4686	.4693	.4699	.4706
1.9	.4713	.4719	.4726	.4732	.4738	.4744	.4750	.4756	.4761	.4767
2.0	.4772	.4778	.4783	.4788	.4793	.4798	.4803	.4808	.4812	.4817
2.1	.4821	.4826	.4830	.4834	.4838	.4842	.4846	.4850	.4854	.4857
2.2	.4861	.4864	.4868	.4871	.4875	.4878	.4881	.4884	.4887	.4890
2.3	.4893	.4896	.4898	.4901	.4904	.4906	.4909	.4911	.4913	.4916
2.4	.4918	.4920	.4922	.4925	.4927	.4929	.4931	.4932	.4934	.4936
2.5	.4938	.4940	.4941	.4943	.4945	.4946	.4948	.4949	.4951	.4952
2.6	.4953	.4955	.4956	.4957	.4959	.4960	.4961	.4962	.4963	.4964
2.7	.4965	.4966	.4967	.4968	.4969	.4970	.4971	.4972	.4973	.4974
2.8	.4974	.4975	.4976	.4977	.4977	.4978	.4979	.4979	.4980	.4981
2.9	.4981	.4982	.4982	.4983	.4984	.4984	.4985	.4985	.4986	.4986
3.0	.4987	.4987	.4987	.4988	.4988	.4989	.4989	.4989	.4990	.4990

مع أطيب التمنيات بالتوفيق
أ.د. رجب مغاوري على زين أ.د. حسن نبيه أبوسعدي أ.د.
صبحي أحمد أبو النجا

المادة : اقتصاديات الإنتاج الزراعي (و ٢٠٥) الفرقة : الثالثة (شعبة إدارة الأعمال الزراعية) الزمن : ساعتان	الامتحان التحريري النهائي الفصل الدراسي (الأول) العام الجامعي (٢٠١٤ / ٢٠١٥) تاريخ الامتحان : ٢٠١٤/١٢/٢٠	 قسم: الاقتصاد الزراعي
---	--	--

اجب عن الاسئلة الاتية

(20 درجة)

السؤال الاول:

(أ) ما هي المعلومات التي يجب توافرها لتطبيق أسلوب البرمجة الخطية.
(ب) من دالة الإنتاج التالية احسب التوليفة الأقل تكلفة من العنصرين الإنتاجيين X_1 و X_2 وكذا معادلة الممر التوسعي الأمثل للمنشأة. علماً بأن سعر الوحدة من العنصر X_1 تساوي ٢٠ جنيهاً وسعر الوحدة من العنصر X_2 تساوي ١٠ جنيهات وسعر الوحدة من الناتج Y تساوي جنيهاً.
 $Y = 3 + 19 X_1 - 1.5 X_1^2 + 20 X_2 - 4.5 X_2^2$

(20 درجة)

السؤال الثاني:

(١) اشرح مستعينا بالرسم اثباتي كلاً مما يأتي:
١- تحديد التوليفة المثلى من ناتجين.
٢- مفهوم وفورات السعة ولا وفورات السعة.
(ب) اشرح بإيجاز المفاهيم التالية: التكاليف الخفية - الدالة الإنتاجية - مرونة الإنتاج - الخط الحرج - دالة العرض - خط الإيراد المتساوي - المعامل التكنولوجي - الممر التوسعي الأمثل للمنشأة - المدى الطويل - المعدل الحدي للتحويل.


(٢٠ درجة)

السؤال الثالث:

(أ) مشروع اقتصادي ينتج نوعين من السلع، فإذا كان إنتاج الوحدة من السلعة الأولى X_1 يحتاج الى وحدة واحدة من رأس المال ووحدة من العمل، أما إنتاج الوحدة من السلعة الثانية X_2 فإنه يحتاج الى وحدة واحدة من رأس المال ووحدة واحدة من العمل. فإذا كان حجم رأس المال المتوفر ٤ وحدات وحجم العمل المتوفر ٦ وحدات، وأن ربح الوحدة الواحدة من السلعة الأولى ٤ جنيهات وربح الوحدة الواحدة من السلعة الثانية ٣ جنيهات. باستخدام الطريقة البيانية احسب عدد الوحدات اللازم إنتاجها من كلا السلعتين لتعظيم الأرباح، ثم احسب المتبقى من عناصر الإنتاج.
(ب) من دالة الإنتاج التالية احسب كلاً من الناتج الحدي والناتج المتوسط ومرونة الإنتاج لعنصرى الإنتاج (K, L) وما هي طبيعة عائد السعة لهذه الدالة.
 $Q = 3.5 K^{0.5} L^{0.8}$

مع أطيب التمنيات بالنجاح..،

إمارة وضع الأسئلة: (أ.د. حسن أبوسعد)، (أ.د. ه.بجى أحمد أبو النجا)، (د. خالد صلاح الدين طه)

<p>الفرقة: الثانية</p> <p>البرنامج: إدارة الأعمال الزراعية</p> <p>الشعبة: إدارة الأعمال الزراعية - نباتي & حيواني</p> <p>الزمن: ساعتان</p> <p>عدد صفحات الأسئلة: صفحة واحدة.</p>	<p>الامتحان التحريري النهائي</p> <p>المادة: تسويق زراعي ق ٢٠٤</p> <p>الفصل الدراسي الثاني</p> <p>العام الجامعي ٢٠١٤/٢٠١٥</p> <p>تاريخ الامتحان: ٢٠١٥/٦/٩</p>	 <p>قسم : الاقتصاد الزراعي</p>
--	--	---

السؤال الأول (٢٠ درجة) : ضع شرحاً موجزاً لكل من المفاهيم التالية :

- (١) القيمة المضافة للتسويق الزراعي . (٢) عناصر التكاليف التسويقية . (٣) الهامش التسويقي . (٤) الفرق سعري . (٥) فاعلية نظام التسويق الزراعي .
- السؤال الثاني : (١٠ درجات)

لقد جرى العرف بين الاقتصاديين الزراعيين وخبراء التسويق علي أن دراسة التسويق الزراعي يمكن تناولها من ثلاث مداخل أساسية علي أساس أن هذه المداخل تشرح ماهية التسويق الزراعي من وجهة نظر معينة. ويعتبر المدخل الوظيفي أحد هذه المداخل . أذكر مفهوم هذا المدخل ، ثم تناول بالشرح الموجز الوظائف التسويقية التي تناولها هذا المدخل.

السؤال الثالث : (١٥ درجات)

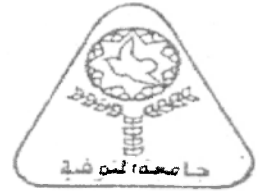
- (١) يمكن الاسترشاد بمجموعه من العناصر التي توضح أهميه التسويق علي مستوي الاقتصاد القومي . ناقش بإيجاز هذه العناصر .
- (٢) أذكر فقط سبل تخفيض التكاليف التسويقية .

السؤال الرابع : (١٥ درجة)

- (١) ناقش مفهوم المزيج التسويقي الزراعي ، ثم تناول بالشرح الموجز عناصر هذا المزيج .
- (٢) ناقش المحاور الرئيسية لأهداف السياسة التسويقية الزراعية .

مع أطيب الأمنيات بالتوفيق

لجنة الممتحنين : أ.د محمد الرحمن بربل & أ.د ماجد بوسنة & أ.د هسيمة مصطفى



كلية الزراعة

شعبة الاقتصاد الزراعي

الفرقة: الرابعة

المادة: بحث ومناقشات في علوم الاقتصاد الزراعي	لائحة مقررات قسم الاقتصاد الزراعي
الفصل الدراسي: الثاني للعام الجامعي 2014/2015م	عدد صفحات الأسئلة: صفحة واحدة
الزمن: ساعة واحدة	

مطلوب الإجابة عن جميع الأسئلة


السؤال الأول: (15 درجة)
حدد الفرق الأساسي بين التفكير عند الإنسان والتفكير عند الحيوان. مع ذكر أمثلة لهذا الفرق.

السؤال الثاني: (15 درجة)
اكتب بالتفصيل في الخطوات التي يجب اتباعها عند الشروع في إعداد بحث علمي حول أحد مشاكل الاقتصاد الزراعي.

السؤال الثالث: (15 درجة)
اكتب بالتفصيل في أهم الفروق بين منهج الاستنباط ومنهج الاستفراء في البحث العلمي

مع التمنيات الطيبة بالتوفيق

أ.د/ محمد مدحت مصطفى

الفرقة الثالثة..... المجال :شعبة ادارة الشعبة : ادارة..... الزمن : ساعتان..... عدد صفحات الأسئلة: 1.....	الامتحان التحريري النهائي المادة : جدوى وتقييم انشروعات..... الفصل الدراسي (الثاني) العام الجامعي (2015 / 2014) تاريخ الامتحان : 2015 / 6 / 3	 قسم :الاقتصاد الزراعي.....
--	--	---

أجب عن الأسئلة التالية:

السؤال الأول (30 درجة): اذا اعطيت البيانات التالية عن تكاليف ومنافع أحد المشروعات بالألف جنية والمطلوب حساب كل من:

IRR – NPV - Payback Period – Benefit / Cost Ratio

Year	1	2	3	4	5	6	7	8	9	10
Benefits	0	50	50	150	130	130	130	130	130	130
Costs	300	50	30	15	15	15	15	15	15	15

ملحوظة : يتوقع أن يقع IRR بين 20% ، 30% ، وأن تكلفه الفرصة البديلة لراس المال هي 10% .
 السؤال الثاني (15 درجة): عرف كلا مما يأتي باختصار:

Working Capital
 Preproduction Expenses
 Level Payment
 Equity
 Debt Service

Balance sheet statement
 Compound factor
 Dividends
 Accounts Receivable
 Discount rate.

السؤال الثالث، (15 درجة):

أ. قام أحد البنوك بتقديم قرض مقداره 100 ألف جنيها بفائدة سنوية 12 % يسدد على 5 سنوات السنتان الأولى والثانية فترة سماح يتم رسملة الفائدة خلالهما ثم يتم دفع خدمة الدين خلال الثلاث سنوات المتبقية بطريقة الدفعات المتساوية Level Payment . والمطلوب:

- احسب خدمة الدين السنوية خلال مدة القرض.
- استخدم طريقة معكوس معدل الخصم في ايجاد مكوئى الدفعات المتساوية لخدمة الدين سنويا خلال مدة القرض.


ب. اذا علمت أن:

The present value for an annuity factor at $n=10$ and $r = 8\%$
 is 6.710% , find the capital recovery factor

ج. اذا كان معدل الخصم 5% و عدد السنوات 6 فكيف يمكن معرفة معامل سداد القروض بثلاث طرق مختلفة؟

لجنة وضع الأسئلة:

أ.د.مجدى الجندى (.....)،،، أ.د.رجب مغاورى (.....)، د.حسين السيد (.....)

<p>المجال : الاقتصاد الزراعي و التنمية الريفية الفرقة : الثالثة الزمن : ساعتان عدد صفحات الأسئلة : صفحة واحدة</p>	<p>الامتحان التحريري النهائي المادة : اقتصاد كلي الفصل الدراسي (الثاني) العام الجامعي (2015/2014) تاريخ الامتحان : 2015 / 6 / 10</p>	 <p>قسم : الاقتصاد الزراعي</p>
---	--	---

(20 درجة)

السؤال الاول

- (أ) ضع علامة (\sqrt) أمام العبارات الصحيحة وعلامة (\times) أمام العبارات الخاطئة :
- 1- يكون الادخار موجب القيمة عندما يكون الدخل مساوياً للصفر.
 - 2- تؤدي زيادة الاجور الحقيقية إلى زيادة الطلب على العمل.
 - 3- يؤدي زيادة كلا من الضرائب والتحويلات الحكومية بعشرين جنيهاً إلى زيادة الدخل التوازني بعشرين جنيهاً.
 - 4- تنعدم فاعلية السياسة النقدية عندما يتقاطع منحنى IS مع منحنى LM في الجزء الأفقي من منحنى LM .
 - 5- كلما زاد الميل الحدي للاادخار كلما قلت قيمة مضاعف الإنفاق الحكومي.

(ب) اكمل العبارات التالية :

- 1- يؤدي الاستثمار إلى خفض المستوى التوازني لكلاً من الدخل وسعر الفائدة في نموذج التوازن العام.
- 2- يؤدي زيادة كلاً من الضرائب والإنفاق الحكومي بمقدار 20 جنيهاً إلى زيادة دخل التوازن بمقدار
- 3- وفقاً للنظرية الكلاسيكية يتناسب المستوى العام للأسعار مع كمية النقود.
- 4- يعرف بأنه ثمن التوازن في سوق النقود.
- 5- تقل فاعلية السياسة المالية كلما كانت نقطة تقاطع IS مع LM قرب الجزء من منحنى LM .

(20 درجة)

السؤال الثاني

اشرح مستعيناً بالرسم البياني كلاً مما يأتي:

- 1- المدى الكلاسيكي والمدى الكينزي.
- 2- اشتقاق منحنى التوازن في سوق السلع والخدمات (IS).
- 3- أثر خفض الضرائب على كل من المستوى التوازني للدخل وسعر الفائدة في نموذج التوازن العام.
- 4- اثر انتقال دالة الإنتاج لأعلى على حجم العمالة والإنتاج والاجور الحقيقية والأسعار والاجور النقدية في النموذج الكلاسيكي.

(20 درجة)

السؤال الثالث:

- (أ) إذا كان عرض النقود يساوي 250 جنيهاً والطلب على النقود للمعاملات والاحتياط ($MT = 0.2Y$) والطلب على النقود للمضاربة ($Ma = 150 - 500i$) ، فما هي كمية النقود التي يحتفظ بها بغرض المضاربة؟
- (ب) إذا كان الدخل القومي لعام 2015 يقدر بحوالي 100 مليار دولار وكانت الخطة الخمسية القادمة تتضمن زيادة الاستثمارات بمقدار 70 مليار دولار موزعة على سنوات الخطة بالتساوي، فإذا كان الميل الحدي للاستهلاك في المجتمع خلال هذا العام يساوي 0.75 ، قدر حجم الدخل القومي لعام 2016.

مع أطيب التمنيات بالنجاح

لجنة الممتحنين

د. يسرا السعودى شقره

د. على عبد الفتاح السعيد

أ.د/ حسن أبوسعد




كلية الزراعة

المجال: الاقتصاد الزراعي والتنمية الريفية

الفرقة: الثالثة

المادة: تنمية اقتصادية زراعية (ق 311)	القسم: الاقتصاد الزراعي
الفصل الدراسي: الثاني - العام الجامعي 2014/2015م	عدد أوراق الأسئلة: ورقة واحدة
الزمن: ساعتان	
مطلوب الإجابة عن جميع الأسئلة	
<p>السؤال الأول:</p> <p>تمثل التنمية الاقتصادية الأسلوب اتوحيد لمواجهة ظاهرة التخلف، تحدث عن ظاهرة التخلف الاقتصادي موضحاً لأهم أسباب وجود هذه الظاهرة، ثم وضح المفهوم العلمي للتنمية الاقتصادية.</p>	
<p>السؤال الثاني</p> <p>وضح الفرق بين كل من التنمية الاقتصادية والنمو الاقتصادي، ثم أذكر أهم المقاييس المستخدمة لكل منهما.</p>	
<p>السؤال الثالث:</p> <p>اشرح بالتفصيل العلاقة بين التركيب المحصولي والتنمية الزراعية.</p>	
<p>مع التمنيات الطيبة بالتوفيق</p>	

<p>الفرقة : الرابعة</p> <p>المجال : شعبة الاقتصاد الزراعى والتنمية الريفية</p> <p>الشعبة : الاقتصاد الزراعى</p> <p>الزمن : ساعتان</p> <p>عدد صفحات الأسئلة : واحدة</p>	<p>الامتحان التحريري النهائي</p> <p>المادة : ادارة اعمال مزرعية</p> <p>الفصل الدراسي : (الثانى)</p> <p>العام الجامعى : (٢٠١٤/٢٠١٥)</p> <p>تاريخ الامتحان : ٦/٦/٢٠١٥</p>	 <p>قسم: الاقتصاد الزراعى</p>
--	---	--

* أجب عن جميع الأسئلة التالية:

السؤال الأول : ٢٠ درجة

- أ- ناقش كل من العبارات الآتية : (٢٠ درجة)
- النمط المزرعى والعوامل المحددة له - المنكبة من حيث تعريفها وعناصرها وطرق اكتسابها وفيوها .
- ب- وضح الفرق بين كل من المصطلحات الآتية مع التوضيح بأمثلة : - (١٠ درجة)
- المزرعة والمزرعة - العوامل الاقتصادية والاجتماعية المحددة لاختيار المزارع - التأجير النقدي والتميني - طريقة الرسملة وطريق الثمن الجردى لتقييم الاراضى - التنظيم المزرعى والرقابة المزرعية .

السؤال الثانى : ٢٠ درجة

- أ - اذكر فقط فى نقاط محددة كل من :
- الاعراض التى تحققها السحلات المزرعة -- الاسس المختلفة لتقسيم المزارع أو تصنيفها . (٨ درجة)
- ب- ماهو مفهوم يوم العمل القياسى وكيف تحسب عدد ايام العمل القياسية اللازمة للمزرعة (اعطى مثال لكيفية حساب ايام العمل القياسية اللازمة للانتاج الحيوانى) . (٧ درجة)
- ج- فرق بين المزارع المحتلطة والتخصيبية ، و ماهو المقصود بالعناصر الانتاجية النادرة. (٥ درجة)


السؤال الثالث : ٢٠ درجة

- أ- ما هو المقصود بمصطلح مؤشرات قياس الاداء ، و ماهى فوائدها للمنشات ، اذكر أهم أنواع مؤشرات الاداء. (١٠ درجة)
- ب- ناقش تصنف مؤشرات أداء الجوده للمؤسسات بصفه عامة - ثم اذكر نماذج لهذه المؤشرات فى بعض المنشات . (١٠ درجة)

تمنيتى بالتوفيق،

لجنة وضع الأسئلة:

الاسم : أ.د. (صبحى ابوالنجا) ، الاسم : د. (محمد عبد المنعم) ، الاسم: د. (يسرا السعودى)

<p>الفرقة الرابعة المجال: الاقتصاد الزراعي والتنمية الريفية الشعبة: الاقتصاد الزراعي الزمن: ساعتان عدد صفحات الأسئلة: صفحة واحدة</p>	<p>الامتحان التحريري النهائي تجارة خارجية زراعية (٤١٦) الفصل الدراسي (الثاني) العام الجامعي (٤/٢٠١٥/٢٠١٥) تاريخ الامتحان: ٣٠ / ٥ / ٢٠١٥</p>	 <p>قسم : ..الاقتصاد الزراعي..</p>
--	---	---

أجب عن جميع الأسئلة التالية:

السؤال الأول (٢٠ درجة)

أولاً : لما كانت منحنيات الإمكانات الإنتاجية تمثل جانب العرض وخربطة منحنيات السواء تمثل جانب الطلب وبالتالي يمكن تناول شرط التوازن الإنتاجي والاستهلاكي الدولي في حالة عدم وجود تجارة خارجية - تناول شرط التوازن بينا ورياضيا في حالة عدم وجود تجارة خارجية

ثانيا : تفاس الوفرة النسبية لعوامل الإنتاج إما بالوفرة المادية أو بالأسعار النسبية لعناصر الإنتاج (اشرح)

السؤال الثاني (٢٠ درجة)

دراسة التجارة الخارجية تبدأ بالإجابة على ثلاث أسئلة أساسية هي
١- لماذا تقوم التجارة بين الدول وكانت الإجابة لاختلاف تكاليف العمل
٢- ماذا تريح الدول من التجارة الخارجية وكانت الإجابة بنظرية الميزة النسبية
٣- كيف تتحدد نسبة التبادل الدولي أو شرط التجارة اشرح الإجابة على هذا السؤال باستخدام التوازن الجزئي

السؤال الثالث (٢٠ درجة)

أولاً : فرق بين كل مما يأتي

١- الاقتصاد الماتلق والاقتصاد المتوح

٢- خطوط كنتور الناتج المتساوي في حالة ثبات واختلاف نسب المزج

٣- منحني الامكانيات الانتاجية في الفترة القصيرة والطويلة


ثانيا : يضم ميزان المدفوعات اربعة اجزاء اساسية - اذكر هذه الاجزاء ثم وضح محتواها في

جانبى ميزان المدفوعات الدائن والمدين

لجنة وضع الأسئلة

أ د عادل يوسف عوض، أ د عبد الرحمن تربل، أ.د. رجب مغاوري زين

ع مغاوري

<p>الشعبة : إدارة الأعمال المزرعية المستوى : الثانى الزمن : ساعتان عدد صفحات الاسئلة : صفحة واحده</p>	<p>الامتحان التحريري النهائي المادة : اقتصاد كلي الفصل الدراسى (الثانى) العام الجامعى (2015/2014) تاريخ الامتحان : 2 / 6 / 2015</p>	 <p>قسم : الاقتصاد الزراعى</p>
---	---	---

(20 درجة)

السؤال الاول

- (أ) ضع علامة (\sqrt) أمام العبارات الصحيحة وعلامة (\times) أمام العبارات الخاطئة :
- 1- تشمل المسحوبات كلاً من الإدخار والواردات والضرائب والاستهلاك.
 - 2- تؤدي زيادة الضرائب إلى انخفاض المستوى التوازنى لكلاً من الدخل وسعر الفائدة فى نموذج التوازن العام.
 - 3- يؤثر التضخم إيجابياً على الأفراد الذين يحتفظون بأموالهم فى صورة أصول نقدية.
 - 4- كلما زاد المجتمع فقراً كلما زاد ميله الحدى للاستهلاك.
 - 5- يؤدي انخفاض كمية النقود إلى انتقال منحنى (IS) الى اليسار.
- (ب) اشرح المقصود بالمفاهيم التالية:
- الناجى القومى الإجمالى - الطابى على النقود للمعاملات - التضخم المكبوت - دالة الاستهلاك - المتغير المتدفق.

(20 درجة)

السؤال الثانى

- اشرح مستعينا بالرسم البيانى كلاً مما يأتى:
- (1) أثر زيادة كمية النقود على حجم العمالة والإنتاج والأجور الحقيقية والأسعار والأجور النقدية فى النموذج الكلاسيكى.
 - (2) أثر خفض الاستثمار على المستوى التوازنى لكل من الدخل وسعر الفائدة فى نموذج التوازن العام.
 - (3) أثر زيادة كمية النقود على المستوى التوازنى لكل من الدخل وسعر الفائدة فى نموذج التوازن العام.
 - (4) اشتقاق منحنى التوازن فى سوق النقود (LM).

(20 درجة)

السؤال الثالث


- (1) إذا كان الطلب على النقود للمعاملات ($M_t = 0.2y$) والطلب على النقود بغرض المضاربة ($M_a = 100 - 500i$).
 - 1 - أوجد معادلة الطلب الكلى على النقود.
 - 2 - أوجد كمية النقود المطلوبة إذا كان سعر الفائدة 10% ومستوى الدخل يساوى 500 جنيهاً.
- (ب) إذا كان المستوى التوازنى للدخل يساوى 700 مليار جنيه ، وسعر الفائدة يساوى 7% ، فإذا كان الهدف هو زيادة المستوى التوازنى للدخل إلى 800 مليار جنيه وكان مضاعف الضرائب يساوى 1.6 ، أحسب مقدار الخفض فى الضرائب اللازم لتحقيق المستوى التوازنى للدخل.

مع أطيب التمنيات بالنجاح

د. على عبد الفتاح السعيد

أ.د. إبراهيم صديق على

لجنة الممتحنين
أ.د. حسن نبيه أبوسعد

المادة : بورصات زراعية ق ٤٠٤ المستوى : الرابع البرنامج : إدارة الأعمال الزراعية الزمن : ساعتان عدد صفحات الأسئلة : صفحاتنا	امتحان التحريري النهائي الفصل الدراسي (الثاني) العام الجامعي (٢٠١٤ / ٢٠١٥) تاريخ الامتحان : ٢ / ٦ / ٢٠١٥	 قسم : الاقتصاد الزراعي
--	---	---

أجب عن الأسئلة التالية :

السؤال الأول:

(١٠ درجات)

- أ- إذا ما قمت بشراء عقد لحوم مستقبلي بسعر ٥٦ دولار / ١٠٠ كجم، وكنت تتوقع أن يكون معامل الأساس عند مستوى ١.٥ دولار منخفض ، ما هو السعر المستهدف للشراء.
- ب- إذا ما اشتريت عقود مستقبلية للذرة بسعر ٢.٥٥ دولار/بوشل للتحوط ضد تقلبات اسعار الشراء. وإذا كنت تتوقع ان يكون معامل الأساس ٠.٢٠ دولار منخفض ، ما هو السعر المستهدف للشراء
- ج- إذا ما اشتريت عقد مستقبلي للذرة بسعر ٢.٦ دولار/بوشل ثم بعتة بسعر ٢.٥ دولار/ بوشل، واشتريت احتياجاتك من الذرة من سوق البضاعة الحاضرة بسعر ٢.٢٥ دولار/بوشل ، ما هو السعر الذي اشتريت به احتياجاتك من الذرة
- د- إذا ما اشتريت عقود مستقبلية لماشية التسمين بسعر ٧٢ دولار / ١٠٠ كجم ثم قمت ببيع العقود بسعر ٧٥ دولار / ١٠٠ كجم واشتريت احتياجاتك من سوق البضاعة الحاضرة بسعر ٧٤ دولار / ١٠٠ كجم ما هو اجمالي السعر الذي دفعته

- هـ- إذا ما توقعت أن السعر النقدي في السوق المحلية للذرة سوف يكون ١٥ سنت أقل عن سعر العقود المستقبلية لشهر مارس، والذي كان في ذلك الوقت ٥.٥ دولار/ بوشل تسليم مارس، فما هو صافي سعر البيع الذي تتوقعة لخصولك

السؤال الثاني : إنقل الجدول التالي في كراسة الإجابة بنفس التصميم وضع علامة (✓) أمام الإجابة المناسبة لكل

(١٠ درجات)

من العبارات التالية:

١. العقود المستقبلية هي:	
أ- العقود الآجلة ()	ب- عقود قياسية لإستلام السلع في مكان وسعر محدد مسبقا ()
ج- عقود ذات شروط تسعير فباسة ()	د- كل ما سبق ()
٢. يتم اكتشاف أسعار العقود المستقبلية من خلال :	
أ- طلبات الشراء وعروض البيع ()	ب- موظفي ومديري البورصة ()
ج- عروض مكتوبة في أظرف مغلقة ()	د- غرفة المقاصة ()
هـ- كلا من الإجابة ب والإجابة د ()	
٣. يقوم المضاربين بالآتي	
أ- تحمل مخاطر أسعار السوق ()	ب- توفير السيولة للأسواق ()
ج- المساعدة على اكتشاف السعر ()	د- تسهيل عملية التحوط ()
هـ- كل ما سبق ()	