


<p>الفرقة : الرابعة (لامحة قديمة) المجال : العلوم الاقتصادية والاجتماعية الشعبة : الاقتصاد الزراعي الزمن : ساعتان عدد صفحات الأسئلة : واحدة</p>	<p>الامتحان التحريري النهائي المادة : التسويق الزراعي (ق ٤٠١) الفصل الدراسي : (الأول) العام الجامعي : ٢٠١٧/٢٠١٦ تاريخ الامتحان : ٢٠١٧/١/٤</p>	 <p>قسم : الاقتصاد الزراعي</p>
---	---	---

أجب عن جميع الأسئلة التالية مستعينا بالرسوم البيانية والمعادلات الرياضية كلما أمكن ذلك:

السؤال الأول (٢٠ درجة)

أ - عرف أو اكتب مشمول كل من العبارات الآتية :

علاقة الإنتاج بالتسويق - تاجر التجزئة - المنهج السلي - السمسار - المضارب . (٦ درجة)

ب- وضح بيانيا فقط كيف يمكن توزيع مبيعات المنتج بين الاسواق في حالة وجود تمييز سعري ، وكيف يمكن تحديد الكمية الممثلة لارباح المحتكر في هذه الحالة . (٨ درجة)

ج- وضح الفرق بين كل من : الطلب على مستوى المزرعة وعلى مستوى المستهلك - التوازن مع تحقيق خسائر في سوق الاحتكار الكامل باستخدام منحنيات الوحدة . (٦ درجة)

السؤال الثاني (١٥ درجة)

أ- ما هو المقصود بالهوامش التسويقية ، وما هي علاقتها بالتكاليف التسويقية.

ب- وضح بيانيا فقط مع كتابة البيانات على الرسم الدورات او الذبذبات في الكميات والاسعار والتي تتحكم فيها مرونة العرض والطلب لسعة ما . (١٠ درجة)

السؤال الثالث (٢٥ درجة)

أ - وضح أهم ملامح استراتيجية التحول الى التجارة الالكترونية في التصدير الزراعي عن طريق التسويق

الالكتروني ، وما هي الخطوات التنفيذية لهذا التحول في شركات التصدير الزراعي . (١٥ درجة)

ب- كيف يمكن تقييم الكفاءة الاقتصادية ، وهل يمكننا قياس الكفاءة التسويقية لسعة مبينة . (١٠ درجة)


تمنياتي بالتوفيق،،،

لجنة وضع الأسئلة:

الاسم: أ.د (احمد الخولي)

الاسم: أ.د (حسن ابو سعد)

الاسم: أ.د (صبحى ابوالنجا)

الفرقة : الرابعة	الامتحان التحريري النهائي	
المجال : ادارة الاعمال الزراعيه	المادة: المحاسبه الزراعيه (ق ٣٠١)	
الشعبة : ادارة الاعمال الزراعيه	الفصل الدراسي: (الثاني)	
الزمن : ساعتان	العام الجامعي : (٢٠١٧/٢٠١٦)	
عدد صفحات الأسئلة: صفحتان	تاريخ الامتحان: ٢٠١٧ / ٦ / ٣	
		قسم : الاقتصاد الزراعي

أجب عن الأسئلة التاليه (علما بأن التنسيق والنظام له أهميته عند تقدير الدرجات):

(١٦ درجة)

السؤال الاول:

فيما يلي بعض البيانات المستخرجة من دفاتر إحدى المنشآت الزراعيه عن السنة المنتهيه في ٢٠١٥/١٢/٣١ بالنسبة لمصروفات محصولي القمح والشعير. فإذا علمت أن مساحة القمح ضعف مساحة الشعير، وأن المصروفات الإدارية للمحصولين معا تقدر بحوالي ١٥٠٠ جنيه، وأن العمل العائلي في ضم (حصاد) المحصولين معا يقدر بحوالي ٩٠٠ جنيه، وأن إنتاجية الشعير بلغت ٦٠٠ وحدة وزنية تباع الوحدة منها بسعر ٢٥ جنيه، وأن إنتاجية القمح بلغت ٥٠٠ وحدة وزنية تباع الوحدة منها بسعر ٥٠ جنيه. والمطلوب هو عمل قائمة التكاليف الزراعيه لكل محصول على حده وللمحصولين معا موضحا بها ثمن التكلفة الزراعي، ثمن تكلفة المحصول، ثمن تكلفه البيع والعائد الكلي وصافي العائد.

البيانات	الشعير	القمح
تكلفة المواد الاونيه والبذور ومقاومة آفات التربيه والاسمده	١٩٠٠	٣٣٠٠
أجور الحرث والعزيق والري وماقبل الحصاد	٦٥٠	٩٠٠
مصروفات نقل المحصول من الحقل	٤٠٠	٦٠٠
مصروفات النقاوة والدراس	٥٥٠	٧٥٠
مصروفات البيع والتعبئه	٢٥٠	٤٥٠
مصروفات النقل للخارج	٢٠٠	٣٥٠


(٢٤ درجة)

السؤال الثاني:

- (أ) ضع علامة (X) او () على العبارات التاليه ثم أعد كتابة العبارات الخاطئه بعد تصحيحها: (١٢ درجة)
- لا يتم تحديد حساب حيوانات المزرعه بتكاليف زراعيه بحاصل العلف، المزرعه خصيصا لهذه الحيوانات.
 - إذا بلغت قيمة الاصول ٢٠٠ الف جنيه وقيمة حقوق المئكيه ٥٠ الف جنيه فان قيمة الالتزامات والخصوم تساوي ٢٥٠ الف جنيه.
 - من عيوب طريقة التحديد الفعلي للتكاليف غير المباشره احتياجها لعمل تسويه للحسابات في نهاية المده.
 - يعتبر دفتر الكوبيا من الدفاتر العرفيه بينما دفتر الجرد من الدفاتر القانونيه بالمنشأه.
 - إذا كان رصيد ح/ المتاجره رصيذا دائنا بمبلغ ١٢٠ ألف جنيه، وكان رصيد ح/ ا، ح رصيذا مدينا بمبلغ ٣٠ ألف جنيه، فان راسمال المنشأه للدوره الجديده يزيد عن الأصلي بمقدار ٩٠ الف جنيه.
 - يطلق على التكاليف من بداية اعداد الارض للزراعه وحتى حصاد المدهصول اسم ثمن تكلفه المحصول.
 - ليست هناك فروق جوهرية بين الميزانيه السوميه والموازنه التقديرية.
 - الخصم الكمي لا يتم تسجيله بالدفاتر وانما تتم معرفته فقط لتيسير عمليه البيع.
- (ب) قارن في جدول مع التوضيح بأمثله (كلما أمكن) بين كل من:
- المخصص والاحتياطي.
 - محاسبه التكاليف الزراعيه والمحاسبه الماليه.
 - المبادئ المحاسبية والفروض المحاسبية.
 - اثن الوارد الي المخازن واثن المنصرف من المخازن.

(١٢ درجة)

((انظر صفحه ٢))

المادة: بورصات زراعية و ٤٠٤ المستوى : الرابع البرنامج : إدارة الأعمال الزراعية الزمن : ساعتان عدد صفحات الأسئلة: صفحتان	امتحان التحرير النهائي الفصل الدراسي (الثاني) العام الجامعي (٢٠١٦ / ٢٠١٧) تاريخ الامتحان: ٣٠ / ٥ / ٢٠١٧	 قسم : الاقتصاد الزراعي
---	--	--

أجب عن الأسئلة التالية :

(٨ درجات)


السؤال الأول: انقل الجدول التالي في كراسة الإجابة بنفس التصميم. ثم أكمل بيانات الجدول:

صافي السعر المستلم أو المدفوع Net Price Received /Paid	الربح/الخسارة في السوق المستقبلية Futures Gain/Loss	السعر النقدي Cash Price	السعر المستقبلي Futures Price	معامل الأساس Basis
.....	\$ ٠,٥+ / بوشل	بيع بسعر	شراء عند \$ ٥,٥ / بوشل	١٥ سنت أقل
.....	\$ ٣- / ١٠٠ كجم	بيع بسعر \$ ٧٤ / ١٠٠ كجم	شراء عند	(\$ ٢+)
.....	١٠- سنت / بوشل	شراء بسعر ٢,٢٥ بوشل/\$	بيع بسعر ٢,٦ بوشل/\$
\$ ٧٠ / بوشل	شراء بسعر	بيع بسعر \$ ٦٦ / بوشل	(\$ ٢+)

(١٠ درجات)

السؤال الثاني: انقل رقم العبارة ورقم الإجابة الصحيحة فقط في كراسة الإجابة

١. العقود المستقبلية هي:	
أ- العقود الآجلة	()
ب- عقود قياسية لاستلام السلع في مكان وسعر محددتين مسبقاً	()
ج- عقود ذات شروط تسعير قياسية	()
د- كل ما سبق	()
٢. يتم اكتشاف أسعار العقود المستقبلية من خلال:	
أ- طلبات الشراء وعروض البيع	()
ب- موظفي ومديري البورصة	()
ج- عروض مكتوبة في أطراف مغلقة	()
د- كلا من الإجابة ب والإجابة د	()
د- غرفة المقاصة	()
٣. يقوم المضاربين بالآتي	
أ- تحمل مخاطر أسعار السوق	()
ب- توفير السيولة للأسواق	()
ج- المساعدة على اكتشاف السعر	()
د- كل ما سبق	()
هـ- تسهيل عملية التحوط	()
٤. ينطوي التحوط على:	
أ- اتخاذ وضع مستقبلي معاكس للوضع في السوق الحاضرة	()
ب- اتخاذ وضع مستقبلي مطابق للوضع في السوق الحاضرة	()
ج- حيازة موقف في السوق المستقبلية	()
د- حيازة موقف في السوق الحاضرة	()
هـ- لا شيء مما سبق	()
٥- يعبر معامل الأساس عن:	
أ- الفرق بين أسعار السوق النقدية في مواقع مختلفة	()
ب- الفرق بين أسعار أشهر تسليم مختلفة	()
ج- الفرق بين السعر النقدي المحلي وسعر العقود الآجلة	()
د- ليس أي مما سبق	()

<p>المستوي: الرابع برنامج: إدارة الأعمال الزراعية الزمن: ساعتان عدد صفحات الأسئلة: صفحة واحدة</p>	<p>الامتحان التحريري النهائي المادة: إدارة مزارع متخصصة ق ٤٠٢ الفصل الدراسي الثاني العام الجامعي ٢٠١٦/٢٠١٧ تاريخ الامتحان: ٢٧/٥/٢٠١٧</p>	<p> قسم: الاقتصاد الزراعي</p>
---	--	--

أجب عن جميع الأسئلة التالية:

(١٠ درجة)

السؤال الأول:

تناول بالشرح مؤشرات قياس كفاءة المنشأة؟

(١٦ درجة)

السؤال الثاني:

- أ- تكلم عن أنواع ومراحل التقارير المزرعية ؟
ب- وضح أهداف وأهمية عملية التخطيط الاستراتيجي؟

(٢٠ درجة)

السؤال الثالث:

ناقش العبارات التالية

١. أهداف ومزايا السجلات المزرعية.
٢. أهم العوامل التي تؤثر على وضع الخطة المزرعية.
٣. الصفات الواجب توافرها في مدير المزرعة.
٤. خطوات التفكير الاستراتيجي.

(١٤ درجة)

السؤال الرابع:

- أ- ماهي أسباب وفوائد قياس الأداء بالمنشآت؟
ب- اذكر المتطلبات الرئيسية لإدارة التميز؟

مع أطيب الأمنيات بالتوفيق

لجنة الممتحنين:

د. نعمة فتحي محمد الشامي

د. خالد صلاح الدين طه محمود

أ.د. رجب مغاوري علي زين



قسم: الاقتصاد الزراعي

الإمتحان التحريري النهائي
المادة: حاسب آلي و نظم
معلومات زراعية (ز. 201)
الفصل الدراسي الأول
العام الجامعي (2016/2017)
تاريخ الامتحان: 2016/12/31

المستوي: الثاني
المجال: شعبة عامة+هندسة زراعية
الزمن: ساعتين
الاسم:
الشعبة:
القسم:

ضع علامة صح أو خطأ أمام العبارات التالية داخل المسنطيل المحدد لذلك مع مراعاة أن الإجابة في نفس ورقة الأسئلة.

المكان المخصص للعلامة	رقم العبارة	العبارات
	1	$=\text{CORREL}(D3:D10;E3:E10) \rightarrow \text{Enter}$ قيمة الارتباط المقدر من هذه العلاقة تختلف عند إبدال D محل E و E محل D.
	2	$=\text{Standard deviation}(D15:D30)$ تستخدم هذه الصيغة لحساب الانحراف المعياري للقيم في المدى D15 الي D30
	3	$=\text{Fact}(B5)$ تستخدم هذه الصيغة لحساب مضروب القيمة الموجودة بالخلية B5
	4	$=\text{Combination}(10:5)$ تستخدم هذه الصيغة لحساب 10 تباديل 5
	5	$=\text{Permu}(20:4)$ تستخدم هذه الصيغة لحساب 20 توافق 4
	6	F-Test Two-Sample for Variances متوسطي عينتين مرتبطتين. يستخدم هذا الاختبار للتأكد من معنوية الفرق بين
	7	T-Test: Two-Sample Assuming Unequal Variances معنوية الفرق بين متوسطي عينتين مستقلتين. يستخدم هذا الاختبار للتأكد من
	8	T-Test: Two-Sample Assuming Equal Variances معنوية الفرق بين متوسطي عينتين مستقلتين. يستخدم هذا الاختبار للتأكد من
	9	Insert \rightarrow Column يستخدم هذا الأمر لإدراج رسم بياني في صورة أعمدة بعد تحديد نطاق البيانات المطلوب التعبير عنها بالرسم.
	10	Anova: Single Factor متعدده لعاملين أحدهما يمثل كأعمدة و الآخر كصفوف. يستخدم هذا الاختبار للتأكد من معنوية الفرق بين تأثير مستويات مع أطيب تمنيات بالنجاح والتوفيق

لجنة وضع الأسئلة:

(د. خالد صلاح الدين طه)، (أ. د. رجب مغاوري)، (د. يسرا السعودى شقرة)

جامعة المنوفية	الامتحان النهائي	تاريخ الامتحان: ٢٠١٧/١/١٤
كلية الزراعة	المادة: إحصاء عام	شعبة: إدارة الأعمال
قسم الاقتصاد الزراعي	المستوى الثاني	الزمن: ساعتان

السؤال الأول:

(أ) إذا كان الراكب يدفع مبلغاً مقطوعاً مقداره 200 قرش عند فتح باب التاكسي و 150 قرش لكل كيلومتر واحد. فما هي المعادلة التي تعبر عن إجمالي المبلغ الذي يدفعه الراكب؟ وما هو المبلغ الذي يدفعه الراكب إذا قطع مسافة عشرة كيلومترات؟

(ب) مصنع لإنتاج الجبن يوجد به في المتوسط 3 علب فاسدة لعينة الإنتاج اليومي، فما هو احتمال الحصول على إنتاج يوم معين ليس به علب فاسدة، وما هو الانحراف المعياري للتوزيع.

السؤال الثاني:

(أ) إذا كانت درجات الطلاب في مادة الإحصاء تتوزع طبيعياً بمتوسط قدره 60 درجة وانحراف معياري 10.2 درجة، وكان عدد الطلاب 1000 طالب والمطلوب:

a. حساب احتمال أن تكون درجات الطلبة أكبر من 80 درجة.

b. حساب احتمال أن تكون درجات الطلبة أقل من 50 درجة.

c. حساب عدد الطلاب في الحالتين السابقتين.

(ب) إذا كان هناك علاج فعال بنسبة 80% في علاج مرض معين، وأعطى العلاج لأربعة أفراد، فما هو احتمال شفاء فردين فقط، ثم احسب التوقع والانحراف المعياري لهذا التوزيع.

السؤال الثالث:

(أ) في امتحان الإحصاء أخذت عينة من مجتمع الطالبات حجمها 100 طالبة، ووجد أن المتوسط 65 درجة، والتباين 25 درجة، وعينه أخرى من مجتمع الطلاب حجمها 80 طالب وكان المتوسط 60 درجة، والتباين 16 درجة، احسب فترة الثقة للفرق بين متوسطي المجتمعين عند مستوى ثقة 95%.

(ب) إذا علمت أن متوسط أطوال الطلاب في كلية الزراعة هو 170 سم، أخذت عينة عشوائية من مجتمع الطلاب عددها 25 طالب وكان متوسط أطوالهم 174 سم بتباين قدره 144 سم، اختبر الفرض القائل بأن متوسط العينة لا يختلف عن متوسط المجتمع وذلك عند مستوى معنوية (0.01).

مع خالص تمناياتي بالتوفيق ..

لجنة الامتحان:

أ.د/ حسن نبيه أبو سعد

أ.د/ أحمد صلاح الخولي

أ.م/ خالد صلاح الدين طه

()

()

()

جدول Z: التوزيع الطبيعي القياسي

z	0.00	0.01	0.02	0.03	0.04	0.05	0.06	0.07	0.08	0.09
0.0	.0000	.0040	.0080	.0120	.0160	.0199	.0239	.0279	.0319	.0359
0.1	.0398	.0438	.0478	.0517	.0557	.0596	.0636	.0675	.0714	.0753
0.2	.0793	.0832	.0871	.0910	.0948	.0987	.1026	.1064	.1103	.1141
0.3	.1179	.1217	.1255	.1293	.1331	.1368	.1406	.1443	.1480	.1517
0.4	.1554	.1591	.1628	.1664	.1700	.1736	.1772	.1808	.1844	.1879
0.5	.1915	.1950	.1985	.2019	.2054	.2088	.2123	.2157	.2190	.2224
0.6	.2257	.2291	.2324	.2357	.2389	.2422	.2454	.2486	.2517	.2549
0.7	.2580	.2611	.2642	.2673	.2704	.2734	.2764	.2794	.2823	.2852
0.8	.2881	.2910	.2939	.2967	.2995	.3023	.3051	.3078	.3106	.3133
0.9	.3159	.3186	.3212	.3238	.3264	.3289	.3315	.3340	.3365	.3389
1.0	.3413	.3438	.3461	.3485	.3508	.3531	.3554	.3577	.3599	.3621
1.1	.3643	.3665	.3686	.3708	.3729	.3749	.3770	.3790	.3810	.3830
1.2	.3849	.3869	.3888	.3907	.3925	.3944	.3962	.3980	.3997	.4015
1.3	.4032	.4049	.4066	.4082	.4099	.4115	.4131	.4147	.4162	.4177
1.4	.4192	.4207	.4222	.4236	.4251	.4265	.4279	.4292	.4306	.4319
1.5	.4332	.4345	.4357	.4370	.4382	.4394	.4406	.4418	.4429	.4441
1.6	.4452	.4463	.4474	.4484	.4495	.4505	.4515	.4525	.4535	.4545
1.7	.4554	.4564	.4573	.4582	.4591	.4599	.4608	.4616	.4625	.4633
1.8	.4641	.4649	.4656	.4664	.4671	.4678	.4686	.4693	.4699	.4706
1.9	.4713	.4719	.4726	.4732	.4738	.4744	.4750	.4756	.4761	.4767
2.0	.4772	.4778	.4783	.4788	.4793	.4798	.4803	.4808	.4812	.4817
2.1	.4821	.4826	.4830	.4834	.4838	.4842	.4846	.4850	.4854	.4857
2.2	.4861	.4864	.4868	.4871	.4875	.4878	.4881	.4884	.4887	.4890
2.3	.4893	.4896	.4898	.4901	.4904	.4906	.4909	.4911	.4913	.4916
2.4	.4918	.4920	.4922	.4925	.4927	.4929	.4931	.4932	.4934	.4936
2.5	.4938	.4940	.4941	.4943	.4945	.4946	.4948	.4949	.4951	.4952
2.6	.4953	.4955	.4956	.4957	.4959	.4960	.4961	.4962	.4963	.4964
2.7	.4965	.4966	.4967	.4968	.4969	.4970	.4971	.4972	.4973	.4974
2.8	.4974	.4975	.4976	.4977	.4977	.4978	.4979	.4979	.4980	.4981
2.9	.4981	.4982	.4982	.4983	.4984	.4984	.4985	.4985	.4986	.4986
3.0	.4987	.4987	.4987	.4988	.4988	.4988	.4989	.4989	.4990	.4990



قسم : الاقتصاد الزراعي

الامتحان التحريري النهائي

المادة : اقتصاد كلي

الفصل الدراسي (الثاني)

العام الجامعي (٢٠١٧/٢٠١٦)

تاريخ الامتحان : ٢٠١٧/٦/٦

الشعبة : إدارة الأعمال الزراعية
الفرقة : الثانية
الزمن : ساعتان
عدد صفحات الاسئلة : صفحة واحدة

السؤال الأول: (أ) ضع علامة (\sqrt) امام العبارات الصحيحة وعلامة (\times) امام العبارات الخاطئة :

- ١- تؤدي زيادة عرض النقود مع ثبات سعر الفائدة إلى زيادة المستوى التوازني للدخل.
- ٢- يمكن علاج الكساد من خلال خفض الضرائب.
- ٣- يؤدي انخفاض الاستثمار مع ثبات سعر الفائدة إلى انخفاض المستوى التوازني للدخل.
- ٤- كلما زادت الأجور الحقيقية زاد عرض العمل.
- ٥- يعتبر الاستثمار التلقائي متغيراً مستقلاً لا تتوقف قيمته على مستوى الدخل القومي.
- ٦- تمثل التحويلات الحكومية مدفوعات الحكومة للأفراد مقابل الحصول على عائد مباشر من السلع والخدمات.
- ٧- يؤدي زيادة كثر من الإنفاق الحكومي والضرائب بعشرين دينار إلى زيادة الدخل التوازني بستين دينار.
- ٨- عند زيادة الضرائب واستخدام هذه الحصيلة لزيادة الإنفاق الحكومي فإن المستوى التوازني للدخل لن يتغير.
- ٩- كلما زاد الميل الحدي للإدخار كلما زادت قيمة مضاعف الاستثمار.
- ١٠- ينص قانون ساي على أن الطلب ينشأ العرض عليه.

(ب) أكمل العبارات التالية :
(يجب كتابة الكلمات الناقصة فقط وعدم كتابة الجملة كاملة)

- ١- تكون العلاقة بين الميل الحدي للاستهلاك والميل الحدي للإدخار
- ٢- يعتبر التأثير على مكونات الطلب الكلي لعلاج النشاط الاقتصادي من إجراءات السياسة
- ٣- إذا كان الميل الحدي للإدخار يساوي فإن مضاعف الإنفاق الحكومي يساوي (٤) .
- ٤- كلما زاد الميل الحدي للاستهلاك كلما قيمة مضاعف الإنفاق الحكومي.
- ٥- تؤدي زيادة الإنفاق الحكومي إلى انتقال منحنى (IS) إلى
- ٦- في الدول الفقيرة يكون الميل الحدي للاستهلاك
- ٧- تؤدي زيادة كلاً من الإنفاق الحكومي والضرائب بعشرين دينار إلى زيادة الدخل التوازني دينار.
- ٨- يتحدد سعر الفائدة التوازني عند الكلاسيك عندما يتساوى مع الإدخار.
- ٩- قيمة مضاعف التحويلات الحكومية من قيمة مضاعف الإنفاق الحكومي.
- ١٠- عند زيادة الضرائب واستخدام هذه الحصيلة لزيادة فإن المستوى التوازني للدخل لن يتغير .

السؤال الثاني: اشرح مستعيناً بالرسم البياني كلاً مما يأتي:

(١) أثر انتقال دالة الإنتاج لأعلى على حجم العمالة والإنتاج والأجور الحقيقية والأسعار والأجور النقدية .

(٢) اشتقاق منحنى التوازن في سوق السلع والخدمات (IS) .

السؤال الثالث:

(أ) إذا كان عرض النقود يساوي ٢٥٠ جنيهاً والطلب على النقود للمعاملات والاحتياط ($Mt = ٠,٢ Y$)

والطلب على النقود للمضاربة ($Ma = ١٥٠ - ٥٠٠i$) ، فما هي كمية النقود التي يحتفظ بها بغرض المضاربة علماً

بأن مستوى الدخل التوازني يساوي ٧٠٠ دولار ؟

(ب) إذا كان الدخل القومي لعام ٢٠١٧ يقدر بحوالي ١٠٠ مليار دولار وكانت الخطة الخمسية القادمة تتضمن زيادة

الاستثمارات بمقدار ٧٠ مليار دولار موزعة على سنوات الخطة بالتساوي، فإذا كان الميل الحدي للاستهلاك في


المجتمع خلال هذا العام يساوي ٠,٧٥ ، قدر حجم الدخل القومي لعام ٢٠١٨ .

مع أطيب التمنيات بالنجاح

لجنة الممتحنين

أ.د. أحمد صلاح الخولي

أ.د. محمد أحمد النجا

<p>المستوى: الثاني+ طلاب من مستويات أخرى. المجال: الاقتصاد والارشاد والمجتمع الريفى البرنامج : ادارة أعمال زراعية الزمن : ساعتان عدد صفحات الأسئلة: واحدة</p>	<p>الامتحان التحريري النهائي المادة . تسويق زراعى ق 204 الفصل الدراسى: (الثانى) العام الجامعى: (2017/2016) تاريخ الامتحان : 2017/5/27</p>	<p> قسم : الاقتصاد الزراعي</p>
---	---	---

*أجب عن جميع الأسئلة التالية مستعينا بالرسوم البيانية والمعادلات الرياضية كلما امكن ذلك:

السؤال الأول (20 درجة)

- أ - عرف او اكتب مدلول كل من العبارات الآتية:
التسويق الزراعى- تاجر التجزئة - السمسار- المضارب. (7 درجة)
ب- ناقش المشاكل التسويقية التى تواجه المزارع بإختصار. (7 درجة)
ج- وضح كيف يمكن حساب الكفاءة التسويقية الانتاجية. (6 درجة)

السؤال الثانى (20 درجة)

- أ- ما هو المقصود بالوظائف التسويقية المساعدة - ناقش هذه الوظائف وأهم الفروق بينها.
(10 درجة)
ب- عرف السوق الزراعى ثم وضح بإيجاز أهم الفروق بين أنواع الأسواق الزراعية. (10 درجة)


السؤال الثالث (20 درجة)

- أ- وضح بيانياً فقط مع كتابة البيانات على الرسم: كيف يتم توازن المنتج مع تحقيق خسائر فى المدى القصير فى كل من سوق المنافسة الكاملة والاحتكار الكامل وذلك باستخدام منحنيات الوحدة. (10 درجة)
ب- عرف التجارة الإلكترونية التى أخذ بها مشروع القانون المصرى، ثم ناقش الخطوات التنفيذية للتحويل الى التجارة الإلكترونية فى شركات التصدير الزراعى. (10 درجة)

تمنياتى بالتوفيق،

لجنة وضع الأسئلة:

الاسم :أ.د (صبحى ابوالنجا) ، الاسم :أ.د (أحمد الخولى)، الاسم : د. (حسين السيد)

<p>الفرقة : م الرابع (لائحة جديدة) المجال: العلوم الاقتصادية ، الاجتماعية الزراعية الشعبة: الاقتصاد الزراعي والإرشاد ولمجتمع الريفى الزمن : ساعتان عدد صفحات الأسئلة : واحدة</p>	<p>الامتحان التحريري النهائي المادة : أسس التسويق الزراعي (ق ٤٠١) الفصل الدراسي : (الأول) العام الجامعي : (٢٠١٦/٢٠١٧) تاريخ الامتحان : ٢٠١٧/١/٤</p>	<p> قسم : الاقتصاد الزراعي</p>
--	---	---

أجب عن جميع الأسئلة التالية مستعينا بالرسوم البيانية والمعادلات الرياضية كلما أمكن ذلك:

السؤال الأول (٢٠ درجة)

أ - عرف أو اكتب مدلول كل من العبارات الآتية :

(٦ درجة)

علاقة الانتاج بالتسويق - تاجر التجزئة- المنهج السلى - السمسار - المضارب .

ب- وضح بيانيا فقط كيف يمكن توزيع مبيعات المنتج بين الاسواق فى حالة وجود تمييز سعري ، وكيف يمكن تحديد الكمية المعظمة لارباح المحتكر فى هذه الحالة .

(٨ درجة)

ج- وضح الفرق بين كل من : الطلب على مستوى المزرعة وعلى مستوى المستهلك - التوازن مع تحقيق خسائر فى سوق الاحتكار الكامل باستخدام منحنيات الوحدة .

(٦ درجة)

السؤال الثانى (١٥ درجة)

أ- ما هو المقصود بالهوامش التسويقية ، وماهى علاقتها بالتكاليف التسويقية.

(٥ درجة)

ب- وضح بيانيا فقط مع كتابة البيانات على الرسم الدورات او الذبذبات فى الكميات والاسعار والتي تتحكم فيها مرونة العرض والطلب نسعة ما .

(١٠ درجة)

السؤال الثالث (٢٥ درجة)

أ - وضح أهم مزاح استراتيجية التحول الى التجارة الالكترونية فى التصدير الزراعي عن طريق التسويق

(١٥ درجة)

الالكتروني ، وما هى الخطوات التنفيذية لهذا التحول فى شركات التصدير الزراعي .

(١٠ درجة)

ب- كيف يمكن تقييم الكفاءة الاقتصادية ، وهل يمكننا قياس الكفاءة التسويقية لسلعة معينة .

تمنياى بالتوفيق...

لجنة وضع الأسئلة:

الاسم: أ.د (احمد الخولى)

احمد الخولى

الاسم: أ.د (حسن ابو سعد)

حسن ابو سعد

الاسم: أ.د (صبحى ابوالنجا)

صبحى ابوالنجا

<p>الفرقة: الرابعة علوم اقتصادية</p> <p>المجال: اقتصاد زراعى وإرشاد ومجتمع ريفى</p> <p>السعية: علوم اقتصادية ل ج</p> <p>الزمن: .. ساعات</p> <p>عدد صفحات الأسئلة: 1.....</p>	<p>الامتحان التحريري النهائي</p> <p>المادة: جدوى وتقييم المشروعات</p> <p>الفصل الدراسي (الأول)</p> <p>الحام الجامعى (2016/2017)</p> <p>تاريخ الامتحان: 24/1/2017</p>	 <p>قسم: الاقتصاد الزراعى</p>
--	--	--

اجب عن الأسئلة التالية:

السؤال الأول (30 درجة): اذا اعطيت البيانات التالية عن تكاليف ومنافع أحد المشروعات بالألف جنية

والمطلوب حساب كل من:

IRR – NPV - Payback Period – Benefit / Cost Ratio

Year	1	2	3	4	5	6	7	8	9	10
Benefits	0	4000	5000	5000	4500	5000	5300	6000	6000	8000
Costs	8000	5000	600	400	400	400	400	400	400	400

ملحوظة . يتوقع أن يقع IRR بين 30% ، 40% ، وأن تكلفة الفرصة البديلة لرأس المال هي 20% .

السؤال الثاني (14 درجة):


- قام أحد العملاء باقتراض مليون جنيها مصريا من أحد البنوك بفائدة سنوية 8% بفرض:
- المدة الكلية للقرض 16 سنة ال 3 سنوات الأولى هي فترة سماح لا يتم خلالها سوى رسملة الفائدة و ال 3 سنوات التالية لا يتم فيها سوى دفع الفائدة السنوية.
 - يتم الدفع خلال ال 10 سنوات الأخيرة وفقا لطريقة المبالغ المتساوية لخدمة الدين Level Payment.
 - والمطلوب حساب خدمة الدين السنوية، وجملة ما سيدفعه العميل من الفوائد.

السؤال الثالث (16 درجة):

- (أ) ما هو الفرق بين معدل العائد على اجمالى استثمارات المشروع (وهو ما يعرف بمعدل العائد الداخلى للمشروع بدون القرض) ومعدل العائد على حقوق المساهمين (وهو ما يعرف بمعدل العائد الداخلى للمشروع بالقرض) ، مع ذكر أيهما أكبر من الآخر.
- (ب) ما هي القيمة الحالية لمبلغ 10000 جنيها يتم استلامها كالتالى:
- بعد 25 عاما عند سعر خصم 6%.
 - سنويا لمدة 5 سنوات عند سعر خصم 5%.
- (ج) هل تفضل الحصول على 2400 جنيها بعد 12 سنة من الآن أم أن تحصل على 1000 جنيها الآن اذا كان معدل الخصم 8% .
- (د) عند حساب قائمة الدخل نقوم بحساب أرباح المشروع السنوية تحت أربعة مسميات مختلفة، اشرح ذلك مع ذكر هذه المسميات وكيفية حساب كل منها.

لجنة وضع الأسئلة

أ.د. مجدى الجندى (.....)، أ.د. عادل يوسف (.....)، أ.د. أحمد الخولى (.....)

<p>المادة: اقتصاديات الحاصلات البستانية ق ٤٣١</p> <p>الفرقة: الرابعة</p> <p>الشعبة: البساتين</p> <p>الزمن: ساعتان</p> <p>عدد صفحات الأسئلة: صفحة واحدة</p>	<p>الامتحان التحريري النهائي</p> <p>الفصل الدراسي الأول</p> <p>العام الجامعي (٢٠١٦/٢٠١٧)</p> <p>تاريخ الامتحان: ١٠ / ١ / ٢٠١٧</p>	 <p>قسم: الاقتصاد الزراعي</p>
--	---	--

أجب عن الأسئلة التالية بإجابات موجزة موضحة بالرسوم والأشكال البيانية كلما أمكن:

١. وضح الأهمية الاقتصادية للحاصلات البستانية في مصر. (٥ درجات)
٢. ما هي أهم العناصر التي يجب مراعاتها عن إعداد خطة لتصدير الحاصلات البستانية؟ وضح مستعينا برسم تخطيطي. (١٠ درجات)
٣. ما هو المقصود بالنوافذ التسويقية (الطلب غير المشبع/الطلب المريح)؟ وكيف يمكن استخدامها في تحديد السلع والأسواق التي يجب التركيز عليها في الخطة التصديرية للحاصلات البستانية؟ (١٠ درجات)
٤. ناقش بإيجاز سلسلة التسويق الحديثة ونظيرتها التقليدية، وسلسلة القيمة وسلسلة العرض أو الإمداد ودورها في تسويق الحاصلات البستانية. (١٢ درجة)
٥. ما هي أهم عناصر دراسة الجدوى للمشروعات البستانية؟ وماهي أهم المعايير المستخدمة في تحديد جدوى المشروعات البستانية-أذكرها مع تحديد قاعدة اتخاذ القرار في كل منها؟ (١٥ درجة)
٦. يعتبر التوريد في عكس الموسم من أهم عناصر التنافسية في تصدير الحاصلات البستانية، ناقش ذلك. (٨ درجات)

لجنة الممتحنين:

د/يسرا السعدي شقرة
صدر العبد

أ.م/ خالد صلاح الدين طه محمود
خالد صلاح

أ.د/ صن نبيه أبو سعد
مع أطيب أمنياتنا بالتوفيق،،،

امتحان الفصل الدراسي الثاني 2016-2017م في مادة اقتصاديات إنتاج الدواجن
لطلبة الفرقة الرابعة - لائحة كرمي - شعبه إنتاج الدواجن

الزمن: ساعتان

تاريخ الإمتحان 2017/5/20م

أجب عن الأسئلة الآتية مستعيناً بالرسم كلما أمكن ذلك :

السؤال الأول (20 درجة): (أ) فرق بين المصطلحات الآتية:

(1) Economies & Diseconomies of Scale (2) . Expansion Path & Iso Cline

(3) Iso Quant & Transformation Curve

(4) Spillman P. Function & Cobb- Douglas P. Function

(ب): برهن على صحة ما يلي:

(1) في دالة الإنتاج $Y = bX$ تكون المرونة الانتاجية مساوية للوحدة.

(2) تقطع دالة الإنتاج المتوسط دالة الإنتاج الحدي عندما تصل الأولى إلي أقصاها في دالة الإنتاج التكميلية.

السؤال الثاني (20 درجة): (أ) " النسبة المثلي الواجب استخدامها من العلف للدجاجة البيضاء في وقت معين

تصبح غير مثاليه في وقتٍ اخر " ناقش هذه العبارة موضحاً كيفية تحديد التوليفة الموردية المثلي وكذلك أهم

العوامل المؤثرة فيها بالزيادة أو النقص.

(ب) إشرح «متخداماً الرسم البياني لتحديد التوليفة المثلي من المزروعات.

السؤال الثالث (20 درجة):

(أ) منشأة لإنتاج لحم الدواجن لديها البيانات الآتية:

(Y) ton	0	5	10	15	20	25	30	35
(T.C) L.E	50	55	65	80	100	125	155	190

حيث (Y) كمية الإنتاج بالطن ، (T.C) التكاليف الكلية بالحنية المصري، P سعر الوحدة من الناتج = 5

جنيهاً مصرية. المطلوب: تحديد مستوى الإنتاج الممعلم للربح.

(ب) إذا كانت دالة متوسط التكاليف المتغيرة لمزرعة إنتاج بيض هي:

$$A.V.C = 15 + 0.5 Y$$

المطلوب: اشتقاق كل من دالة التكاليف المتغيرة و الكلية والحدية و متوسط التكاليف الكلية بفرض أن التكاليف

الثابتة = 650 جنيهاً مصرية.

الفرقة: الرابعة - لائحة قديمة شعبة: الاقتصاد الزراعي	العام الجامعي 2016-2017 الفصل الدراسي الثاني	
المادة: إدارة أعمال مزرعية	تاريخ الإمتحان : 2017-5-30	قسم الاقتصاد الزراعي

أجب عن اثنين فقط من الأسئلة الآتية:

(30 درجة)

السؤال الأول

- 1- اذكر بايجاز ما يلي: مفهوم الكفاءة التوزيعية - مفهوم الكفاءة الاقتصادية - أهداف البرمجة الخطية - شروط المنافسة الكاملة - تحليل البيئة الداخلية - تحليل البيئة الخارجية - أهمية التحليل المالي - أدوات التحليل المالي..
- 2- وضح ما هي المهارات المختلفة التي تم اكتسابها من مادة إدارة المزارع.

(30 درجة)

السؤال الثاني

- أ- تريد احد شركات العاملة في مجال الإنتاج الحيواني تحديد عدد العمالة المستديمة باحد مزارعها الجديدة حيث يبلغ حجم القطيع تلك المزرعة 110 راس من الابقار 100 راس من الجاموس، وكانت عدد الوحدات الحيوانية للابقار والجاموس 1 و 1.3 وحدة حيوانية علي الترتيب، ووتبلغ عدد ايام العمل القياسية لكل وحدة حيوانية 37.5 يوم عمل قياسي، احسب عدد العمالة المستديمة ثم احسب مساحة الرسم المطلوبة لهذه المزرعة اذا علمت ان كل وحدة حيوانية تحتاج 0.5 فدان من الرسم.
- ب- اذا حدث ارتفاع نسبي في سعر الطن من البطاطس بنحو 30% وكانت مرونة الطلب السعرية على البطاطس تبلغ (-0.30) احسب التغير النسبي الذي طرء على الكمية المطلوبة من السلعة.
- ت- عقب قيامك بادارة إحدى مزارع الإنتاج الزراعي طلب منك تحديد حجم الانتاج الذي يجب ان تبدء عنده المنشأة في الانتاج حيث كانت داله التكاليف في المدى القصير لتلك المنشأة علي النحو التالي:

$$TC = 1000 + 2Q - 0.4Q^2 + 0.04Q^3$$

(30 درجة)

السؤال الثالث

- 1- اذكر باختصار ما يلي: مفهوم علم الإدارة - شروط المنافسة الكاملة - ادارة المزرعة - خصائص و أهمية الإدارة.
- 2- أسهم مايكل بورتر باحد الموضوعات الرئيسية التي يجب ان يلم بها المختصين في مجالات الادارة ؟ تكم بالتفصيل عن القوى الخمس التي اسهم بها موضحاً كيفية الاستفادة منها في إدارة المشروعات الزراعية.

لجنة وضع الأسئلة

مع أطيب التمنيات بالتوفيق والنجاح

د. أيمن محمد ابوزيا

أ.د. أحمد صلاح الخولي

أ.د. ابراهيم صديق علي



قسم الاقتصاد الزراعي

الامتحان التحريري النهائي
المادة : اقتصاد فياسي
الفصل الدراسي الثاني
العام الجامعي : 2017/2018
تاريخ الامتحان : 2017/3/3

الفرة : الرابعه (ل. د.) للاسي حبره
مجال : الاقتصاد الزراعي
الشعبة : الاقتصاد الزراعي
الزمن : ساعتان
عدد صفحات الأسئلة : ورفه واحده

اجب عن جميع الأسئلة التاليه :

- السؤال الأول :**
- ا- هناك عدة طرق لتقدير معالم العلاقات الاقتصادية من أهمها طريقة المربعات الصغرى Least Squares (10 درجات)
- ب- تختلف النماذج الاقتصادية فيما بينها من حيث أنواع المتغيرات التي تحتويها و المعادلات التي تضمها ...
1- المعادلات السلوكيه و المعادلات التعريفيه .
2- المتغيرات انداخليه و الخارجيه .
3- النماذج الاحتماليه و عبر الاحتماليه .

- السؤال الثاني :**
- يستمد الاقتصاد القياسي أصوله من علوم الاقتصاد و الرياضه و الإحصاء . اشرح هذه العبارة (10 درجات)
- موضحا ذاتي : (أ) أهداف الاقتصاد القياسي .
(ب) العلاقة بين الاقتصاد القياسي و العلوم الأخرى . (10 درجات)

السؤال الثالث :

- ا- اذا كانت معادلة الانحدار المتعدد للمتغير التابع (Y) على المتغيرين المفسرين X_2 . X_3 على الصورة :
- $$Y_i = B_1 + B_2 X_{2i} + B_3 X_{3i} + U_i$$
- وضح كيف تستطيع الحصول على تقدير ثوابت المعادله بالمحددات . (10 درجات)
- ب- فيما يلي جدول تحليل التباين الخاص بانحدار الواردات (Y) على الرقم القياسي للاسعار (X_2) و الناتج القومي (X_3) و المطلوب الآتي :
- 1- استكمال البيانات الناقصه بالجدول .
2- إيجاد تقدير التباين للخطأ (σ_u^2)
3- إيجاد مقياس للقوه التفسريه لنموذج الانحدار .

S.V.	D.F.	مجموع المربعات S.S.	متوسط المربعات M.S.	Fc المحسوبه
الانحدار الخطأ				20
الكلية	14	260		

(10 درجات)

مع أطيب تمنياتي بالتوفيق و النجاح

د. حسين السيد حسين

السؤال الثالث : (15 درجة)

اذكر المصطلح العلمي للمفاهيم الاقتصادية التالية :

1. الصورة الرياضية التي تشرح العلاقة بين الموارد الاقتصادية المستخدمة في العملية الإنتاجية كمتغير مستقل والناتج الذي نحصل عليه من هذه العملية كمتغير تابع.
2. إنتاجية المورد الإنتاجي المتغير التي تتحقق في حالة ما إذا أدت الزيادات المتتالية من هذا المورد إلى الحصول على زيادات متزايدة من الناتج.
3. الميرال الذي يستخدم لقياس درجة استجابة الناتج Y للتغير في المورد المتغير X.
4. الكفاءة التي تتحقق أقصى حد ممكن من الإنتاج باستخدام قدر معين من عناصر الإنتاج أو استخدام أقل قدر ممكن من عناصر الإنتاج لتحقيق مستوى محدد من الإنتاج.
5. المنحني الذي يبين جميع التوليفات الممكن استخدامها من عنصرَي الإنتاج X1, X2 والتي تنتج قدر معين من الناتج.
6. درجة استجابة عنصر الإنتاج الذي يزيد للنقص الذي يحدث في عنصر الإنتاج الأخر.
7. المنحني الذي يبين كافة التوليفات الممكن شراؤها من عنصرَي الإنتاج (اللذين يمكن إجلاهما ببعض) بقدر معين من التكاليف.
8. النقطة التي يتساوي عندها كل من ميل منحني الناتج المتساوي مع ميل منحني التكاليف المتساوية.
9. عدد الوحدات من عنصر الإنتاج التي يضحى بها المنتج في سبيل زيادة العنصر الإنتاجي الأخر بوحدة واحدة مع بقاء مستوى الإنتاج ثابتاً.
10. الكفاءة التي تعني أن التوليفات المستخدمة من الموارد في الإنتاج في مثبته ما وفي ظل أسعارها النسبية السائدة تحقق تعظيم الإنتاج، وأيضاً تحقق تعظيم الربح.

السؤال الرابع : (15 درجة) : أذكر فقط :

1. أهم العوامل المسؤولة عن انخفاض وتدهور الجدارة الإنتاجية للأراضي الزراعية المصرية.
2. مصادر نقص الكفاءة الإنتاجية في الزراعة.
3. مفهوم السيادة الزراعية، والأهداف التي تسعى لتحقيقها.
4. مفهوم التنمية الزراعية، ثم وضع تعريفاً محدداً لمفهوم التنمية المتوازنة (المستدامة).

لجنة المصححين :

إ.د عبد الرحمن تريبيل د.د . أمين ابوزيد د.د. محمود عبد المنعم

الامتحان التحريري النهائي	المستوى الدراسي : الثاني الزمن : ساعتان عدد صفحات الأسئلة : صفحات.
المادة : اقتصاد زراعي قى 202	العام الدراسي الثاني 2017/2016
تاريخ الامتحان 2017/5/ 30	قسم : الاقتصاد الزراعي

اجب عن الأسئلة التالية

السؤال الأول : (20 درجة)


- 1) علل مطلقاً : (13 درجة)
- تتصف صناعة الزراعة بأنها صناعة تنافسية
- 2- استمرار المنتج الزراعي في الإنتاج رغم تحملة خسائر في المدى القصير
- 3- يستطیع المنتج الزراعي تحمل انخفاض أسعار منتجاته بدرجة أكبر من المنتج في قطاعات أخرى .
- 4- ضخامة لتقلبات السعرية في سوق السلع الزراعية
- ب) تريد أحد الشركات الزراعية إنشاء مزرعة للإنتاج الحيواني لإمداد السوق ببعض منتجاتها الحيوانية، فإذا علمت أن حجم الفلج الذي تريد بثه يبلغ 420 رأس من الأبقار و600 رأس من لحاموس وإذا علمت أن الوحدة الحيوانية تحتاج 37.5 يوم عمل قياسي وأن الوحدة لحوانية للأبقار ولحاموس هي 1 و 1.3 وحدة حيوانية على الترتيب . احسب عدد العمالة مستتيةة ؟.....(7 درجات).

لسؤال الثاني : (10 درجة)

- 1- إذا حدث ارتفاع في سعر الطن من الفول البلدي بنحو 20% وكانت مرونة الطلب لسعريه على الفول البلدي تبلغ (0.35 -) ووضح ما سوف يحدث للكمية المطوية من الفول البلدي؟
- ب- إذا كانت دالة التكاليف لإحدى لمنتجات الزراعية في المدى القصير على النحو التالي :

$$TC = 1000 + 2Q - 0.4Q^2 + 0.02Q^3$$

احسب كلاً من (التكاليف الثابتة - التكاليف المتغيرة - متوسطات التكاليف الثابتة)، ومتغيرة والكلفة - ثم اشترى التكاليف الحدية محددًا حجم الإنتاج الذي يبدأ عند المنتج انتاجه.

الفرقة: الثالثة	الامتحان التحريري النهائي	 قسم: الاقتصاد الزراعي
المجال: الانتاج النباتي & الانتاج الحيواني والداخلي	المادة: اقتصاد الإنتاج الزراعي ق ٣٠٥	
الشعبة: إدارة الأعمال الزراعية	الفصل الدراسي الأول	
الزمن: ساعتان	العام الجامعي ٢٠١٧/٢٠١٦	
عدد صفحات الأسئلة: صفحتان.	تاريخ الامتحان: ٢٠١٧/١/١	

أجب عن جميع الأسئلة التالية: علي الطالب التأكد من أن الامتحان مكون من أربعة أسئلة وتقع في صفحتين (١٦ درجة)

السؤال الأول:

اختر الاجابة الصحيحة:

١. تبدأ المرحلة الأولى للإنتاج عندما يبدأ متوسط الناتج في الهبوط: دائماً - أبداً - أحياناً - غالباً.
٢. إذا كان في إمكان المنشأة أن تتنازل عن ٦ وحدات من رأس المال في سبيل زيادة كمية العمل المستخدمة ثلاثة وحدات مع الإبقاء علي مستوى الناتج فإن معدل الإحلال الحدي التكنولوجي يساوي: ٢/١ & ٢ & ١ & ٣.
٣. يمكن الحصول على التكلفة الحدية من: ميل منحني التكاليف الثابتة - ميل منحني التكاليف المتغيرة وليس من ميل منحني التكلفة الكلية - ميل منحني التكلفة الكلية وليس من ميل منحني التكلفة المتغيرة - إما ميل منحني التكلفة المتغيرة أو ميل منحني التكلفة الكلية.
٤. إذا وقفنا عنصر رأس المال (C) علي المحور الرأسي، وعنصر العمل (L) علي المحور الأفقي، كان ميل خط التكاليف المتساوي المرسوم علي هذين المحورين هو Pc/PL or PL/Pc or $-Pc/-PL$ or $-PL/Pc$ حيث يشير الرمز P للسعر.
٥. عند نقطة توازن المنتج في دالة الانتاج $Q=f(C, L)$: يكون منحني الناتج المتساوي: مماساً لخط التكاليف المتساوي & يتساوي المعدل الحدي للإحلال التكنولوجي مع نسبة سعر عنصر العمل إلي سعر عنصر رأس المال & تتساوي نسبة الناتج الحدي للتسليم وسعره مع نسبة الناتج الحدي لرأس المال وسعره & كل ما سبق.
٦. عندما يبدأ قانون تناقص الغلة في العمل يبدأ منحني التكاليف المتغيرة في: الهبوط بمعدل متزايد & الارتفاع بمعدل متناقص & الهبوط بمعدل متناقص & الارتفاع بمعدل متزايد.
٧. دائماً تكون قيمة مرونة الانتاج: موجبة & سالبة أو سالبة & صفر & موجبة أو سالبة أو صفر.
٨. إذا كانت مرونة الانتاج = ٢ والناتج المتوسط = ٤ فتكون قيمة الناتج الحدي مساوية ل: ٢ & ٨ & ٤ & ٦.


(١٤ درجة)

السؤال الثاني:

الجدول التالي يبين بيانات التكاليف الكلية وعدد الوحدات المنتجة لشأة إنتاجية تعمل في ظل ظروف المنافسة التامة

٨٠	٧٠	٦٠	٥٠	٤٠	٣٠	٢٠	١٠	صفر	الكمية المنتجة (Q)
٦٦٠	٤٢٠	٣٤٠	٢٩٧,٥	٢٧٢,٥	٢١٠	٢٥٠	١٢٥	١٠٠	التكاليف الكلية (TC)

- ١- بين ما إذا كانت هذه المنشأة تعمل في المدى القصير أم في المدى الطويل ولماذا؟
- ٢- اشتاق كل من متوسط التكاليف الكلية، والتكاليف الحدية.
- ٣- إذا كان سعر الوحدة المنتجة ثمانية جنيهات احسب مستوى الناتج الذي يعظم ربح المنشأة
- ٤- هل من مصلحة المنشأة الاستمرار في الإنتاج عند المستوى المعظم للربح؟ ولماذا؟

<p>المادة: تمويل وضرائب زراعية المستوى: الثالث برنامج: إدارة الأعمال الزراعية الرمز: سا عئان الأسئلة في صفحة واحدة</p>	<p>الامتحان العمومي النهائي الفصل الدراسي (الثاني) العام الجامعي (٢٠١٦/٢٠١٧) تاريخ الامتحان: ٦/٦/٢٠١٧</p>	 <p>قسم: الاقتصاد الزراعي</p>
--	---	--

أجب عن الأسئلة التالية :

(٤٠ درجة)

السؤال الأول: أجب عن خمسة (٥) فقط من النقاط التالية: -

- (١) "تتعدد مصادر وأشكال التمويل المستخدمة في النشاط الزراعي تبعاً لدرجة التطور الاقتصادي للمجتمع" وضح مفهوم التمويل والائتمان الزراعي ثم أذكر الأشكال المختلفة للتمويل الزراعي وكذلك عناصر الائتمان الزراعي.
- (٢) حدد الخصائص المميزة للائتمان الزراعي مع توضيح مدى تأثيرها بخصائص صناعة الزراعة.
- (٣) مزارع حصل على قرض مقداره ١٠٠ ألف جنيه بفائدة سنوية ١٥٪ وعلى أن يسدد على ٥ سنوات، السنتان الأولى والثانية فترة سماح يتم رسملة الفائدة خلالهما، ثم يتم دفع خدمة الدين خلال الثلاث سنوات المتبقية بطريقة الدفعات المتساوية **Level Payment**. والمطلوب تصوير حساب الفوائد والقسط السنوي المستحق.

(٤) اشرح بإيجاز المشاكل التي يواجهها ضباط القروض عند إعداد الميزانية العمومية للمزارع العائلية.

(٥) ناقش بإيجاز خطوات أو مراحل القرض الزراعي مبيناً دورة القرض الزراعي **The Agricultural Loan Cycle**

برسم تحصيلي مفصل. ثم وضح ما هي أهم مراحل القرض التي يمكن من خلالها السيطرة على المخاطر الأخلاقية؟

- (٦) إذا ما كانت البيانات التالية تمثل صافي التدفق النقدي الشهري لأسرة مزرعية وبافتراض أن هذه الأسرة حصلت على قرض قيمته ٢٤٠٠ جنيه يسدد على أقساط شهرية ثابتة بفائدة ٢٪ شهرياً من أصل القرض. احسب معدل صافي التدفق النقدي الحر شهرياً ومعدل صافي التدفق النقدي التراكمي.

الشهر	١	٢	٣	٤	٥	٦	٧	٨	٩	١٠	١١	١٢
صافي التدفق النقدي	٣٣٠	٤٤٠	٤٣٠	٤٠٠	٥٠٠	١٢٠٠	٤٠٠	٣٧٠	٤٣٠	٣٢٠	٣٨٠	٤٠٠

(٧) إذا ما أعطيت البيانات التالية عن المركز المالي لإحدى المزارع:

أصول جارية:	١٥٣٠٠٠ جنيه	حقوق ملكية:	٢٠٥٠٠٠ جنيه
أصول طويلة الأجل:	١٧٥٠٠٠ جنيه	رصيد قروض طويلة الأجل:	٣٠٠٠٠ جنيه
خصوم جارية:	١٥٠٠٠ جنيه	إجمالي الأصول:	٥٠٠٠٠٠ جنيه

المطلوب: تصوير ميزانية تلك المزرعة، واستخراج مؤشرات المالية وجدارتها الائتمانية.


(٢٠ درجة)

السؤال الثاني: أجب عن نقطتين (٢) فقط من النقاط التالية: -

- (١) اشرح مكونات سعر الفائدة على القروض الزراعية مع بيان العوامل التي يجب أخذها في الاعتبار عند اتخاذ قرار برفعها.
- (٢) يعد ضعف الضمانات المتاحة للمزارعين أحد أهم المشاكل التي تواجه البنوك الزراعية. ناقش هذه المشكلة مع بيان الأنواع المختلفة للضمانات وطبيعة كل منها، وكيف يمكن للبنوك الزراعية التغلب على تلك المشكلة؟
- (٣) أذكر أهم عناصر السياسة الائتمانية من المنظور المصرفي مع شرح موجز لكل عنصر من عناصرها.

لجنة المحققين: د/ يسرا السعودي شقرة (لجنة المحققين)، أ.د/ إبراهيم صديق علي، أ.م/ خالد صلاح الدين طه (لجنة المحققين)

مع أطيب الأمنيات بالنوفق ..

الفرقة: الثالثة برنامج: إدارة الأعمال الزراعية الزمن: ساعتان عدد صفحات الأسئلة: صفحة واحدة	الامتحان التحريري النهائي المادة: تمويل وضرائب زراعية ق 303 الفصل الدراسي الأول العام الجامعي 2017/2016 تاريخ الامتحان: 2017/1/15	 قسم: الاقتصاد الزراعي
---	--	--

أجب عن جميع الأسئلة التالية:

(20 درجة)

السؤال الأول:

- أ- تناول باختصار المراحل التي يمر بها القرض الزراعي؟
ب- ماهي مصادر التمويل المختلفة في الزراعة؟

(20 درجات)

السؤال الثاني: ناقش العبارات التالي

1. الخصائص والسمات المميزة للإنتاج الزراعي وعلاقتها بالائتمان الزراعي.
2. أنواع القروض الزراعية.
3. عناصر السياسة الائتمانية من المنظور المصرفي.
4. خصائص الائتمان الزراعي.

(20 درجات)

السؤال الثالث: -الجدول التالي يبين ملخص الميزانية العمومية لأحد المزارع بالجنية
أكمل بيانات الجدول ثم احسب المؤشرات المالية التي تظهر المقدرة التسديدية للمزارع مع تفسير النتائج المتحصل
عليها.

المطلوبات (الخصوم)	الأصول (الموجودات)
1500 خصوم جارية	5300 أصول جارية
3000 خصوم متوسط	7200 أصول متوسط الأجل
5000 رصيد قروض طويلة الأجل	17500 أصول طويلة الأجل
حقوق ملكية	
إجمالي الخصوم	إجمالي الأصول

مع أطيب الأمنيات بالتوفيق

لجنة الممتحنين:

د يسرا السعودي شقرة
(.....)

أ.د رجب مغاوري
(.....)

أ.د إبراهيم صديق علي
(.....)



قسم : الاقتصاد الزراعي

الامتحان التحريري النهائي
المادة: المحاسبة الزراعية (ق ٣٠١)
الفصل الدراسي: (الأول)
العام الجامعي: (٢٠١٦/٢٠١٧)
تاريخ الامتحان: ٢٢/١/٢٠١٧م

الفرقة : الثالثة
المجال : ادارة الأعمال الزراعيه
الشعبة : ادارة الأعمال الزراعيه
الزمن : ساعتان
عدد صفحات الأسئلة: صفحتان

أجب عن الأسئلة التالية (علما بأن التنسيق والنظام له أهميته عند تقدير الدرجات):

السؤال الأول:

(١٥ درجة)

فيما يلي بعض البيانات المستخرجة من دفاتر إحدى المنشآت الزراعية عن السنة المنتهية في ٣١ ديسمبر ٢٠١٥م بالنسبة لمصروفات محصولي الفول والشعير. فإذا علمت أن مساحة الشعير نصف مساحة الفول، وأن المصروفات الإدارية للمحصولين معا تقدر بحوالي ١٨٠٠ جنيه، وأن العمل العائلي في ضم (حصاد) المحصولين معا يقدر بحوالي ٩٠٠ جنيه، وأن إنتاجية الشعير بلغت ٣٠٠ وحدة وزنية تباع الوحدة منها بسعر ٣٠ جنيه، وأن إنتاجية الفول بلغت ٤٠٠ وحدة وزنية تباع الوحدة منها بسعر ٤٠ جنيه. والمطوب هو عمل قائمة التكاليف الزراعية لكل محصول على حده وللحصولين معا موضعا بها ثمن التكلفة الزراعي، و ثمن تكلفة المحصول، و ثمن تكلفة البيع، العائد الكلي وصافي العائد.

البيان	الشعير	الفول
تكلفة المواد الأولية والبذور ومقاومة آفات التربة والأسمدة	٢٥٠٠	٤٠٠٠
أجور الحرث والعزيق والري وما قبل الحصاد	٥٠٠	٩٠٠
مصروفات نقل المحصول من الحقل	٢٠٠	٣٥٠
مصروفات النقاوة والدراس	٢٥٠	٥٠٠
مصروفات البيع والتعبئة	١٥٠	٢٥٠
مصروفات النقل للخارج	٢٠٠	٤٠٠

السؤال الثاني:


(٢٥ درجة)

(١) اكمل العبارات التالية بعد نقلها بكراسة اجابتك، واضعاً خطاً تحت اجابتك.

١. من عيوب طريقة التحديد الفعلي للتكاليف غير المباشره
٢. إذا بلغت قيمة الأصول ٥٠٠ ألف جنيه وقيمة حقوق الملكية ٩٠ ألف جنيه فإن قيمة الالتزامات والخصوم =
٣. إذا بدأت المنشأة مدتها برأسمال مليون جنيه وأنهت مدتها برأسمال ٨٠٠ ألف جنيه فإن هذا يعني....
٤. يطلق علي التكاليف من بداية اعداد الأرض للزراعة وحتى بيع المحصول أو الغلة
٥. تعتمد الميزانية العمومية على بيانات
٦. الخصم المكتسب هو..... وانحصم المسموح به هو
٧. الحساب المقفل هو
٨. من الفروق الأساسية بين المحاسبة المالية ومحاسبة التكاليف:
٩. يعرف المخصص بأنه..... بينما يعرف الاحتياطي بأنه
١٠. أغراض عمل ميزان المراجعة هي:
١١. تعرف الديون المدومة بأنها
١٢. يتم تجميع دفتر اليومية عندما..... بينما يتم تقفيلة عندما.....

(ب) : أكتب في ضوء دراستك وفيما لا يزيد عن سطرين عن علاقة كل من:

علم المحاسبة بعلم القانون - الفروض بالمبادئ المحاسبية - المسموحات بالمرودوات - المحاسبة بمسك الدفاتر - المحاسب بالمراجع- المحاسبة القومية بالمحاسبة المالية - الترحيل بدفتر الأستاذ - مبدأ الحيطة والحذر بأرباح أو خسائر المنشأة .

<p>الفرقة : الرابعه الشعبة : برامج مختلفة الزمن : ساعتان عدد صفحات الاسئلة : صفحة واحده</p>	<p>الامتحان التحريري النهائي المادة : تسويق وإدارة أعمال زراعية الفصل الدراسي (الثاني) العام الجامعي (٢٠١٦ / ٢٠١٧) تاريخ الامتحان : ٢٠١٧ / ٥ / ٣٠ م</p>	 <p>قسم الاقتصاد الزراعي</p>
---	---	---

أجب عن الأسئلة الآتية علماً بأن التنسيق والنظام له أهميته عند تقدير الدرجات:

الجزء الأول

(١٥ درجة)

السؤال الأول:

- أ- ناقش باختصار أهم أهداف التسويق الزراعي وأهم المشاكل التسويقية التي تواجه المزارعين.
ب- حدد مهام كل من: القومسيونجي، المضارب وتوكيلات المبيعات والمشتريات.
ج- قارن أهم الفروق الرئيسية ما بين الوظائف التسويقية الزراعية المختلفة.
د- وضح الفرق الرئيسي بين مناهج البحث في التسويق الزراعي.

(١٥ درجة)

السؤال الثاني:

- أ- ما هو الفرق (العلاقة) بين التكاليف التسويقية والهوامش التسويقيّة.
ب- وضح بيانياً فقط كيف يتم خسارة المنتج في المدى القصير في ظل سوق يتسم بالمنافسة الكاملة وأخر يتسم بالاحتكار الكامل وذلك باستخدام منحنيات الوحدة.
ج- ما هو المقصود بالتجارة الالكترونية، ثم ناقش أهم الدراسات التي تناولت أهمية التجارة الالكترونية في تصدير الحاصلات الزراعية.

الجزء الثاني

(١٥ درجة)

السؤال الثالث:

- أكتب بإيجاز وفي ضوء دراستك مقارنة بين كل من الموضوعات التالية:
- المشروعات المزرعية المتنافسة والمشروعات المزرعية المرتبطة.
 - تقسيم المزارع من حيث الاستقرار وتقسيمها من حيث طبيعة المزارع.
 - المساحة المحصولية والمساحة المزروعة والكثافة المحصولية.
 - معدل العائد على الأصول ومعدل دوران المخزون.
 - تقييم الحدائق وتقييم الأراضي المستصلحة.
 - التأجير النقدي والتأجير العيني للأراضي الزراعية.

(١٥ درجة)

السؤال الرابع:

- أكتب بإيجاز ما تعرفه عن كل من:
- الملكية من حيث: تعريفها وعناصرها وحقوقها وطرق اكتسابها.
 - المخاطرة واللایقين من حيث: التعريف ومصادر كل منهما وكيفية مواجهة الأثار السلبية لهما في القطاع الزراعي.
 - مؤشرات الأداء من حيث: مفهومها وفوائدها وأنواعها وأساليب تحليلها.

التحرير الأستاذة بالجامعة والتوفيق

لجنة الامتحان

أ. د. محمد أبو سعد

د. محمود عبد النعم

أ. د. صبري أبو النعم



قسم الاقتصاد الزراعي

العام الجامعي 2016-2017

الفصل الدراسي الثاني

تاريخ الامتحان : 3-6-2017

الفرقة: الرابعة - ساعات معتمدة

البرنامج: العلوم الاقتصادية والاجتماعية الزراعية

المادة: إدارة المزارع

أجب عن إثنين من الأسئلة الأتية فقط:

السؤال الأول (30 درجة)

- 1- وضح بايجاز ما يلي: وظائف الإدارة - مفهوم التنظيم - مفهوم التخطيط - مفهوم التوجيه - مفهوم الرقابة.
- 2- وضح في ضوء دراستك ومن وجهة نظرك كيفية الاستفادة من دراسة موضوعات إدارة المزارع في حياتك العملية.

السؤال الثاني (30 درجة)

- أ- تريد احد شركات العاملة في مجال الإنتاج الحيواني تحديد عدد العمالة المستدعة نأحد مزارعها الجديدة - حيث يبلغ حجم القطيع بتلك المزرعة 1100 رأس من الابقار 1000 رأس من الجاموس، وكانت عدد الوحدات الحيوانية للابقار والجاموس 1 و 1.3 وحدة حيوانية على الترتيب، وتبلغ عدد ايام العمل القياسية لكل وحدة حيوانية 37.5 يوم عمل قياسي، احسب عدد العمالة المستدعة ثم اسحب مساحة البرسيم المطلوبة لهذه المزرعة اذا علمت ان كل وحدة حيوانية تحتاج 0.5 فدان من البرسيم.
- ب- اذا حدث ارتفاع نسبي في سعر الطن من الطماطم بنحو 50% وكانت مرونة الطلب السعرية على الطماطم تبلغ (-0.25) احسب التغير النسبي الذي طرأ على الكمية المطلوبة من السلعة.
- ت- عقب قيامك بادارة إحدى مزارع الإنتاج الزراعي طلب منك تحديد حجم الانتاج الذي يجب ان تبدأ عنده المنشأة في الانتاج حيث كانت دالة التكاليف في المدى القصير لتلك المنشأة على النحو التالي:

$$TC = 1000 + 4Q - 0.2Q^2 + 0.04Q^3$$

السؤال الثالث (30 درجة)

- اذكر بايجاز ما يلي: أهمية التنظيم -- صفات المدير النأجح -- مجالات الرقابة - خصائص الرقابة - خصائص الخطة الجيدة.
- 1- تعد القوي الخمس لمايكل بورتر من الموضوعات الرئيسية التي يجب ان يلم بها المختصين في مجالات الادارة ؟ تلكم بالتفصيل عن تلك القوي الخمس موضحاً كيفية الاستفادة منها في ادارة المشروعات الزراعية.

لجنة وضع الأسئلة

مع أطيب التمننات بالتوفيق والنأجح

د.أهن محمد ابوزيد

أ.د. رجب مغاوري زين

أ.د. ابراهيم صديق علي

امتحان الفصل الدراسي الأول 2017م في مادة اقتصاديات إنتاج جيرانى
طلبة الفرقة: الرابعة - شعبه : - شعبة إنتاج جيرانى
الزمن: ساعتان

تاريخ الامتحان: 11/11/2017م

اجب عن الأسئلة الآتية مستعينا بالرسم كلما أمكن ذلك :

السؤال الأول (20 درجة): (أ) فرق بين المصطلحات الآتية:

(1) Expansion Path & Iso Cline (2) . Economies & Diseconomies of Scale

(3) Iso Quant & Transformation Curve

(4) Spillman P. Function & Cobb- Douglas P. Function

(ب): برهن على صحة ما يلي:

(1) في دالة الانتاج $Y = bX$ تكون المرونة الانتاجية مساوية للوحدة.

(2) تقطع دالة الانتاج المتوسط دالة الانتاج الحدي عندما تصل الأولى إلى أقصاها في دالة الانتاج التكعيبية.

السؤال الثاني (20 درجة): (أ) " النسبة المثلى الواجب استخدامها من العلف المسمى كروب في وقت معير تصبح غير مثالية في وقت آخر " ناقش هذه العبارة موضحا كيفية تحديد التوليفة المورديّة المثلى وكذلك اهم العوامل المؤثرة فيها بالزيادة أو النقص.

(ب) اشرح مستخدما الرسم البياني لتحديد التوليفة المثلى من المزيّرات.

السؤال الثالث (20 درجة):

(أ) منشأة لانتاج لحم خنزير لديها البيانات الآتية:

(Y) ton	0	5	10	15	20	25	30	35
(T.C) L.E	50	55	65	80	100	125	155	190

حيث (Y) كمية الانتاج بالطن ، (T.C) التكاليف الكلية بالحنية المصري، P سعر الوحدة من الناتج = 5 جنيهاً مصرية.


المطلوب: تحديد مستوي الانتاج الممّظم للربح.

(ب) إذا كانت دالة متوسط التكاليف المتغيرة لمزرعة انتاج الخس هي:

$$A.V.C = 15 + 0.5 Y$$

المطلوب: اشتقاق كل من دالة التكاليف المتغيرة والكلية وأنحدية و متوسط التكاليف الكلية بفرض أن التكاليف

الثابتة = 650 جنيهاً مصرية.

الفرقة: الرابعة برنامج: العلوم الاقتصادية والاجتماعية (الاقتصاد الزراعي) الزمن: ساعتان عدد صفحات الأسئلة: صفحة واحدة	الامتحان التحريري النهائي المادة: سياسة زراعية ق 425 الفصل الدراسي الأول العام الجامعي 2017/2016 تاريخ الامتحان: 2017/1/21	 قسم: الاقتصاد الزراعي
--	--	--

أجب عن جميع الأسئلة التالية:

(10 درجة)

السؤال الأول:

تناول بالشرح تعريف وأهداف السياسة الاقتصادية الزراعية؟

(20 درجة)

السؤال الثاني:

- أ- تكلم عن عناصر العمل السياسي؟ مع رسم تخطيطي يوضح تلك العناصر؟
ب- تناول بالشرح التدرج الهرمي اهداف السياسة القومية؟

(20 درجات)

السؤال الثالث:

ناقش العبارات التالية

1. الحاجة الى تقييم البرامج السياسية.
2. أهداف سياسة التنمية.
3. عيوب الاسناد الى معيار معامل رأس المال فقط عند اعداد سياسة التنمية ولا بد من معايير أخرى بجانبه.
4. صلة التكاليف الانتاجية والسياسة التسعيرية بالبرامج التشميرية السلعية.
5. الأساليب السياسية التي تتبعها الحكومة لتشجيع وترغب وارشاد راس المال الخاص للاستثمار في البرامج التشميرية الخاصة.

(10 درجة)

السؤال الرابع:

ناقش التحديات الرئيسية للتنمية الزراعية المصرية وماهي السياسات التي تتبعها الدولة للتغلب على هذه التحديات؟

مع أطيب الأمنيات بالتوفيق

لجنة الممتحنين:

د حسين السيد

(.....)

أ.د حسن نية أبوسعد

(.....)

أ.د إبراهيم صديق علي

(.....)

الفرقة: الرابعة - ساعات معتمدة البرنامج: العلوم الاقتصادية والاجتماعية الزراعية	العام الجامعي 2016-2017 الفصل الدراسي الثاني	
المادة: اقتصاديات التغير التكنولوجي في الزراعي (ق430)	تاريخ الإمتحان: 13-6-2017	قسم الاقتصاد الزراعي

أجب عن الأسئلة الآتية:

السؤال الأول (20 درجة)

1- اذكر فقط ما يلي: أشكال مخزون راس المال الثابت في الزراعة - أشكال التكنولوجيا الزراعية.

أ- إذا كانت الدالة الإنتاجية على الصورة $Q = 0.3K^{0.6}L^{0.4}$ ، حيث Q قيمة الإنتاج الكلي، K عنصر رأس المال، L : عنصر العمل ، احسب كل من مرونة الإنتاج بالعنصر لكل من عنصري الإنتاج راس المال والعمل ثم احسب عائد السعه لتلك الدالة، وإذا حدثت زيادة في نسبة عنصري الإنتاج ب 10% فما نسبة الزيادة الحادثة في الإنتاج.

السؤال الثاني (20 درجة)

أ- الأهمية التطبيقية لدراسة الآثار الاقتصادية للتغيرات التكنولوجي، قياس التغير التكنولوجي في الزراعة المصرية من وجهه نظرك.

ب- وضح مفهومي التكنولوجيا والتغير التكنولوجي.

ت- يدعي البعض أن انتقال داله الإنتاج نتيجة حتمية للتغير التكنولوجي، ناقش مدى صحة هذه العبارة موضحاً كيف تفسر مصادر الزيادة في الإنتاج.

السؤال الثالث (20 درجة)

أ- اذكر فقط ما يلي:

١٣١١، ١٣١١، ١٣١١

1- مناهج قياس التغير التكنولوجي - أساليب قياس التغير التكنولوجي - طرق قياس التغير التكنولوجي.

2- الفرق بين الابتكار والاختراع

ب- اشتق رياضياً مرونة الاحلال بين عنصري الإنتاج في الدالة الانتاجية ($Q = F(K, L)$) حيث Q : قيمة الإنتاج

الكلي، K عنصر رأس المال، L : عنصر العمل، وباعتبار أن $q = Q/L$ و $k = K/L$

ت- يدعي البعض ان مرونة الاحلال هي مرونة الإنتاج، ناقش مدى صحة هذه العبارة مع توضيح الاجابة بالاشتقاق الرياضي.

لجنة وضع الأسئلة

مع أطيب التمنيات بالتوفيق والنجاح

أ.د. عبد الرحمن تريبيل	أ.د. مجدي محمد الجندي	د.أهن محمد ابوزيد
------------------------	-----------------------	-------------------

الفرقة: الرابعة - لا تحه فدمه قسم الاقتصاد الزراعي	العام الجامعي 2016-2017 الفصل الدراسي الثاني	
المادة: اقتصاد إنتاج زراعي ق(420)	تاريخ الامتحان: 13-6-2017	قسم الاقتصاد الزراعي

أجب عن الأسئلة الآتية:

السؤال الأول (20 درجة)

- 1- اذكر فقط ما يلي: أشكال التكنولوجيا الزراعية. - أشكال مخزون رأس المال الثابت في الزراعة.
أ- اذا كانت الدالة الإنتاجية على الصورة $Q = 0.4K^{0.7}L^{0.3}$ ، حيث Q قيمة الإنتاج الكلي، K عنصر رأس المال، L : عنصر العمل، احسب كل من مرونة الانتاج بالعنصر لكل من عنصري الانتاج رأس المال والعمل ثم احسب عائد السعه لتلك الدالة، واذا حدثت زيادة في نسبة عنصري الإنتاج ب 15% فما نسبة الزيادة الحادثة في الإنتاج.

السؤال الثاني (20 درجة)

- أ- الأهمية التطبيقية لدراسة الآثار الاقتصادية للتغيرات التكنولوجية، وقياس التغير التكنولوجي في الزراعة المصرية من وجهه نظرك.
ب- وضح مفهومي التكنولوجيا والتغير التكنولوجي.
ت- يدعى البعض أن انتقال داله الإنتاج هو محصلة للعديد من القوي ، ناقش هذه العبارة في ضوء ما درست.


السؤال الثالث (20 درجة)

- أ- اذكر فقط ما يلي:
1- ماصح و أساليب و طرق قياس التغير التكنولوجي..
2- افرق بين الابتكار والاختراع
ب- إشتق رياضياً مرونة الاحلال بين عنصري الإنتاج في الدالة الإنتاجية ($Q = F(K, L)$) حيث Q : قيمة الإنتاج الكلي، K عنصر رأس المال، L : عنصر العمل، وباعتبار أن $q = Q/L$ و $k = K/L$
ت- أثبت رياضياً العلاقة بين مرونة الاحلال، ومرونة الإنتاج في حالة سيادة سوق، المنافسة الكاملة، وسيادة قانون ايلر للتوزيع.

لجنة وضع الأسئلة

مع أطيب التمنيات بالتوفيق والنجاح

د. أيمن محمد أبوزند	د. حسين السيد حسين	أ.د- م.ع. محمد الجندي
---------------------	--------------------	-----------------------

<p>المادة: تمويل وضرائب زراعية الفرقة: الرابعة التخصص: الاقتصاد الزراعي الزمن: ساعتان الأسئلة في صفحة واحدة</p>	<p>الامتحان التمهيدي النهائي الفصل الدراسي (الثاني) العام الجامعي (٢٠١٦/٢٠١٧) تاريخ الامتحان: ٢٠١٧/٦/٦</p>	 <p>قسم: اقتصاد الزراعة</p>
---	--	--

أجب عن الأسئلة التالية :

(٤٠ درجة)

السؤال الأول: أجب عن خمسة (٥) فقط من النقاط التالية: -

- (١) "تعدد مصادر وأشكال التمويل المستخدمة في النشاط الزراعي تبعاً لدرجة التطور الاقتصادي للمجتمع" وضح مفهوم التمويل والائتمان الزراعي ثم أذكر الأشكال المختلفة للتمويل الزراعي وكذلك عناصر الائتمان الزراعي.
- (٢) حدد الخصائص المميزة للائتمان الزراعي مع توضيح مدى تأثيرها بخصائص صناعة الزراعة.
- (٣) مزارع حصل على قرض بمقداره ١٠٠ ألف جنيه بفائدة سنوية ١٥% وعلى أن يسدد على ٥ سنوات، السنتان الأولى والثانية فترة سماح يتم رسملة الفائدة خلالهما، ثم يتم دفع خدمة الدين خلال الثلاث سنوات المتبقية بطريقة الدفعات المتساوية **Level Payment**. والمطلوب تصوير حساب القوائد والتسلسل السنوي المستحق.
- (٤) اشرح بإيجاز المشاكل التي يواجهها ضباط القروض عند إعداد الميزانية العمومية للمزارع العائلية.
- (٥) ناقش بإيجاز خطوات أو مراحل القرض الزراعي مبينا دورة القرض الزراعي **The Agricultural Loan Cycle** برسم تخطيطي مفصل. ثم وضح ما هي أهم مراحل القرض التي يمكن من خلالها السيطرة على المخاطر الأخلاقية؟
- (٦) إذا ما كانت البيانات التالية تمثل صافي التدفق النقدي الشهري لأسرة مزرعية وبافتراض أن هذه الأسرة حصلت على قرض قيمته ٢٤٠٠ جنيهًا يسدد على أقساط شهرية ثابتة بفائدة ٥% شهريا من أصل القرض، احسب معدل صافي التدفق النقدي الحر شهريا ومعدل صافي التدفق النقدي التراكمي.

الشهر	١	٢	٣	٤	٥	٦	٧	٨	٩	١٠	١١	١٢
صافي التدفق النقدي	٣٣٠	٤٤٠	٤٣٠	٤٠٠	٥٠٠	١٢٠٠	٤٠٠	٣٧٠	٤٣٠	٣٢٠	٣٨٠	٤٠٠

(٧) إذا ما أعطيت البيانات التالية عن المركز المالي لإحدى المزارع:

أصول جارية:	١٥٣٠٠٠ جنيه	حقوق ملكية:	٢٠٥٠٠٠ جنيه
أصول طويلة الأجل:	١٧٥٠٠٠ جنيه	رصيد قروض طويلة الأجل:	٣٠٠٠٠٠ جنيه
خصوم جارية:	١٥٠٠٠٠ جنيه	اجمالي الأصول:	٥٠٠٠٠٠٠ جنيه

المطلوب: تصوير ميزانية تلك المزرعة، واستخراج مؤشرات المالية وجدارتها الائتمانية.


(٢٠ درجة)

السؤال الثاني: أجب عن نقطتين (٢) فقط من النقاط التالية: -

- (أ) اشرح مكونات سعر الفائدة على القروض الزراعية مع بيان العوامل التي يجب أخذها في الاعتبار عند اتخاذ قرار برفعها.
- (ب) يعد ضعف الضمانات المتاحة للمزارعين أحد أهم المشاكل التي تواجه البنوك الزراعية. ناقش هذه المشكلة مع بيان الأنواع المختلفة للضمانات وطبيعة كل منها، وكيف يمكن للبنوك الزراعية التغلب على تلك المشكلة؟
- (ت) أذكر أهم عناصر السياسة الائتمانية من المنظور المصرفي مع شرح موجز لكل عنصر من عناصرها.

لجنة الممتحنين: د/يسر السعدي شقرة (يسر السعدي شقرة) / د/إبراهيم صديق علي (إبراهيم صديق علي) / أ.م. خالد صلاح الدين طه (خالد صلاح الدين طه)

مع أطيب التحيات بالرفيق،،،

<p>الفرقة : الرابعة الشعبية: الاقتصاد الزراعي الزمن :ساعتان</p>	<p>الامتحان التحريري النهائي المادة : التجارة الدولية الزراعية الفصل الدراسي (الثاني) العام آنجامسى (٢٠١٦ / ٢٠١٧) تاريخ الامتحان : ١٠ / ٦ / ٢٠١٧</p>	<p> قسم : ..الاقتصاد الزراعي..</p>
---	--	---

السؤال الأول : (عشرون درجة)

أولا : فرق بين كل مما يأتي

١. الميزان التجاري وميزان الحساب الجارى وميزان المدفوعات (خمس درجات)
 ٢. منحني الإمكانات الإنتاجية ومنحني الإمكانات الاستهلاكية (خمس درجات)
- ثانيا: يترتب على فرض الرسوم الجمركية رفع سعر السلع وأثار على كل من الاستهلاك والانتاج وعلى دخل الدولة أشرح مع الاستعانة بالرسم البياني (عشر درجات)

السؤال الثاني (عشرون درجة)

تبدا دراسة التجارة الخارجية بالاجابة على السؤال الاساسي لماذا تقوم التجارة الخارجية بين الدول وكانت اجابة الكلاسيك على ذلك بنظرية الميزة النسبية اشرح كل من :-

- الميزة المطلقة لأدم اسميث وأرباح التجارة (خمس درجات)
- الميزة النسبية لريكاردو وأرباح التجارة (خمس درجات)
- الانتقادات التي وجهت الى نظرية ريكاردو (خمس درجات)
- امتداد نظرية المنزة النسبية (خمس درجات)


السؤال الثالث : (عشرون درجة)

عرف كل من

- ١ - شرطا التجارة وكيفية قياسها ٢ - منحني عرض المبادلة وكيفية اشتقاقه ٣ - كيفية اشتقاق منحنيات الطلب والعرض الدوليين ٤ - أثر تكاليف النقل على سعر التبادل الدولي (خمس درجات لكل منهم)

لجنة وضع الأسئلة

الاسم (أ. د عادل يوسف عوض.....)،
الاسم (أ. د. محمد البركاتي محمد)،
الاسم (أ. د. محمد عبد الوهاب)،

<p>الفرقة : الرابعه مجال : الاقتصاد الزراعي الشعبة : الاقتصاد الزراعي الزمن : ساعتان عدد صفحات الأسئلة : ورقة واحده</p>	<p>الامتحان التحريري النهائي المادة : تخطيط و سياسه زراعيه الفصل الدراسي الاول العام الجامعي : 2017/2016 تاريخ الامتحان : 2017/1/21</p>	 <p>قسم الاقتصاد الزراعي</p>
---	---	---

اجب عن جميع الأسئلة التاليه :

(15 درجة)

السؤال الاول :

(5 درجات)

(أ) فرق بين السياسه الاقتصاديه و السياسه الزراعيه .

(ب) اشرح بالتفاصيل التدرج الهرمي للأهداف السياسيه للمجتمع مع ذكر بعض الانار الجانبيه اني يمكن أن تترتب على تنفيذ بعض البرامج السياسيه .
 (10 درجات)

(15 درجة)

السؤال الثاني :

" يعتبر التركيب المحصولي محصلة و انعكاسا هاما للسياسات الزراعيه " . اشرح تلك العبارة موضحا ما يلي :
 (1) أهم محددات ذلك التركيب .
 (10 درجات)

(5 درجات)

(2) الفرق بين معامل التكتيف الزراعي الارضي و المائي .

(15 درجة)

السؤال الثالث :

(8 درجات)

(أ) اشرح ماذا يدرس علم التخطيط الاقتصادي و علاقته بالعلوم الأخرى .

(ب) ينطوي السلوك التخطيطي على ثلاثة أبعاد رئيسيه . اشرح هذه الأبعاد من خلال تعريف مختصر للتخطيط الاقتصادي موضحا الدور الذي يلعبه كل من الخبراء و السياسيون في كل هذه الأبعاد .
 (7 درجات)

(15 درجة)

السؤال الرابع :

(أ) وضح التصور العام لميزان التشابك القطاعي مع شرح الأساس الرياضي لعلاقاته الأساسيه . (8 درجات)

(ب) بفرض أنك خبيرا في إعداد موازين التشابك القطاعي في وزارة التخطيط و قد أعطيت البيانات الآتية عن الاقتصاد الزراعي عام 2002م : (i) مصنوفة المعاملات الفنيه Aij لثلاثة قطاعات جزنيه داخل الاقتصاد الزراعي . (ii) متجه الناتج النهائي (final use) Y . و المطلوب هو : كيف يمكنك إعداد ميزان التشابك القطاعي للاقتصاد الزراعي عام 2002م .

$$A_{ij} = \begin{bmatrix} 0.0 & 0.2 & 0.1 \\ 0.3 & 0.0 & 0.7 \\ 0.4 & 0.5 & 0.0 \end{bmatrix}$$

$$Y = \begin{bmatrix} 1000 \\ 2000 \\ 1500 \end{bmatrix}$$

(7 درجات)

مع اطيب تمنياتي بالتوفيق و النجاح

د. حسين السيد حسين

المستوى: الرابع
برنامج العلوم الاقتصادية والاجتماعية الزراعية
اللائحة الجديدة
الزمن: ساعتين

الامتحان النظري النهائي
المادة: مشروع التخرج
الفصل الدراسي الثاني 2016/2017
التاريخ: 2017/5/27



قسم الاقتصاد الزراعي

السؤال الأول (30 درجات):

تكلم بإيجاز عن كل مما يأتي:

- 1- مراحل البحث العلمي.
- 2- متطلبات البحث العلمي.
- 3- طرق عرض الدراسات السابقة.
- 4- المقصود بمنهج التفكير الاستباقي ومميزاته.

السؤال الثاني (30 درجات):


- 1- اذكر مواصفات الباحث.
- 2- ما هي الشروط الضرورية التي يجب توافرها في البحث العلمي.
- 3- اذكر خصائص العلم.
- 4- ما هي النقاط التي يجب أخذها في الاعتبار عند كتابة المراجع.
- 5- ما هي النقاط التي يجب أن تتضمنها مقدمة البحث.

مع خالص التمنيات بالنجاح والتوفيق

د/ علي السعد عيش

أ.د/ محمد مدحت مصطفى

أ.د/ حسن نبيه أبو سعد

الشعبة: الاقتصاد الزراعي (ل.ق) الزمن: ساعتان عدد صفحات الأسئلة: صفحة واحدة	الامتحان التحريري النهائي المادة: اقتصاد قياسي - ق ٤١١ تاريخ الامتحان: ١٠/١٧/٢٠١٧	 قسم الاقتصاد الزراعي
--	---	---

السؤال الأول (٢٠ درجة)

١- إذا كان لديك النموذج: $Y = XB + U$

حيث:

Y : متجه من الرتبة $(n \times 1)$

X : مصفوفة من الرتبة $(n \times (k+1))$

B : متجه من الرتبة $((k+1) \times 1)$

U : متجه من الرتبة $(n \times 1)$

k : عدد المتغيرات المستقلة

والمطلوب إثبات أن:

$$\hat{B} = (x'x)^{-1} x'y$$

٢- أثبت أن \hat{B} تقدير غير متحيز للمعلم B

السؤال الثاني (٢٠ درجة)

١. "يجمع علم الاقتصاد القياسي في طياته أسس علوم النظرية الاقتصادية والرياضة والإحصاء" اشرح باختصار تلك العبارة موضحاً العلاقة بين علم الاقتصاد القياسي وتلك العلوم.
٢. تناول بالتفصيل خطوات إعداد البحث القياسي
٣. اذكر الفروض الخاصة بعنصر الخطأ العشوائي اللازم توافرها كي تكون تقديرات OLS لها الصفات المرغوبة في التقديرات. ماهي دلالة كل فرض وما هي تلك الصفات المرغوبة في التقديرات؟
٤. اشرح المقصود بالارتباط الذاتي Autocorrelation وماهي نوعية البيانات التي توجد بها هذه الظاهرة؟ اذكر النتائج المترتبة على وجود هذه المشكلة.
٥. اشرح كيف يمكن اختبار حساسية معامل الانحدار للتغير في حجم العينة.

السؤال الثالث (٢٠ درجة)

البيانات التالية تبين الناتج الكلي Y وكل من العمل L ورأس المال K

Q	3	4	6	7	9	10	11	12	15	14	15	15	17	18	20
L	1	2	3	4	5	6	7	8	9	10	11	12	13	14	15
K	5	7	9	10	12	14	16	15	20	18	19	17	20	22	24

والمطلوب تقدير الدالة الإنتاجية على الصورة $Y = AL^\alpha K^\beta$ تحت افتراض ثبات العائد للسعة. كون جدول تحليل التباين للنموذج ثم ضع النظرية الفرضية والبديلة مبيناً كيفية قبول الفرض الصفري من عدمه؟ ما دلالة معنوية النموذج في حالة ثبوتها؟ (قيمة F الجدولية المناسبة ٣.١).

مع خالص التمنيات بالنجاح،،،

د. حسين السيد حسين

د. أيمن محمد أبو زيد

أ.د. رجب مغاوري على زين



قسم : الاقتصاد الزراعي

الامتحان التحريري النهائي
المادة : تطبيقات الحاسب الآلي ونظم
المعلومات الزراعية (ز 402)
الفصل الدراسي (الثاني)
العام الجامعي (2016/2017)
تاريخ الامتحان : 2017/5/23

الفرقة : الرابعة برنامج إدارة الأعمال الزراعية
الزمن : ساعتان
عدد صفحات الأسئلة : صفحة
واحدة

ضع علامة صح أو خطأ أمام العبارات الحاسوبية التالية بعد نقلها إلى كراسة الإجابة.
(يُخصص 6 درجات للإجابة الصحيحة عن كل عبارة)


المكان المخصص للعلامة	رقم العبارة	العبارات
	1	$=\text{CORREL}(\text{D3:D10};\text{E3:E10}) \rightarrow \text{Enter}$ تستخدم هذه الصيغة لتقدير قيمة معامل الارتباط بين قيم متغيرين في المدى $\text{D3:D10};\text{E3:E10}$.
	2	$=\text{Standard deviation}(\text{D15:D30})$ تستخدم هذه الصيغة لحساب الانحراف المعياري للقيم في المدى D15 إلى D30 .
	3	$=\text{Factor}(\text{B5})$ تستخدم هذه الصيغة لحساب مضروب القيمة الموجودة بالخلية B5 .
	4	$=\text{Combination}(10:5)$ تستخدم هذه الصيغة لحساب 10 تباديل 5.
	5	$=\text{Permute}(20:4)$ تستخدم هذه الصيغة لحساب 20 توافق 4.
	6	$\text{F-Test Two-Sample for Variances}$ يستخدم هذا الاختبار للتأكد من معنوية الفرق بين متوسطي عينتين مرتبطتين.
	7	$\text{T-Test: Two-Sample Assuming Unequal Variances}$ معنوية الفرق بين متوسطي عينتين غير مرتبطتين.
	8	$\text{T-Test: Two-Sample Assuming Equal Variances}$ يستخدم هذا الاختبار للتأكد من معنوية الفرق بين متوسطي عينتين مستقلتين.
	9	$\text{Insert} \rightarrow \text{Column}$ يستخدم هذا الأمر لإدراج رسم بياني في صورة أعمدة بعد تحديد نطاق البيانات المطلوب التعبير عنها بالرسم.
	10	Anova: two Factor يستخدم هذا الاختبار للتأكد من معنوية الفرق بين تأثير مستويات متعددة لعاملين أحدهما يمثل كأعمدة و الآخر كصفوف.

مع أطيب التمنيات بالنجاح والتوفيق

لجنة وضع الأسئلة

(أ. د. مجدي الجندي) ، (د. خالد صلاح الدين طه محمود) ، (د. يسرا السعودي شقرة)

أحمد صلاح الخولي

الزمن: ساعتان لكل الأسئلة بالفرعين	الاختبار التحريري النهائي المادة: اللغة الإنجليزية الفنية الزراعية الفصل الدراسي: الثاني العام الجامعي: 2016-2017 تاريخ الاختبار: 2017/5/24	 قسم الاقتصاد الزراعي
---------------------------------------	---	---

Answer the Following Questions

1- Translate the following paragraph into Arabic.....(10 Marks)

According to the international Organization for Migration, an estimated 2.7 million Egyptians abroad contribute actively to the development of their country through remittance inflows. In 2009 Egypt was the biggest recipient of remittances in the Middle East; an estimated US\$7.8 billion was received in 2009, representing approximately 5% of national GDP. According to data from Egypt's Central Bank, the United States was the top sending country of remittances (23%), followed by Kuwait (15%), the United Arab Emirates (14%) and Saudi Arabia (9%).

2- Translate the following words into English.....(10 Marks)

5- سوق الاحتكار	رأس المال	3- الميزة النسبية	2- التغير التكنولوجي	1- الدعم
10- الميزة المطلقة	9- السوق السوداء	8- الاعراق	7- المدى القصير	6- الدخل القومي


3 Translate the following words into Arabic.....(10 Marks)

1- Complement	2- Credit Risk	3- Budget Line	4- Property Rights	5- Variable Cost
6- Compound Interest	7- loss	8- Wealth	9- Substitute	10- Rent

4- Translate the Following Paragraph into English..... (10 Marks)

تعد المشكلة الاقتصادية أو مشكلة الندرة سبب نشوء علم الاقتصاد، وهي المدخل الأساسي لإدراك العلاقة بين الفرد والمجتمع من ناحية، والموارد الاقتصادية من ناحية أخرى. وتتلخص هذه المشكلة في أن أول ما يشعر به الإنسان حاجته إلى الطعام والشراب والملبس والمأوى للمحافظة على استمرار حياته، وهذا ما يدفعه إلى السعي بحثاً عن الوسائل اللازمة لإشباع هذه الحاجات.

أسئلة الجزء الثاني من المادة في الصفحة الثانية
مع اطيب تمنياتي بانوفيق..... أحمد صلاح الخولي

<p>العام الجامعي: 2016-2017 تاريخ الاختبار: 2017/5/24 الزمن: ساعتان</p>	<p>الاختبار التحريري النهائي المادة: اللغة الانجليزية الفنية الزراعية الفصل الدراسي: الثاني</p>	 <p>قسم الاقتصاد الزراعي</p>
---	---	---

Answer the Following Questions

1- Translate the following paragraph into Arabic.....(20 Marks)

- A- Egypt's main imports consist of pharmaceuticals and non-petroleum products such as wheat, maize, cars and car spare parts. The current account grew from 0.7% of GDP in 2002 to 3.3% at 2005. Egypt's Current Account made a surplus of US\$4478 million in 2005 compared to a deficit of US\$158 million in 2004. Italy and the USA are the top export markets for Egyptian goods and services. In the Arab world, Egypt has the largest non-oil GDP as of 2005.
- B- **Eugene Francis Fama** (born February 14, 1939) is an American economist, often referred to as "The Father of Finance", best known for his empirical work on asset pricing and stock market behaviour. Fama proposed a concept that have been used on efficient markets ever since. First, Fama proposed three types of efficiency: (i) strong-form; (ii) semi-strong form; and (iii) weak efficiency.

2- Translate the following words into English.....(10 Marks)

1- المنشأة	2- التفرقة السعرية	3- مرونة الطلب	4- اتحاد العمال	5- الحافز
6- الدخل القومي	7- كفاءة الإنتاج	8- النمو الاقتصادي	9- التمويل	10- الربح


3 -Translate the following words into Arabic.....(10 Marks)

1- Integrated Marketing	2- Risk	3- E- Commerce	4- Monopoly	5- Variable Cost
6- Economies of Scale	7- Price Taker	8- Present Value	9- Capital	10- Game Theory

4- Translate the Following Paragraph into English..... (20 Marks)

تعد المشكلة الاقتصادية أو مشكلة الندرة سبب نشوء علم الاقتصاد، و هي المدخل الأساسي لإدراك العلاقة بين الفرد والمجتمع من ناحية، والموارد الاقتصادية من ناحية أخرى. وتتلخص هذه المشكلة في أن أول ما يشعر به الإنسان حاجته إلى الطعام والشراب والملبس والمأوى للمحافظة على استمرار حياته، وهذا ما يدفعه إلى السعي بحثاً عن الوسائل اللازمة لإشباع هذه الحاجات.

أرتبط الفكر الاقتصادي الحديث بالاقتصادي الاسكتلندي ادم سميث (1732-1790) الذي ظهرت أفكاره في كتابه الوحيد الذي صدر عام 1776 تحت عنوان ثروة الأمم ويعدّ ديفيد ريكاردو - David Ricardo رجل الأعمال والسياسي الإنكليزي البارز - من بين أهم رواد الفكر الاقتصادي الحديث.

الفرقة: الرابعة - إدارة الأعمال الزراعية	العام الجامعي 2016-2017 الفصل الدراسي الثاني	
المادة: اقتصاديات الانتاج زراعي ق 420	تاريخ الإمتحان: 6-6-2017	قسم الاقتصاد الزراعي

أجب عن الأسئلة الآتية:

السؤال الأول (20 درجة)

- أ- تناول با يحاز مايلي .
- 1- مفهوم داله الإنتاج مع تحديد الفروض الأساسية للداله الإنتاجية .
- 2- انواع المشاريع الزراعيه .
- ب-وضح بالرسم فقط وباستخدام دوال متوسطات التكاليف متي يبدء المنتج في الانتاج ومتي يبدء تحقيق الارباح .
- ت-وضح بالرسم فقط منطقة الإنتاج الرشيد في حاله عنصرين إنتاجيين مع تحديد كل من الخط الحرج والممر التوسعي الأمثل.
- ث-وضح بالرسم فقط تأثير التكنولوجيا الحديثة علي الإنتاج.

السؤال الثاني (20 درجة)

- أ- عرف ما يلي : المعدل الحدي للاستبدال - التكاليف الحدية - الناتج الحدي - مرونة الإنتاج - مرونة الإحلال.
- ب-تناول قانون تناقص العله موضحاً المراحل الإنتاجية المختلفة وسلوك منحنيات الانتاج خلال تلك المراحل.
- ت-عقب قيامك بادارة إحدى مزارع الإنتاج الزراعي طلب منك تحديد حجم الانتاج الذي يجب ان تبدء عنده المنشأة في الانتاج حيث كانت دالة التكاليف في المدى القصير لتلك المنشأة علي النحو التالي:
- $$TC = 1000 + 2Q - 0.4Q^2 + 0.04Q^3$$

السؤال الثالث (20 درجة)

الجدول التالي يوضح العلاقة بين الانتاج الكلي من منتج معين (TP) وكمية العنصر الانتاجي (X) وذلك في احد مزارع إنتاج الدجاج المطلوب استنتاج مراحل الداله الانتاجية وتحديد الكمية المثلي من العنصر الانتاجي إذا اعلمت أن سعر الوحدة من الناتج تبلغ 10 جنيهاً وسعر الوحدة من العنصر الإنتاجي تبلغ 20 جنيهاً.

X	1	2	3	4	5	6	7	8	9	10
TP	3	7	12	16	19	21	22	22	21	20

لجنة وضع الأسئلة

مع أطيب التمنيات بالتوفيق والنجاح

أ.د. مجدي محمد الجندي	د. أيمن محمد ابوزيد	د. يسرا السعود شقرا
-----------------------	---------------------	---------------------

<p>الفرقة : الثالثة برنامج ادارة الاعمال الزراعية الزمن : ساعتان عدد صفحات الأسئلة : صفحة واحدة</p>	<p>الامتحان التمهيدي النهائي المادة : تجارة خارجية زراعية الفصل الدراسي (الاول) العام الجامعي (٢٠١٦ / ٢٠١٧) تاريخ الامتحان : ٤ / ٦ / ٢٠١٧</p>	<p>UNIVERSITY OF MINOUBA FACULTY OF AGRICULTURE 1947 كلية الزراعة 1947</p> <p>قسم : الاقتصاد الزراعي</p>
---	---	--

الإجابة على جميع الأسئلة

السؤال الأول : (عشرون درجة)

- اشرح كل مما يأتي اسمياً
- ١- الميزة المطلقة لإدع اسمياً
 - ٢- الميزة النسبية لإدع اسمياً
 - ٣- منحى المكائيات الأمتلاكية
 - ٤- منحى المكائيات الإنتاجية

- { خمس درجات }
{ خمس درجات }
{ خمس درجات }
{ خمس درجات }

السؤال الثاني (عشرون درجة)
اكتب مقالات مختصرة عن خمسة فقط مما يأتي:


- ١- أرباح التجارة الخارجية
- ٢- مخط التجارة
- ٣- كيف يتحدد شرط التجارة الدولية
- ٤- تكلفة الفرصة البديلة في حالة النفقة الثابتة والمتغيرة

السؤال الثالث : (عشرون درجة)

تتقسم نظرية هكشر – أولين إلى نظريتين الأولى هي نظرية هبات الطبيعة والثانية تعادل أسعار
عناصر الإنتاج اشرح كل مما يأتي :

- ١- نظرية الشكل المندوقى
- ٢- اشتقاق منحى المكائيات الإنتاجية

مع تمبائى لكم بالتوفيق

المادة: اقتصاد جزئي ق ١٠١ المستوى: الأول برنامج: إدارة الأعمال الزراعية الزمن: ساعتان عدد صفحات الأسئلة: صفحة واحدة	الامتحان التحريري النهائي الفصل الدراسي الأول العام الجامعي (٢٠١٦/٢٠١٧) تاريخ الامتحان: ١١ / ١ / ٢٠١٧	 قسم: الاقتصاد الزراعي
---	--	--

أجب عن الأسئلة التالية مستعيناً بالأشكال والرسوم البيانية الواضحة والمعادلات الرياضية المناسبة كلما أمكن ذلك

(خمسة وعشرون درجة)

السؤال الأول:

- أ- عرف كلا مما يلي: المنفعة الكلية- الناتج الحدي- التكاليف الثابتة- المعدل الحدي للإحلال- منحنى الاستهلاك السعري- معدل التشفيل الأمثل- منحنى السواء- قانون الطلب.
- ب- اكتب بإيجاز وفي نقاط محددة المفهوم الاقتصادي والفروق بين كل من:
١. انتقال منحنى الطلب والتحرك عليه
 ٢. مرونة الطلب السعرية ومرونة الطلب العبروية أو التقاطعية
 ٣. وفورات السعة ولاوفورات السعة
 ٤. العائد الكلي في سوق المنافسة الكاملة وفي سوق الاحتكار التام
 ٥. السلع العادية وسلعة جيفن

(خمسة وعشرون درجة)

السؤال الثاني:

- أ- بين بالرسم سلوك منحنيات الإنتاج المختلفة لقانون تناقص الغلة موضحاً المراحل المختلفة التي تمر بها هذه المنحنيات، مبيناً المرحلة الاقتصادية.
- ب- ما هي خصائص سوق المنافسة الكاملة؟ ثم بين كيفية تحديد السعر في سوق المنافسة الكاملة. (٥ درجات)
- ت- عرف منحنى إنجل ثم بين بالرسم فقط كيفية اشتقاقه. (٥ درجات)
- ث- وضح كيفية توازن المنتج في سوق الاحتكار التام باستخدام الدوال المتوسطة. (٥ درجات)

(عشر درجات)

السؤال الثالث:


- البيانات التالية تمثل تكاليف وحدة إنتاجية تعمل في ظروف المنافسة التامة، والمطلوب:
- ١- اشتقاق كل من التكاليف الثابتة والمتغيرة والحدية ومتوسطات التكاليف وتمثيلها بيانياً
 - ٢- تحديد الحد الأدنى للسعر الذي يمكن أن تبدأ الوحدة الإنتاجية عنده في مزاوله نشاطها.
 - ٣- تحديد السعر الذي عنده لا تحقق الوحدة الإنتاجية لا أرباح ولا خسائر.
 - ٤- تحديد حجم الإنتاج الذي يعظم أرباح المنتج إذا كان سعر الوحدة المنتجة عشرون جنيهاً. واحسب حجم الأرباح عند هذا المستوى من الناتج.

Q	0	1	2	3	4	5	6	7	8	9	10
TC	10	18	25	32	38	45	54	64	80	100	130

د/ نجمة فتحي الشامي ،
مع أطيب أمنياتي بالتوفيق،،،

أ.د/ مجدي محمد الجندي
محمد كجدي

لجنة الممتحنين: د/ يسرا السعودي شقرة
يسرا سعودي

<p>المستوي: الثالث برنامج: إدارة الأعمال الزراعية الزمن: ساعتان عدد صفحات الأسئلة: صفحة واحدة</p>	<p>الامتحان التحريري النهائي المادة: تحليل الإدارة المزرعية ق ٣٠٦ الفصل الدراسي الثاني العام الجامعي ٢٠١٦/٢٠١٧ تاريخ الامتحان: ٢٠١٧/٥/٣١</p>	 <p>قسم: الاقتصاد الزراعي</p>
---	--	--

أجب عن جميع الأسئلة التالية:

(١٠ درجة)

السؤال الأول:

تناول بالشرح مفهوم وأهمية الإدارة المزرعية؟

(٢٠ درجة)

السؤال الثاني:

- أ- تكلم عن أهم الصعوبات التي تعيق استخدام الأسلوب العلمي في إدارة المزرعة؟
ب- وضح الوظائف الرئيسة في الإدارة؟

(٢٠ درجة)

السؤال الثالث:

ناقش العبارات التالية

١. المهارات اللازمة لممارسة العملية الإدارية .
٢. أهم عناصر وظيفة التنظيم.
٣. أساليب الإدارة المزرعية الحديثة.
٤. مقومات تطبيق الإدارة المزرعية.

(١٠ درجة)

السؤال الرابع:

- أ- وضح مفهوم ومكونات الكفاءة الاقتصادية؟
ب- اذكر أهداف التخطيط المزرعي؟

مع أطيب الأمنيات بالتوفيق

لجنة الممتحنين:

د. يسرا السعودى شقرا

د. نعمة فتحي محمد الشامي

د. حسين السيد

الفرقة: الثالثة المجال: الشعبة: إدارة..... الزمن: ساعتان..... عدد صفحات الأسئلة: 1.....	الامتحان التحريري النهائي المادة: دراسة جدوى وتقييم المشروعات الزراعية..... الفصل الدراسي (الثاني) العام الجامعي (2016/2017) تاريخ الامتحان: 7/6/2016	 قسم: الاقتصاد الزراعي
---	--	---

اجب عن الأسئلة التالية:

السؤال الأول (30 درجة): اذا اعطيت البيانات التالية عن تكاليف ومنافع أحد المشروعات بالألف جنية

والمطلوب حساب كل من:

IRR – NPV - Payback Period – Benefit / Cost Ratio

Year	1	2	3	4	5	6	7	8	9	10
Benefits	0	4000	5000	5000	4500	5000	5300	6000	6000	8000
Costs	8000	5000	600	400	400	400	400	400	400	400

ملحوظة: يتوقع أن يقع IRR بين 30% ، 40% ، وأن تكلفة الفرصة البديلة لرأس المال هي 12.5%.

السؤال الثاني (14 درجة):

قام أحد العملاء باقتراض مليون جنيها مصريا من أحد البنوك بفائدة سنوية 8% بفرض:

- المدة الكلية للقرض 16 سنة ال 3 سنوات الأولى هي فترة سماح لا يتم خلالها سوى رسملة الفائدة و ال 3 سنوات التالية لا يتم فيها سوى دفع الفائدة السنوية.
- يتم الدفع خلال ال 10 سنوات الأخيرة وفقا لطريقة المبالغ المتساوية لخدمة الدين

Level Payment.

- والمطلوب حساب خدمة الدين السنوية، وجملة ما سيدفعه العميل من الفوائد.

السؤال الثالث (16 درجة):

(أ) ما هو الفرق بين معدل العائد على اجمالي استثمارات المشروع ومعدل العائد على حقوق المساهمين، مع ذكر أيهما أكبر من الآخر، ولماذا (وضح ذلك بمثال رقمي من عندك).

(ب) ما هي القيمة الحالية لمبلغ 10000 جنيها يتم استلامها كالتالي:

- بعد 25 عاما عند سعر خصم 6%.

- سنويا لمدة 5 سنوات عند سعر خصم 5%.

(ج) هل تفضل الحصول على 2400 جنيها بعد 12 سنة من الآن أم أن تحصل على 1000 جنيها الآن اذا كان معدل الخصم 8%.

(د) عند حساب قائمة الدخل نقوم بحساب أرباح المشروع السنوية تحت أربعة مسميات مختلفة، اشرح ذلك مع ذكر هذه المسميات وكيفية حساب كل منها.

لجنة وضع الأسئلة

أ.د. مجدى الجندى (.....)، أ.د. ايمن ابو زيد (.....)، د.حسن ابو سعد (.....)