

السؤال الثاني: (٧.٥ درجة - ٦٠ دقيقة)

(أ) وافق الشركاء رنا وورانيا وهنا في ٢٠١٦/٢/١ على انضمام الشريك ساجد بحصة تمثل نسبة ٤٠% من رأس المال على أن يسدد مبلغ ١٢٠٠٠٠ ج وكان حصص الشركاء القدامى في رأس المال ٧٨٠٠٠ ج و ٣٩٠٠٠ ج و ٣٩٠٠٠ ج كما كانت نسبة توزيع أرباح الشركاء القدامى ٦٠% و ٢٠% و ٢٠% بالترتيب.

المطلوب: إجراء قيود اليومية اللازمة لإثبات انضمام الشريك ساجد بفرض معالجة الزيادة كمكافأة.

(ب) غالى وهادى وصلاح والننى شركاء في شركة تضامن نسبة توزيع الأرباح والخسائر بينهم ١:٢:١:١ وقيمة الشهرة التقديرية ٦٤٠٠٠٠ ج وبمناسبة انفصال الشريك الننى اتفق الشركاء على عدم إظهار الشهرة في الدفاتر.

المطلوب: إجراء قيود اليومية اللازمة لإثبات ما تقدم في حالة تغيير نسبة توزيع الأرباح والخسائر بين الشركاء الباقين إلى ٣:٢:١

(ج) جمال وجاسر وجميل شركاء في شركة تضامن يقسمون الأرباح والخسائر بالتساوي، وفي أول أغسطس ٢٠١٥م تم الإتفاق على تصفية الشركة نظراً لما تواجهه من انخفاض في مستوى النشاط، وقد ظهرت قائمة المركز المالي للشركة في ذلك التاريخ كما يلي:

رأس مال الشركاء	٥٠٠٠٠	الألات	٢٧٠٠٠	
الشريك جمال	٢٠٠٠٠	مخصص الاهلاك	(٥٠٠٠)	٢٢٠٠٠
الشريك جاسر	٢٠٠٠٠	الأثاث	١٠٤٠٠	
الشريك جميل	١٠٠٠٠	مخصص الاهلاك	(٦٠٠)	٩٨٠٠
قرض الشريك جمال	٦٠٠	السيارات	١٧٠٠٠	
قرض الشريك جميل	٥٠٠	مخصص الاهلاك	(٣٠٠٠)	١٤٠٠٠
الدائنون	١٦٠٠٠	المخزون السلعي	٤٨٠٠	١٧٠٠٠
أوراق الدفع	٦٠٠٠	المدينون	٨٠٠	
		م. د. م. فيها	(٨٠٠)	٤٠٠٠
		الحسابات الجارية		٣٧٠٠
		الشريك جمال	١٤٠٠	
		الشريك جاسر	٦٠٠	
		الشريك جميل	١٧٠٠	
		البنك		٢٠٠٠
		الخزينة		٦٠٠
	٧٣١٠٠			٧٣١٠٠

فإذا توافرت لديك المعلومات التالية:

١. تم بيع أصول الشركة بمبلغ ٢٨٠٠٠ جنية.
 ٢. تم تحصيل مبلغ ٣٦٠٠ جنية من المدينين.
 ٣. بلغت مصاريف التصفية ١٤٠٠ جنية.
- المطلوب:** تصوير حسابات التصفية بفرض أن الشريك جميل معسراً.

مع التمنيات بالتوفيق

د. محسن عبيد

د. محمد صابر

د. إسماعيل عصر

جامعة المنوفية
كلية التجارة

امتحان مادة : محاسبة تكاليف
عدد صفحات الامتحان : صفتان

القسم العلمي : المحاسبة	الفرقة الثالثة
دور مايو ٢٠١٦	الشعبة العامة
التاريخ : ٢٧ / ٦ / ٢٠١٦	الزمن : ساعتان (من ٢ : ٤)

اجب على الأسئلة التالية : (للتنظيم وحسن العرض مراعاة عند التصحيح)

السؤال الأول : (٥ درجات)

أولاً: ناقش المعالجة التكاليفية للفقء والتلف في المواد بالمخازن؟

ثانياً : توافرت لديك البيانات التالية من سجلات شركة رمضان كريم :

- ١- ساعات العمل اليومية الأساسية (الرسمية) ٨ ساعات
- ٢- معدل أجر الساعة الأساسي ١٠ جنيه/ساعة
- ٣- علاوة الأجر الاضافي ٦٠ % من معدل أجر الساعة الأساسي
- ٤- الوقت المعياري اللازم لانتاج الوحدة نصف ساعة
- ٥- تحسب الشركة العلاوة التشجيعية للعاملين بطريقة روان

المطلوب : حساب اجمالي الأجر اليومي للعامل رمضان والذي عمل ١١ ساعات في يوم أنتج خلالها ٣٠ وحدة.

السؤال الثاني : (٥ درجات)

يضم مصنع الرؤي مركزين للانتاج هما ١ ، ٢ ، ومركزين للخدمات الانتاجية هما أ ، ب ، وفيما يلي بيانات هذه المراكز خلال شهر مايو ٢٠١٦ :

بيانات	اجمالي	مراكز الخدمات الانتاجية		مراكز الانتاج	
		ب	أ	١	٢
مواد مباشرة	-	-	-	٥٠,٠٠٠	٣٠,٠٠٠
اجور مباشرة	٩٠,٠٠٠	-	-	٤٢,٠٠٠	٤٨,٠٠٠
اجور غير مباشرة	٥٥,٠٠٠	١٠,٠٠٠	٥,٠٠٠	٢٠,٠٠٠	٢٠,٠٠٠
تكاليف صناعية أخرى غير مباشرة	١٥٩,٠٠٠	٤٥,٠٠٠	٣٥,٠٠٠	٤٦,٥٠٠	٣٢,٥٠٠
تكلفة القوي المحركة	٨٠,٠٠٠	-	-	-	-
تكلفة النشاط الاجتماعي للعمال	٤٠,٠٠٠	-	-	-	-
عدد العمال	٨٠	١٢	٨	٣٢	٢٨
ساعات تشغيل الالات	٤٠٠٠	٨٠٠	٥٠٠	١٢٠٠	١٥٠٠
ساعات العمل المباشر	١٠,٠٠٠	-	-	٥,٦٠٠	٤,٤٠٠
ساعات العمل غير المباشر	١٠,٠٠٠	٣,٠٠٠	٤,٠٠٠	١,٤٠٠	١,٦٠٠
نسبة توزيع مركز الخدمات أ	% ١٠٠	% ٢٠	-	% ٥٠	% ٣٠
نسبة توزيع مركز الخدمات ب	% ١٠٠	-	% ٣٠	% ٤٠	% ٣٠

المطلوب :

- ١- إعداد كشف توزيع التكاليف الصناعية غير المباشرة مع الأخذ في الاعتبار الخدمات المتبادلة بين مركزي أ ، ب ،
- ٢- استخراج معدل التحميل للتكاليف الصناعية غير المباشرة لكل من مركزي الإنتاج ١ ، ٢ على أساس ساعات تشغيل الآلات في مركز ١ ، وساعات العمل المباشر في مركز ٢
- ٣- حساب تكلفة الأمر (صقر) والتي كانت بياناته كما يلي:
 - مواد مباشرة ٣٠,٠٠٠ جنيه (١٦,٠٠٠ بالمركز ١ ، ١٤,٠٠٠ بالمركز ٢)
 - أجور مباشرة ٢٥,٠٠٠ جنيه (١٢,٠٠٠ بمركز ١ ، ١٣,٠٠٠ بمركز ٢)
 - ساعات تشغيل الآلات على الأمر (صقر) ٢٠٠٠ ساعة (١١٠٠ بمركز ١ ، ٩٠٠ بمركز ٢)
 - ساعات العمل المباشر للأمر (صقر) ٦٠٠ ساعة (٢٤٠ بمركز ١ ، ٣٦٠ بمركز ٢)

السؤال الثالث : البيانات التالية لشركة العربي عن شهر أكتوبر ٢٠١٥ مع العلم أنها تقوم بإمسك مجموعة دفترية مستقلة لحسابات التكاليف :

أولاً : إجمالي المواد المشتراة خلال الشهر ٣٠٠,٠٠٠ ج ، كما بلغ إجمالي المواد المنصرفة من المخازن خلال الشهر ٦٩٠,٠٠٠ ج وتحليلها كما يلي : ٤٠٠,٠٠٠ ج مواد أولية - ١٥٠,٠٠٠ ج مواد صناعية غير مباشرة - ٩٠,٠٠٠ ج مواد لف وحزم - ٥٠,٠٠٠ ج أدوات كتابية ومطبوعات للإدارة ، والفرق بالمخازن يعتبر فقداً منه ٣٠% فقداً عادياً. ثانياً : بلغ إجمالي الأجور عن الشهر ٥٥٠,٠٠٠ ج ، وبلغ المستقطع لحساب مصلحة الضرائب ٤٠,٠٠٠ ج ، ولحساب هيئة التأمينات ٦٠,٠٠٠ ج ، وتم سداد الاستقطاعات وصافي الأجور بشيكات. وكان تحليل الأجور كما يلي: ٣١٠,٠٠٠ ج أجور صناعية مباشرة ، ٨٥,٠٠٠ ج أجور صناعية غير مباشرة ، ٧٠,٠٠٠ ج أجور موظفي وعمال البيع ، ٨٥,٠٠٠ ج أجور العاملين بالإدارة العامة.

ثالثاً : بلغت المصروفات الصناعية غير المباشرة الأخرى ١٣٠,٠٠٠ ج ، ومصروفات البيع والتوزيع الأخرى ٧٥,٠٠٠ ج ، المصروفات الإدارية الأخرى ٩٠,٠٠٠ ج. سددت جميعها بشيك.

رابعاً : قدرت التكاليف الصناعية غير المباشرة المحملة على الإنتاج ٣٥٠,٠٠٠ ج.

خامساً : بلغت قيمة مبيعات الشركة من إنتاجها ٢,٥٠٠,٠٠٠ ج.


سادساً : كانت أرصدة مخازن المواد ، والإنتاج تحت التشغيل ، والإنتاج التام أول و آخر الشهر كما يلي:

أول الشهر	آخر الشهر
٥٥٠,٠٠٠ ج	١٥٠,٠٠٠ ج
٤٢٠,٠٠٠ ج	٣٣٠,٠٠٠ ج
٨٣٠,٠٠٠ ج	٢٣٠,٠٠٠ ج

المطلوب : تصوير الحسابات اللازمة بدفتر أستاذ التكاليف وإعداد ميزان المراجعة في ٢٠١٥/١٠/٣١

مع أطيب التمنيات بالتوفيق

د. حاتم الشعراوي



اجب عن الأسئلة التالية:

السؤال الأول: (٦ درجات)

(١) في ضوء دراستك للبرمجة الرياضية، اذكر باختصار ماهية البرمجة الرياضية، وأهم عناصرها، ومجالات تطبيقها؟
(٢) الجدول التالي يوضح الكميات المتاحة والمطلوبة وتكلفة نقل الوحدة من ثلاث مصانع الي اربعة اسواق استهلاك:

كميات متاحة	سوق ١	سوق ٢	سوق ٣	سوق ٤	كميات متاحة
مصنع ١	٣	٢	٦	٥	٦٠
مصنع ٢	٨	٣	٧	٧	٧٠
مصنع ٣	٤	٤	٢	٩	٧٠
كميات مطلوبة	٦٠	٣٠	٨٠	٣٠	٢٠٠

المطلوب تحديد التوزيع الأمثل لانتاج المصانع علي الأسواق بهدف تخفيض تكلفة النقل، مع تحديد التكلفة الكلية للنقل؟
(٣) الجدول التالي يوضح مصفوفة العائد المترتبة علي كل قرار في حالات المخاطرة المختلفة:

القرارات	ط١: المنتج مقبول جدا	ط٢: المنتج مقبول الي حدا ما	ط٣: المنتج غير مقبول
ق١: عدم انتاج اي كمية	٦٠-	صفر	٩٠
ق٢: انتاج كمية صغيرة	٥-	٣٥	٤٠
ق٣: انتاج كمية متوسطة	٧٠	٥٠	٤٠-
ق٤: انتاج كمية كبيرة	٨٠	٤٥	٥٠-
احتمال كل حالة	٠.٣٠	٠.٤٢	٠.٢٨

أ- حدد القرار الأمثل لهذه المشكلة القرارية باستخدام معيار القيمة المتوقعة؟
ب- هناك معايير اخري بخلاف القيمة المتوقعة يمكن استخدامها لتحديد القرار الأمثل، اذكر اثنين منهم بدون شرح؟

السؤال الثاني: (٩ درجات)

(١) شركة للألمونيوم تقوم بتصنيع إطارات كراسي وهوائيات تلفزيونات ، ويتطلب الهوائي نصف ساعة في جهاز حني الأنابيب وساعة في جهاز التنقيب ، وإطار الكرسي يحتاج إلى نصف ساعة على كل جهاز ، وتتوفر لدى الشركة ٧ ساعات لجهاز حني الأنابيب و ٩ ساعات لجهاز التنقيب يوميا ، فإذا كان صافي الربح لكل هوائي ٣٩ جنيه و ٢٦ جنيه لكل إطار. المطلوب: صياغة المشكلة في صورة البرمجة الخطية بدون حل؟

(٢) حدد قيم س١ و س٢ التي تحقق اعلي ربح باستخدام الحل البياني للبرمجة الخطية التالية:

تعظيم د(س) = ٨س١ + ١٣س٢ ،،،، بشرط أن:

$$\begin{aligned} ٤ \geq ١س١ & \quad ٦ \geq ٢س١ \\ ١٨ \geq ٢س٢ + ١س٣ & \quad ١٨ \geq ٢س٢ + ١س٣ \\ ١س١ ، ٢س٢ \leq ٠ & \end{aligned}$$

(٣) للبرمجة الخطية التالية: تعظيم د(س) = ٢س١ + ٣س٢ ،،،،، بشرط أن:

$$\begin{aligned} ١س١ + ٢س٢ \geq ٦٠ & \quad ١س١ + ٢س٢ \geq ١٨ \\ ٣س١ + ١س٢ \geq ٤٤ & \quad ١س١ ، ٢س٢ \leq ٠ \end{aligned}$$

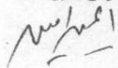
حل مشكلة البرمجة الخطية باستخدام طريقة سمبلكس ؟ أوجد المشكلة البديلة للمشكلة الأصلية ؟ ثم أوجد حل المشكلة البديلة؟
(٤) تم استخدام طريقة سمبلكس لحل مشكلة برمجة خطية بها متغيرين قرارين س١، وس٢، والجدول التالي هو الجدول الأخير لطريقة سمبلكس لحل هذه المشكلة:

المتغيرات الأساسية	س١	س٢	س٣	س٤	الثوابت
س١	١	٠	١.٥	١-	٧٠
س٢	٠	١	٢-	٢	١٦
- د(س)	٠	٠	٣-	٦-	١٢٥٠-

بدون حل تفصيلي استخدم هذا الجدول لايجاد الجدول الأخير لطريقة سمبلكس لحل المشكلة البديلة ؟

مع أطيب التمنيات بالتوفيق

د. أيمن أمين



جامعة المنوفية

الزمن: ساعتان

كلية التجارة

التاريخ: 2016/6/7

امتحان اخر العام

مادة/ مبادئ التسويق

الفرقة الاولى

اجب عن الاسئلة التالية :

• السؤال الاول :

علق على مدى صحة او خطأ العبارات التالية :

- 1- يساهم النشاط الإنتاجي في خلق المنفعة المكانية للسلع.
- 2- الحاجات والرغبات الإنسانية وجهان لعملة واحدة
- 3- ليس هناك علاقة بين بحوث التسويق ونظام المعلومات التسويقية .
- 4- البرنامج التسويقي الفعال هو الذى يتناسب مع نوعية واحدة من سوق العملاء
- 5- لا يوجد نظام توزيع مادي مثالي يعظم من خدمة العملاء وتخفيض التكاليف

• السؤال الثانى:

- أن أحد المسئوليات الرئيسية لأدارة التسويق هي تحديد سعر المنتج أو خط المنتجات فى إطار استراتيجيات ديناميكية مختلفة.... فى ضوء هذه العبارة :
- 1- تناول بالشرح والتفصيل سياستين (التميز فى الاسعار)، (تسعير مجموعة السلع) كأحد أنواع سياسات التسعير .
 - 2- ماهى المتطلبات الاساسية التى تقع على عاتق مدير التسويق عند ادارة التوزيع المادى .

• السؤال الثالث:

تعتمد شركة "دالة" لانتاج الالبان عند تسويق منتجاتها على مدخل السوق الكلى حيث تعتبر هذا المدخل من المداخل التى تؤدى الى خفض التكاليف وذلك من خلال اتباع أسلوب التنميط والانتاج بكميات كبيرة ، ولكن مع مرور الوقت اتضح للشركة ان هناك نسبة كبيرة من المستهلكين لا يقبلون على منتجاتها بالشكل المناسب الذى يحقق لها الربح المطلوب فقرر مدير الشركة عقد اجتماع بينة وبين كلا من (مدير الإنتاج ، مدير التسويق ، مدير التمويل) للوقوف على أسباب انخفاض المبيعات فذكر مدير التمويل ان هذا المدخل هو الأنسب والأفضل لنوع المنتج التابع لشركتنا وقد ايدة فى ذلك رأى مدير الإنتاج ،

بينما اعترض مدير التسويق على هذا المدخل حيث انه غير مناسب ومن الأفضل الاعتماد على مدخل تقسيم السوق الى قطاعات وبخاصة استراتيجية معينة من استراتيجية المتبعة

في ضوء دراستك لأدارة التسويق وضح :

- 1- هل تؤيد رأى مدير التمويل ، ام مدير التسويق ؟ ...ولماذا؟ .
- 2- ماهى الاستراتيجية التى يرغب مدير التسويق تطبيقها فى حالة الاعتماد على مدخل تقسيم السوق الى قطاعات.
- 3- ماهى الوسائل التى تتبعها الشركة للترويج عن نوع المنتج الخاص بها لتحقيق الأرباح .

تمنياتنا بالتوفيق

/ د جمال الدين المرسى

د/ أبتسام احمد سلام

جامعة المنوفية

كلية التجارة - الشعبة العامة الفرقة الأولى

إمتحان : إدارة الخطر الشعبة العامة

الزمن ساعتان - اليوم ١٦ / ٦ / ٢٠١٦

على الطالب توزيع زمن الإمتحان ١٢٠ دقيقة (مائه وعشرون دقيقة) حسب درجة كل سؤال

ممنوع استعمال الموبايل

السؤال الأول : (٥ درجات)

بصفتك مديرا للخطر طلبت منك الشركة المتحده للغزل تحديد تكلفة خطر من ١٦ يناير ٢٠١٦ حتى اليوم في ضوء نصيحتك بتجنيب مبلغ ٩٥٠٠ جم وحساب معدل فائده ٨ % فإذا حصلت على المعلومات التالية :

القيمة الدفترية للاصول المعرضه للخطر ٧٠٠٠٠ جم بينما القيمة السوقية تزيد بضعف معدل الفائده .

تملك الشركة نظاما لتخفيض الخطر بنسبه ٣٠ % من كل حاله ستقدمه بإيجاز ٢٠ جم يوميا طوال المدة

سيتم شراء وثيقة تأمين بقسط ٢٨٠٠ جم وتقبل ٦٠ % من كل خطر بحد أقصى ٣٥٠٠٠ جم

حالات الخساره % ؟ - ٢٠ ؟ - ؟ ؟ - ٦٠ ؟ - ٨٠ ؟ - ٩٠ ؟

إجمال الخساره % ١٥ ٢٢ ٣٣ ١٨ ١٢

السؤال الثاني : (درجتان)

اكتب بحثاً فيما لايجاوز صفحتان (٣٠٠ كلمه تقريبا) عن إدارة أخطار السكك الحديدية .

السؤال الثالث : (٨ درجات بواقع درجتان لكل نقطه)

(١) يتم تعريف الخطر من خلال ٣ مجموعات رئيسيه ...، إشرح ذلك بالتفصيل .

(٢) تتصح الإدارة العلميه للخطر ضرورة وجود إدارة متخصصه للخطر في كل منشأه ...، مارأيك ؟

(٣) إشرح مع الرسم مصفوفة إدارة الخطر .

(٤) اذكر تعريفا لكل من : درجة الخطوره ...، الحادث ...، الخساره ...، مسببات الخطر وأنواعها .

مع أطيب التمنيات
م. م. م. م.

الإختبار النهائي للفصل الدراسي الثاني ٢٠١٦/٢٠١٥

جامعة المنوفية

كلية التجارة

قسم الاقتصاد والمالية العامة

المادة / مبادئ الاقتصاد الكلي

الفرقة: الأولى

النتظام - انتساب

التاريخ: ٢٠١٦/٥/٢٩
الزمن: ساعتان.

أجب عن جميع الأسئلة التالية مع استخدام الرسم كلما أمكن ذلك.

السؤال الأول (٥ درجات) :

- وضح مدى صحة أو خطأ العبارات التالية مع التعليق.
- ١- يشير مفهوم الناتج القومي الإجمالي إلى حساب قيم جميع السلع والخدمات المنتجة في الاقتصاد القومي خلال سنة.
 - ٢- تعتبر دالة الإستهلاك الكلي دالة تناقصية في مستوى الدخل.
 - ٣- كلما زاد الميل الحدي للإستهلاك انخفضت قيمة المضاعف.
 - ٤- يقرر الكلاسيك أن الإدخار يساوي الاستثمار عند أي مستوى للدخل القومي.
 - ٥- يزيد الناتج القومي الإجمالي عن الناتج القومي الصافي بحجم الضرائب المباشرة.
 - ٦- يعني التضخم الركودي إرتفاع كل من معدل التضخم والبطالة معاً.

السؤال الثاني (٥ درجات) :

- ١- إشرح مع الرسم الأثر النهائي علي المستوي التوازني للدخل إذا قررت الحكومة التدخل في النشاط الاقتصادي بفرض ضرائب بمقدار ١٠٠ مليون جنيهه وفي نفس الوقت زيادة الإنفاق الحكومي بنفس المقدار.
- ٢- ناقش دوافع الطلب علي النقود عند كل من كينز والكلاسيك، مع بيان الوظائف المختلفة للنقود.
- ٣- إشرح كل من الفجوة التضخمية والفجوة الانكماشية محدداً أهم أدوات السياسة الاقتصادية التي يمكن أن تساعد في علاج كل منهما .

السؤال الثالث (٥ درجات) :

- ١- إشرح دالة الإنفاق الاستثماري الخاص موضعاً أهم العوامل المحددة للقرار الاستثماري.
- ٢- ما هو تفسير المدارس الفكرية المختلفة لقياس معدل التضخم وتحقيق الاستقرار الاقتصادي؟

مع أطيب التمنيات بالتوفيق.

أ.د/ صقر أحمد صقر

أ.د/ علي شريف عبدالوهاب

جامعة المنوفية	إمتحان دور مايو ٢٠١٦	
كلية التجارة	مقرر : السلوك التنظيمى	الزمن: ساعتان
قسم إدارة الأعمال	الفرقة الأولى	

أجب عن الأسئلة الآتية:

السؤال الأول: علق على مدى صحة أو خطأ العبارات الآتية (٥ درجات)
(اكتب فى حدود ٦ سطور عن كل عبارة)

- ١- أسلوب العصف الذهنى يساعد فى حل المشكلات.
- ٢- المكونات الجسمانية فقط هى التى تكون الشخصية.
- ٣- المنهج الذاتى (التأمل الباطنى) يصلح لدراسة جميع حالات السلوك.
- ٤- هناك مجموعة من الإفتراضات تقوم عليها دراسة علم السلوك التنظيمى.
- ٥- دراسة سلوك الأفراد فى المنظمات يحقق العديد من المزايا.

السؤال الثانى: (٦ درجات)

- ١- ناقش السلوك المميز للشخصية الإبتكارية، مع شرح حواجز التفكير الإبتكارى.
- ٢- إشرح الإدراك كنظام فرعى من النظام السلوكى موضحاً العوامل المؤثرة فى الإدراك.

السؤال الثالث: (٤ درجات)

ناقش نظرية ماسلو للحاجات وأهم الإنتقادات الموجهة إليها مع توضيح كيفية الاستفادة منها فى مجال الإدارة.

مع أطيب التمنيات ...

أ . د . أحمد الحلح

Part I : Accounting

أجب على السؤال التالي : (٧,٥ درجة) ٦٠ دقيقة :

توافرت لديك الأرصدة التالية المستخرجة من ميزان المراجعة بعد التسويات لشركة ليلة القدر في ٢٠١٥/١٢/٣١ : (القيمة بالجنيه) :

أولا : أرصدة مدينة : ٨٠٠,٠٠٠ معدات - ٥٥٠,٠٠٠ مخزون بضاعة - ٣٨٠,٠٠٠ تكلفة البضاعة المباعة - ٧٠,٠٠٠ مردودات مبيعات - ١٦٥,٠٠٠ مصروف إهلاك معدات - ٨٠,٠٠٠ مصروف الفائدة - ١٥٠,٠٠٠ تأمين مدفوع مقدما - ٥٥٠,٠٠٠ أوراق القبض - ١٣٥,٠٠٠ مصروف الإيجار - ٣٢٠,٠٠٠ مصروف المرتبات - ٧٥٠,٠٠٠ نقدية - ٢٥٠,٠٠٠ مصروف دعاية وإعلان.


ثانيا : أرصدة دائنة : ١,٤٥٠,٠٠٠ إيراد المبيعات - ١٣٠,٠٠٠ حسابات الدفع - ١٣٠,٠٠٠ إيراد غير مكتسب - ٢,٠٠٠,٠٠٠ حقوق المساهمين - ٢٣٠,٠٠٠ مجمع إهلاك آلات - ٢٦٠,٠٠٠ مرتبات مستحقة.

المطلوب : إعداد مايلي باللغة الإنجليزية فقط :

- ١- ميزان المراجعة لشركة ليلة القدر في ٢٠١٥/١٢/٣١
- ٢- قائمة الدخل لشركة ليلة القدر عن العام المنتهي في ٢٠١٥/١٢/٣١
- ٣- الميزانية العمومية لشركة ليلة القدر في ٢٠١٥/١٢/٣١

مع أطيب التمنيات بالتوفيق والنجاح

د. حاتم الشعراوي



Part II Insurance (exam time for part II is 60 minutes)
The Professor did not agree on the use of Mobile

Q. 1) Find the meaning in English (2.5 degree)

Peril Hazard C&F Civil Commotion F.P.A.
F.O.B. Pure Risk Cost of Risk Exposure to Risk Safe Arrival

Q. 2) Rewrite the following Words & Translate to Arabic (25 words) 2.5 degrees

* Current Account	* Premium	* Arbitration
* Average Statement	* Condition of Average	* Bill of Entry
* Notice of Cancellation	* Insurance Contract	* Co-Insurance
* Floating Policy	* Physical Hazard	
* Insurance Broker	* Guarantee	* Declaration
* Due	* Damage Repairs	* Delivery Order
* Depreciation	* Damage by Explosion	* In Force
* Freight	* Fraction	
* Guaranteed Creditor	* Carrier	* Cover Note

س ٣ إنتقل الكلمات التاليه فى كراسة الإجابيه وترجمها إلى الإنجليزيه (٢٥ كلمه) ٢.٥ درجه

* تأمين بضائع	* حقائق ماديه	* خساره عموميه	* وكيل شحن
* خطر معنوى	* إشتعال ذاتى	* تأمين لجره الشحن	* إنتضاء أو إنتهاء
* جسم السفينه	* بطلان	* فى مخازن الجمرک	* خبير تأمين
* خصم	* يقدر الخطر	* مستخرج من السجل	* حوض جاف
* سمسره	* المؤمن له	* تقسيم السفن إلى درجات	* معادل ل . . .
* المصلحه فى التأمين	* الإختصاص القضائى	* مصلحه جزئيه	* خطر مثنئى
* المؤمن له			

مع اظن ايضا -
الكتابه
M

جامعة المنوفيه

امتحان مادة المصطلحات الجزء الثاني تأمين

كلية التجاره الشعبيه العامه

الفرقه الاولى الزمن ساعتان للجزئين يوم ٢٦ / ٦ / ٢٠١٦

Part II Insurance (exam time for part II is 60 minutes)
The Professor did not agree on the use of Mobile

Q. 1) 3 degrees

Define Insurance and how it operate ?

Q. 2) Find the meaning in English (5 terms) 1.5 degrees

C&F Peril Physical Hazard Morale Hazard F. P. A.

Q. 3) Rewrite the following words & Translate to Arabic (15 words) 1.5 degrees

* Freight	* Fraction	* Guarantee
* Guaranteed Creditor	* Carrier	* Declaration
* Sub-Agent	* Arbitration	* Bill of Sale
* Current Account	* Premium	* Arbitration
* Average Statement	* Condition of Average	* Bill of Entry

س ٤) إنتقل الكلمات التاليه فى كراسه الإجابيه وترجمها إلى الإجليزيه (١٥ كلمه) ١,٥ درجه

* المصلحه فى التأمين	* الإختصاص القضائى	* مصلحه جزئيه	* خطر منتثى
* حوض جاف	* يبرم تأمينا	* حريق	* حقائق ماديه
* تأمين بضائع	* حقائق ماديه	* خساره عموميه	* خطر معنوي
* إشتراك فى الخساره العموميه	* إشتعال ذاتى	* تأمين اجرة الشحن	

مع المصلحه فى التأمين
الحق
mm



Faculty of Commerce,
Accounting Department, English Section.

Time: 2 Hours.

(number of pages: Two)

June, 2016

Cost Accounting 2 (code: 2301) Final Exam, Spring Semester, 3rd Year Students.

(Answer the following questions & Indicate all the necessary calculations)

Question 1: (5 marks)

Mount Carmel Company sells only two products, Product A and Product B.

	Product A	Product B	Total
Selling price	\$40	\$50	
Variable cost per unit	\$24	\$40	
Total fixed costs			\$840,000

Mount Carmel sells two units of Product A for each unit it sells of Product B. Mount Carmel faces a tax rate of 30%.

Required:

- What is the breakeven point in units for each product assuming the sales mix is 2 units of Product A for each unit of Product B?
- What is the breakeven point if Mount Carmel's tax rate is reduced to 25%, assuming the sales mix is 2 units of Product A for each unit of Product B?
- How many units of each product would be sold if Mount Carmel desired an after-tax net income of \$73,500, facing a tax rate of 30%?

Question 2: (5 marks)

Alfred, owner of Hi-Tech Fiberglass Fabricators, Inc., is interested in using the reciprocal allocation method. The following data from operations were collected for analysis:

Budgeted manufacturing overhead costs:

Plant Maintenance	PM (Support Dept)	\$350,000
Data Processing	DP (Support Dept)	\$ 75,000
Machining	M (Operating Dept)	\$225,000
Capping	C (Operating Dept)	\$125,000

Services furnished:

By Plant Maintenance (budgeted labor-hours):

to Data Processing	3,500
to Machining	5,000
to Capping	8,200

By Data Processing (budgeted computer time):

to Plant Maintenance	600
to Machining	3,500
to Capping	600

Required: What is the total cost per , and the per labor-hour of each of the operating departments?

..... continue.

Qestion 3: (5 marks)

- (A) Explain the difference between a joint product and a byproduct. Can a byproduct ever become a joint product?
- (B) In your view, What are the reasons that joint costs should be allocated to individual products or services?
- (C) Farah's Food manufacturing Inc., processes the mango fruit into three products: A, B, and C. During February, the joint costs of processing were \$240,000. Production and sales value information for the month is as follows:

Product	Units Produced	Sales Value at Splitoff Point
A	6,000 liters	\$60,000
B	6,000 liters	50,000
C	3,000 liters	25,000

Required: Determine the amount of joint cost allocated to each product if the physical-measure method is used.

..... end of the question

Best Wishes



Menoufia University

Faculty of Commerce Final Exam 2015-2016

Year one English section Partnership Accounting 12-6-2016

Answer the following questions

Question 1 (4.5 grades, 35 minutes)

Mohamed and Samir have a partnership agreement which includes the following provisions regarding sharing net income or net loss: A salary allowance of \$40,000 to Mohamed and \$45,000 to Samir. An interest allowance of 5% on capital balance at the beginning of the year. The remainder to be divided 60% to Mohamed and 40% to Samir.

The capital balance on January 1, 2010, for Mohamed and Samir was \$200,000 and \$220,000, respectively. The drawings during the year are 20000 for Mohamed and 30000 for Samir. During 2010, the Mohamed and Samir Partnership had total sales of \$800,000, cost of goods sold of \$300,000, sales return and allowance 100000, operating expenses of \$100,000, and other gains of 50000.

Instructions

1. Prepare an income statement for the Mohamed and Samir Partnership
2. Indicate the division of net income to each partner and prepare the entry to distribute the net income.
3. Prepare the partners' capital statement for the year.

Question 2 (2.5 grades, 20 minutes)

Samy and Amr share partnership income on a 3:2 basis. They have capital balances of \$560,000 and \$280,000, respectively, when Aly is admitted to the partnership.

Instructions

Prepare the journal entry to record the admission of Aly under each of the following assumptions:

1. Aly invests \$320,000 for a 25% ownership interest.
2. Aly invests \$220,000 for a 25% ownership interest.
3. Aly invests an amount that gives him a 25% ownership interest.

Question 3 (4 grades, 35 minutes)

The Atlas Company at December 31, 2012 has cash \$50,000, noncash assets \$250,000, liabilities \$138,000, and the following capital balances: Ahmed \$112,000 and Hatem \$50,000. The firm is liquidated, and \$265,000 in cash is received for the noncash assets.

Ahmed and Hatem income ratios are 60% and 40%, respectively.

Instructions

1. Prepare the schedule of cash payments.
2. Prepare the entries to record the liquidation of a partnership.

Question 4 (2 grades, 15 minutes)

Hala, Ahlam, and Maha have capital balances of \$150,000, \$100,000, and \$75,000, respectively, and their income ratios are 2:1:3.

Instructions

Record the withdrawal of Maha from the partnership under each of the following assumption:

1. Maha is paid \$93,000 from partnership assets.
2. Hala purchased Maha's capital interest with the amount of \$70,000.

Question 5 (2 grades, 15 minutes)

Hamilton and Rossi decide to form a partnership. Hamilton invests \$35,000 cash, \$150,000 building with an accumulated depreciation of 50,000, and accounts receivable of \$30,000 with allowance for doubtful accounts of \$2,000. Rossi contributes \$25,000 cash, \$30,000 notes receivable and equipment having a \$6,000 book value. It is agreed that the allowance account should be \$3,000 and the fair value of the equipment is \$10,000 and notes receivable is 24,000.

Instructions

Prepare the necessary journal entry to record the formation of the partnership.

With our best wishes

Prof. dr. Radwan & Dr. Wahdan

2016/6/26
الزمن : ساعتان
الفرقة الأولى

امتحان دور مايو
العام الجامعي 2016/2015 م
المادة: مصطلحات تجارية بلغة أجنبية (1)

جامعة المنوفية
كلية التجارة
قسم المحاسبة

(part 1)

Accounting

Question 1 : (4.5 marks)

Mohamed Ali opened his own law office on September 1, 2015. During the first month of operations, the following transactions occurred.

Sep.1- Invested LE 10,000 in cash in the law practice.

2- Purchased office equipment on account LE 3,000.

9 - Provided legal services to clients for cash LE 1500 and on account LE 2000.

14 - Borrowed LE 700 cash from a bank on a note payable.

25 - Purchased tools for LE 1000 cash.

30 -Paid monthly expenses: rent LE 800, salaries LE 900, utilities LE 200, and telephone LE 100.

Instructions:

(a)Prepare Journal entries for the month of September.

(b)Prepare the income statement, owner's equity statement, and balance sheet at september 31, for Mohamed Ali Attorney at Law.

Question 2 : (3 marks)

The trial balance of Ahmed Company shows the following accounts balance at 30 April, 2015:

Prepaid insurance LE 3600 - Equipment LE 28000 - Salaries LE 13500. Analysis reveals the following data:

1-Prepaid insurance is the cost of insurance policy for a 2-year, effective April 1.

2-Depreciation of the equipment is LE 500 per month.

3-Salaries per day are LE 500.

Instructions:

Prepare the adjusting entries for the month of April.

Good luck

Prof. Dr. Mohamed Zedan
D. Mohamed Abd-Elmaksoud



Menoufia university
Faculty of commerce
Business Administration Dept.
Date: 21-6-2016

Final Exam, 2016
Course: O.B
Time: Two hours

Answer the following questions:

Part One: Define the following terms

1. Internal and external locus of control
2. Motivation and Equity sensitivity
3. Organizational socialization
4. Distributive and procedural justice
5. Conflict and negotiation


Part Two:

1. Identify the factors affecting ethical behavior?
2. List the seven habits of highly effective people?
3. Identify Kotter's steps for leading organizational change?
4. Identify barriers to manage diversity in organization?

Part Three:

1. Explain the five conflict-handling styles and how can managers build cross-cultural relationship?
2. Explain ERG theory of motivation?
3. Explain the three phases model of organizational socialization?

Best wishes
Prof. Dr. Shawky





Final Exam

Faculty of Commerce
Economic Department
English Section

2nd- term (2015/2016)
Course: Macro- Economics
First year

29/5/2016
Time: 2 Hours

Answer the following questions and use graphs if possible:

Question One:

From the information in the table below, calculate the following concepts:

Personal consumption	1,344	a. Gross domestic product
Investment	456	
Net nonbusiness interest income	270	b. Gross national product
Government purchases	480	
Profit	406	c. Net domestic product
Employee compensation	1,520	
Net exports	24	d. National income
Rents	2	
Depreciation	278	e. Personal income
Indirect business taxes	156	
Corporate retained earnings	249	f. Disposable personal income
Net foreign factor income	5	
Interest	98	
Social Security taxes	150	
Transfer payments	300	
Personal taxes	214	
Statistical discrepancy	0	

Question Two:

Compare between the following:

- Recessionary and inflationary gaps and the impact of fiscal and monetary policies.
- The cyclical, structural unemployment and potential output.
- Keynesian and classical policy for growth. What are the sources and policies for growth?
- Assumptions of AS /AD models.
- The multiplier and the marginal propensity to consume.

Question Three:

- When you deposit \$10000 in your current account with 10% interest rate and 20% reserve ratio. Calculate the final effect on money supply, credit loans, and the total of reserves.
- Explain the case of synchronization between inflation and unemployment in an economy.

Question Four:

If you have the following data:

AS(GDP)	Government expenditure	investment	Net exports	MPC
4150	150	112.5	- 150	0.75
4250				
4350				
4450				
4650				
4750				

Calculate: The AD, consumption levels, the multiplier and economic equilibrium.



Then: If the government spending increased by = LE 50 What are its impacts on AD and the new Equilibrium?

With our best wishes,

Prof. Dr. Sakr Ahmed Sakr

Dr. Sayed Taha

Dr. Wafaa Shehata



Exam Time is 120 minutes
The Professor did not agree on the use of Mobile

Q. 1) 6 degrees :

Find the cost of a risk started Jan.1st, 2016 to date if you have the following :

- ◇ T. P. A. = L.E. 100,000 (B. V.) & M. V. is higher by the triple of interest rate .
- ◇ Your advise is "retain" L.E. 4500 and "buy" an insurance policy to transfer 40% of each loss with upper limit L.E. 35000
- ◇ A "Rent daily System" available with daily rent L.E. 22 to reduce the cost of risk by 25%.
- ◇ Loss Limits % ? - 15 ? - ? 40 - ? 60 - ? 80 - ?
- ◇ Probability % 17 25 28 20 10

Q. 2) 3 degrees :

Type the search of " Risk Management in Trains " .

Q. 3) 6 degrees :

- (a) From your study of risk management , Explain the following table :

Method	Cost of Method	Cost of Risk
1	12217	450000
2	37217	450000

- (b) Risk is defined as 1) 2) 3) 4)

- (c) Distinguish between "Objective Risk" & "Subjective Risk"

- (d) "Risk can be classified into several distinct categorize", Explain

Good luck
mm

Q1. True or false statements - without comment (4 marks):

- () Convenience products are less frequently purchased goods and services that customers compare carefully on suitability, quality, price, and style.
- () Market Segmentation can be applied only to consumer markets.
- () Consumer buying behavior is the buying behavior of final consumers (individuals and households) who buy goods and services for personal consumption.
- () Marketing stimuli consist of the four Ps: product, price, place, and promotion.
- () Marketers are always trying to spot cultural shifts so as to discover new products that might be wanted
- () Complex buying behavior occurs under conditions of low-consumer involvement and little significant brand difference.
- () The company should recognize and reward intermediaries who are performing well and adding good value for consumers.
- () Companies can set prices low to prevent competition from entering the market or set prices at competitors' levels to stabilize the market.
- () The first stage of consumer buying behavior process starts with information search.
- () Demographic segmentation divides buyers into different segments based on social class, lifestyle, or personality characteristics.
- () A target market consists of a set of buyers who share common needs or characteristics that the company decides to serve.
- () Undifferentiated marketing targets focuses on a small share of a large market. It is an appropriate marketing approach for limited company resources.
- () Good-value pricing offers the right quality at a fair price.
- () Variable costs are the cost that do not vary with the levels of production or sales.
- () Direct marketing channels contain one or more intermediary levels; the company sells through one or more intermediaries.
- () Personal selling is the short-term incentive to encourage the purchase of a product or service. It includes discounts, coupons, displays, free samples, and demonstrations.

Q.2 Complete each of the following statements by the right answers (7 marks):

2.1 Among the elements of the promotion mix are:

- a-
- b-
- c-

2.2 Channel management decisions require the following steps:

- a-
- b-
- c-
- d-

2.3 The distribution Channel levels include:

- a-
- b-

2.4 Consumer goods can be classified by how consumers buy them into the following:

- a-
- b-
- c-
- d-

2.5 Companies need to consider many factors when choosing a market-targeting strategy.

Among these factors are:

- a-
- b-
- c-

2.6 Market targeting can be carried out at several different levels as follows:

- a-
- b-
- c-

2.7 Among the segmentation bases that can be used to segment the consumer market are:

- a-
- b-
- c-

Q.3 Marketing Application (4 marks):

Ahmed Fathy opened his business in New Cairo City in 2010. He began by acquiring two contracts for office cleaning services from two local companies. For two years, Ahmed performed the cleaning services alone. After acquiring three additional cleaning contracts in 2013, he hired 2 employees. Up to that point, the business had a chance to grow, but without advertising plan. he was relying mostly on word -of- mouth. By 2015. Ahmed hired 2 full time employees to begin new endeavor; carpet cleaning in homes and offices. By that time competition was getting tough, then Ahmed decided to run local radio spot three times each week followed by an advertiser print coupons on placement which gave him and his business a little more exposure. Ahmed may admit that he never realized the value of sound promotional plan before. He wishes he would have put together something catchy before now.

Required:

1. Which elements of the promotional mix maybe effective for the business company?
2. Is the company effectively implementing integrated marketing communication?
3. What type of promotional appeal can enhance the company success? Why?
4. What is the right method of setting promotional budget for this type of business? Why?

GOOD LUCK



Answer ALL the following questions

Question One: (6 marks)

- In quantitative analysis approach, business analytics is often broken into three categories:
 - Briefly define the quantitative analysis and write its approach steps **without** details?
 - Briefly discuss the three categories of business analytics?
- Researcher aims to investigate the relationship between roadway surface temperature (x) and pavement deflection (y). Summary quantities were computed for 20 observations of "x" and "y" as: $n = 20, \sum x = 357, \sum y = 110, \sum (x - \bar{x})^2 = 1065, \sum (y - \bar{y})^2 = 78, \sum (x - \bar{x})(y - \bar{y}) = 226$.
Based on these summary quantities, answer the following questions:
 - Use the correlation coefficient to investigate the relation between "x" and "y"?
 - Estimate the regression coefficients with explaining its meanings?
 - Compute the coefficient of determination and explain its meaning?
 - In brief, what the difference between the correlation coefficient and the coefficient of determination, and when can we use each one of them?
- Company has three sources of production and three destinations. The shipping cost per unit, supply and demand are provided in the following table:

From \ To	Destination 1	Destination 2	Destination 3	Supply
Source 1	\$10	\$12	\$10	200
Source 2	\$12	\$14	\$13	250
Source 3	\$13	\$11	\$16	300
Demand	400	200	150	750

- How to ship the units from the sources to destinations aiming to achieve minimum cost?
- What is the total cost of transportation?

Question Two: (9 marks)

- Person needs at least 60 units of carbohydrates, 45 units of protein and 30 units of fat each month. His meal is composed of two types of foods: A and B. Each gram of food A contains 5 units of carbohydrates, 3 units of protein and 4 units of fat. Each gram of food B contains 2 units of carbohydrates, 2 units of protein and 1 unit of fat. Food A costs \$1.3 per gram and food B costs \$0.80 per gram. It is required to determine how many grams of each type of food he should buy each month in order to keep costs at a minimum while maintaining the minimum nutrition contents mentioned above. Formulate the Linear Programming (LP) problem **without** solution?
- Solve **graphically**: Maximize profit = \$15X + \$24Y
Subject to: $X + 2Y \leq 110$ $X + 4Y \leq 160$ $X, Y \geq 0$
- For the LP problem: Maximize profit = \$93X + \$262Y
Subject to: $2X + 5Y \leq 150$ $3X + 4Y \leq 180$ $X, Y \geq 0$
 - Solve the problem using **Simplex** method? b) Find the dual problem? c) Solve the dual problem?
- Simplex method is used to solve LP problem with two decision variables "x" and "y", the following table is the last table of the Simplex method to solve this problem:

Basic Variables	X	Y	T	C	Constants
X	0	1	2	-1	70
Y	1	0	-0.75	0.5	35
-profit	0	0	-6	-3	-1230

Without detailed solution, use this table to find the last table of Simplex method to solve the dual problem?

Wishing you All the best of luck,,,

Dr. Ayman Amin



Final Exam

Faculty of Commerce
Economic Department
English Section

2nd- term (2015/2016)
Course: Macro- Economics
First year

29/5/2016
Time: 2 Hours

Answer the following questions and use graphs if possible:

Question One:

From the information in the table below, calculate the following concepts:

Personal consumption	1,344	a. Gross domestic product
Investment	456	
Net nonbusiness interest income	270	b. Gross national product
Government purchases	480	
Profit	406	
Employee compensation	1,520	c. Net domestic product
Net exports	24	
Rents	2	
Depreciation	278	d. National income
Indirect business taxes	156	
Corporate retained earnings	249	
Net foreign factor income	5	e. Personal income
Interest	98	
Social Security taxes	150	f. Disposable personal income
Transfer payments	300	
Personal taxes	214	
Statistical discrepancy	0	

Question Two:

Compare between the following:

- Recessionary and inflationary gaps and the impact of fiscal and monetary policies.
- The cyclical, structural unemployment and potential output.
- Keynesian and classical policy for growth. What are the sources and policies for growth?
- Assumptions of AS /AD models.
- The multiplier and the marginal propensity to consume.

Question Three:

- When you deposit \$10000 in your current account with 10% interest rate and 20% reserve ratio. Calculate the final effect on money supply, credit loans, and the total of reserves.
- Explain the case of synchronization between inflation and unemployment in an economy.

Question Four:

If you have the following data:


AS(GDP)	Government expenditure	investment	Net exports	MPC
4150	150	112.5	- 150	0.75
4250				
4350				
4450				
4650				
4750				

Calculate: The AD, consumption levels, the multiplier and economic equilibrium.

Then: If the government spending increased by= LE 50 What are its impacts on AD and the new Equilibrium?

With our best wishes,

Prof. Dr. Sakr Ahmed Sakr



Dr. Sayed Taha



Dr. Wafaa Shehata





كلية التجارة
قسم المحاسبة

امتحان مادة:	محاسبة شركات الأشخاص	التاريخ:	٢٠١٦/٦/١٢ م
الفرقة الدراسية:	الأولى	الزمن:	ساعتان (١٠-١٢) صباحاً
الفصل الدراسي:	الثاني (٢٠١٥/٢٠١٦ م)	عدد صفحات الامتحان:	صفحتان

أجب عن السؤالين التاليين:

السؤال الأول: (٧.٥ درجة - ٦٠ دقيقة)

- (أ) أذكر بإيجاز أهم خصائص شركة التضامن موضعاً الفرق بين شركة التضامن وشركة التوصية البسيطة.
- (ب) على عمر وأحمد شركاء في شركة تضامن يتقسمون الأرباح والخسائر بينهم بالتساوي وانتدب الشركاء خبيراً لإعادة تقدير أصول والتزامات الشركة وإتتهت ملاحظات الخبير إلى مايلي:
- ١- رقم البضاعة يتضمن ٦٠٠٠ ج بضاعة أمانة للغير.
 - ٢- معدل إهلاك الأصول الثابتة بلغ ٩% بما يخالف المعدل السائد في الصناعة وهو ١٢% ولقد بلغ رصيد مخصص الإهلاك ١٨٠٠٠ ج.
 - ٣- بلغ رصيد إهلاك العقار ٢٨٠٠٠ ج علماً بأن قيمة الأرض ١٠٠٠٠٠ ج وتكلفة المبنى ١٨٠٠٠٠ ج.
 - ٤- القيمة الحالية لأوراق القبض ٣٠٠٠٠ ج والدفترية ٣٥٠٠٠ ج.
 - ٥- بلغت الديون المعدومة نحو ٣٦٠٠ ج والمشكوك في تحصيلها ٨٠٠٠ ج علماً بأن مخصص ديون مشكوك في تحصيلها قد بلغ ١٠٠٠٠ ج ورصيد المدينين ١٠٣٦٠٠ ج.
- المطلوب: إجراء قيود اليومية اللازمة وتصوير ح/ إعادة التقدير .

(ج) الشريكان س، ص شركاء في شركة تضامن رأس مالها ١٨٠٠٠٠٠ ج مقسم بالتساوي والفائدة على رأس المال ٥% وفائدة المسحوبات ٦% والفائدة على الحسابات الجارية أول ٤% والراتب الشهري للشريك ص بلغ ٤٥٠٠ ج، فإذا علمت أن:

- ١- صافي ربح العام بلغ ١٥٠٠٠٠ ج ورصيد مرتب الشريك ص بلغ ٣٦٠٠٠ ج.
- ٢- بلغت أرصدة الحسابات الجارية للشريكين في ١/١ من نفس العام للشريك س ٣٦٠٠٠ ج والشريك ص ٥٤٠٠٠ ج دائن.
- ٣- مسحوبات الشريكين س، ص بلغت ٣٦٠٠٠ ج و٤٥٠٠٠ ج ومتوسط فترة السحب ستة وثلاثة شهور للشريكين بالترتيب .

المطلوب: تصوير ح/ توزيع أ.خ وح/جاري الشركاء.

القرن خلف ←